



حكومة كردستان  
وزارة بمروردي - ريفهبريا كشتي با پروگرام و چاپممنيان



بیرکاری بو هه مووان



پولا ئیكى يا بنه رهتی

په رتوو كا قوتابی



ههلسهنگاندنا زانستی  
صبح بویا سولاقا

وهرگیران و گونجاندن  
عصام الدین عبید عمر

پیداچوونا چاپکرنی  
عصام الدین عبید عمر

پیداچوونا زمانی  
محمد عبدالله احمد

سه‌رپه‌رشتی هونه‌ری یی چاپی  
عثمان پیرداود کواز  
سعد محمد شریف صالح



# ناقهر پوك

١ به شى ٧ جووتبوون و هژمارتن: ژماره ژ ١ى ههتا ٥ى.

٢ به شى ٧ ژماره ژ ٦ى ههتا ٩ى پاشى سفر و دهه

٣ به شى ٧ ژماره ژ ١١ى ههتا ٣٠ى

٤ به شى ٧ كوّمكرن

٥ به شى ٧ ليدهركرن

٦ به شى ٧ چهند ريكهك بو كوّمكرن و ليدهركرنى

٧ به شى ٧ ژماره ههتا ٩٩ى



# ناقہ پروک

۸ بہشی؎ بہراوردکرن و ریژکرننا ژمارہیان

۹ بہشی؎ کوٲمکرن و لیڈہرکرن

۱۰ بہشی؎ پیقان و ئہندازہ

۱۱ بہشی؎ کہرت و دہم

۱۲ بہشی؎ کوٲمکرن و لیڈہرکرننا دہان

۱۳ بہشی؎ کوٲمکرن و لیڈہرکرننا دوو ژمارہیی؎ دوو رهنووسی.



## بهشی ۱ جووتببون و هژمارتن

- ۲ ..... لاپهړئ که سوکاران  
 ۳ ..... ئیک بو ئیک وانه یا ئیک  
 ۵ ..... پتر وکیتر وانه یا دوو  
 ۷ ..... ۱ و ۲ و ۳ دی نیاسم وانه یا سیی  
 ۹ ..... ۴ و ۵ دی نیاسم وانه یا چار  
 ۱۱ ..... ژماره یان دی ریژکه م وانه یا پینج  
 ۱۳ ..... پرسیاره کی دی شیکارکه م، نمونه یه کی دی پیکنیم وانه یا شه شی  
 ۱۵ ..... پیډاچوونا به شی ۱  
 ۱۶ ..... به ره قبوون بو نه زمونئ. به شی ۱



## بهشی ۲ ژماره ژ ۶ ی هه تا ۹ ی پاشی سفر و ده

- ۸ ..... لاپهړئ که سوکاران  
 ۹ ..... ۶ و ۷ دی نیاسم وانه یا ئیک  
 ۲۱ ..... ۸ و ۹ دی نیاسم وانه یا دوو  
 ۲۳ ..... سفری دی نیاسم وانه یا سیی  
 ۲۵ ..... ۱۰ ی دی نیاسم وانه یا چار  
 ۲۷ ..... ژماره یان دی ریژکه م وانه یا پینج  
 ۲۹ ..... پرسیاره کی دی شیکارکه م، نمونه یه کی دی پیکنیم وانه یا شه شی  
 ۳۱ ..... پیډاچوونا به شی ۲  
 ۳۲ ..... به ره قبوون بو نه زمونئ. به شی ۲





## ژماره ژ ۱۱ ای هتا ۳۰

## بهشی ۳


- ۳۴ ..... لاپه پری که سوکاران  
 ۳۵ ..... کومه له ژ ۱۰ ای ..... وانه یا نیکی  
 ۳۷ ..... ژماره ژ ۱۱ هتا ۱۵ ..... وانه یا دووی  
 ۳۹ ..... ژماره ژ ۱۶ هتا ۲۰ ..... وانه یا سیی  
 ۴۱ ..... پرسیاره کی دی شیکار که م. دی خه ملینم ..... وانه یا چاری  
 ۴۳ ..... ژماره ژ ۲۱ هتا ۲۵ ..... وانه یا پینجی  
 ۴۵ ..... ژماره ژ ۲۶ هتا ۳۰ ..... وانه یا شهشی  
 ۴۷ ..... ..... پیداجوونا بهشی ۳  
 ۴۸ ..... به ره هقبوون بوئه زموونی. بهشی ۳



## کو مکرن

## بهشی ۴

- ۵۰ ..... لاپه پری که سوکاران  
 ۵۱ ..... چهند چیرۆکه ک ل سهر کو مکرنی ..... وانه یا نیکی  
 ۵۳ ..... ئەز دی کو مکهم ..... وانه یا دووی  
 ۵۵ ..... سفره کی دی زیده که م ..... وانه یا سیی  
 ۵۷ ..... ژماره یان دی پیکنی ..... وانه یا چاری  
 ۵۹ ..... ب ستوونی دی کو مکهم ..... وانه یا پینجی  
 ۶۱ ..... پرسیاره کی دی شیکار که م، رسته یه کا کو مکرنی دی نقیسم .. وانه یا شهشی  
 ۶۳ ..... ..... پیداجوونا بهشی ۴  
 ۶۴ ..... به ره هقبوون بوئه زموونی. بهشی ۴



## بهشی ۵ لیده رکن

- ۶۶ .....  
 ۶۷ ..... چهند چیرۆکهك ل سهر لیده رکنی  
 ۶۹ ..... ئەز دی لیده رکه م  
 ۷۱ ..... رسته یه کا لیده رکنی دی نقیسم  
 ۷۳ ..... هه مییان دی لیده رکه م یان چو لیده رناکه م  
 ۷۵ ..... ژمیانا ۱۰ ی دی لیده رکه م  
 ۷۷ ..... پرسیاره کی دی شیکارکه م. نمونه یه کی دی پیکینم  
 ۷۹ .....  
 ۸۰ ..... به ره ه قبوون بو ئەزموونی. بهشی ۵


- لا په ری که سوکاران  
 وانه یا ئیکی  
 وانه یا دووی  
 وانه یا سییی  
 وانه یا چاری  
 وانه یا پینجی  
 وانه یا شهشی  
 پیداجوونا بهشی ۵  
 به ره ه قبوون بو ئەزموونی. بهشی ۵



## بهشی ۶ چهند ریکهك بو کۆمکنی و لیده رکنی

- ۸۲ .....  
 ۸۳ ..... به ره ف پیش دی هژمیرم  
 ۸۵ ..... دوو هنده دکه م  
 ۸۷ ..... ژ میانا ۱۰ ی دی کۆ مکه م  
 ۸۷ ..... به ره ف پاش دی هه ژمیرم  
 ۸۷ ..... کۆمکن و لیده رکنی دی پیکه ف گریده م  
 ۸۷ ..... راستیین پیکه ف گریدای یین لیده رکنی  
 ۸۹ ..... پرسیاره کی دی شیکارکه م. کردارا گونجای دی هلبژیرم  
 ۹۳ .....  
 ۹۴ ..... به ره ه قبوون بو ئەزموونی. بهشی ۶

- لا په ری که سوکاران  
 وانه یا ئیکی  
 وانه یا دووی  
 وانه یا سییی  
 وانه یا چاری  
 وانه یا پینجی  
 وانه یا شهشی  
 وانه یا ههفتی  
 پیداجوونا بهشی ۶  
 به ره ه قبوون بو ئەزموونی. بهشی ۶





## بہشی ۷ ژمارہ ہتا ۹۹ ی

۱۰۰	لاپہری کھسوکاران
۱۰۱	وانہیا ئیکئی
۱۰۳	وانہیا دووی
۱۰۵	وانہیا سیئی
۱۰۷	وانہیا چاری
۱۰۹	وانہیا پینجی
۱۱۱	پیداچونا بہشی ۷
۱۱۲	بہرہقبوون بوئہ زموونی. بہشی ۷



## بہشی ۸ بہراوردکرن و ریژکرن ژمارہیان

۱۱۴	لاپہری کھسوکاران
۱۱۵	وانہیا ئیکئی
۱۱۷	وانہیا دووی
۱۱۹	وانہیا سیئی
۱۲۱	وانہیا چاری
۱۲۳	وانہیا پینجی
۱۲۵	وانہیا شہشی
۱۲۷	وانہیا حفتی
۱۲۹	پیداچونا بہشی ۸
۱۳۰	بہرہقبوون بوئہ زموونی. بہشی ۸



## بہشی ۹ کومکرن و لیڈہرکرن

۱۳۲ .....	لاپہرئ کھسوکاران
۱۳۳ ..... بہرہف پاش دئ ہژمیرم	وانہیا ٹیکئ
۱۳۵ ..... ب چہندی پترہ؟	وانہیا دووی
۱۳۷ ..... دئ کومکھم و لیڈہرکھم	وانہیا سیئی
۱۳۹ ..... پرسیارہکئ دئ شیکارکھم. وینہیہکی دئ کیشم	وانہیا چاری
۱۴۱ .....	پیداچوونا بہشی ۹
۱۴۲ .....	بہرہہقبوون بوئہزموونی. بہشی ۹



## بہشی ۱۰ پیقان و ئەندازہ

۱۴۴ .....	لاپہرئ کھسوکاران
۱۴۵ ..... دریژیان دئ بہراوردکھم	وانہیا ٹیکئ
۱۴۷ ..... ب چ دئ پیقم؟	وانہیا دووی
۱۴۹ ..... تہنن ئەندازہیی	وانہیا سیئی
۱۵۱ ..... شیوہیین ئەندازہیی	وانہیا چاری
۱۵۳ ..... سہر و لا	وانہیا پینجئ
	وانہیا شہشی
	پرسیارہکئ دئ شیکارکھم:
۱۵۵ ..... دہرئہنجامئ ژیربیژی دئ بکارئینم	
۱۵۷ .....	پیداچوونا بہشی ۱۰
۱۵۸ .....	بہرہہقبوون بوئہزموونی. بہشی ۱۰



## بەشى ۱۱ كەرت و دەم

۱۶۰ .....	لاپەرى كەسوكاران
۱۶۱ ..... نيڧ	وانەيا ئىكى
۱۶۳ ..... چارىك	وانەيا دووى
۱۶۵ ..... دەمژمىرى دى خوينم	وانەيا سىيى
۱۶۷ ..... پرسيارەكى دى شىكاركەم: نمونەيەكى دى ھەلبژىرم ...	وانەيا چارى
۱۶۹ .....	پىداچوونا بەشى ۱۱
۱۷۰ .....	بەرھەقبوون بۇ ئەزمونى. بەشى ۱۱



## بەشى ۱۲ كۆمكرن و لىدەركرنا دەھان


۱۷۲ .....	لاپەرى كەسوكاران
۱۷۳ ..... دەھى دى تەمامكەم	وانەيا ئىكى
۱۷۵ ..... ۳ ژمارەيان دى كۆمكەم	وانەيا دووى
۱۷۷ ..... دەھان دى كۆمكەم	وانەيا سىيى
۱۷۹ ..... دەھان دى لىدەركەم	وانەيا چارى
۱۸۱ ..... دى كۆمكەم دا لىدەرىكەم	وانەيا پىنجى
۱۸۳ ..... پرسيارەكى دى شىكاركەم. كردارى دى ھەلبژىرم .....	وانەيا شەشى
۱۸۵ .....	پىداچوونا بەشى ۱۲
۱۸۶ .....	بەرھەقبوون بۇ ئەزمونى. بەشى ۱۲



# بەشى ۱۳ كۆمكرن و لىدەركرنا دوو


## ژمارەيىن دوو رەنووسى

۲۰۶ .....	لاپەرى كەسوكاران
۲۰۷ .....	وانەيا ئىكى
۲۰۹ .....	وانەيا دووى
۲۱۱ .....	وانەيا سىيى
۲۱۲ .....	وانەيا چارى
	وانەيا پىنچى
۲۱۵ .....	دەرئەنجامى ژىربىژى دى بكارئىنم
۲۱۷ .....	پىداچوونا بەشى ۱۳
۲۱۸ .....	بەرەقبوون بوئەزموونى. بەشى ۱۳





# جووتبون و هرمارتن ژماره ژا ههتا ه







## نامہ پیک بو کسوکاران

کسوکارین خوششتی:

تہ فرود دی دست ب خواندنا بهشی (۱) ی کین، دی فیری  
 جووتبونی ل ناقبره را دوو کومه له یین تشتان بین، هر وه سا دی فیری  
 نفیسین وریز کرنا ژماره یان بین ژ سفری هه تا (۵) ی. تہق لاپره  
 هنده ک زاراقین بیرکاری یین نوی و بزاق و چالاکیان  
 ب خوڤه دگریت، پیکقه ل مال دی بی راین.

زاراقین نوی

پتر

کیمتر

هه مان ژماره

دگه ل فیانا مه

## چ ا ل ا ک ی

داخواری ژ زاروکی خو بکه دگه ل ته بهژمیريت.  
 ل ده می نانخواری داخواری ژ ی بکه  
 جووتبونی د ناقبره را دوو کومه له یین تشتاندا  
 بکه ت، وه ک کهچک و سینیکان، دا تیبینی بکه ت  
 کیژ وان پترن و کیژ وان کیمترن و کیژ وان  
 هه مان ژماره هه نه.

## زاراق



کیمتر

پتر

چویچک پترن ژ خانیان  
 خانی کیمترن ژ چویچکان.






هه مان ژماره

ژماره یا میشین هنگفینی هه مان  
 ژماره یا گولانن. چهند میشین  
 هنگفینی دبینم؟ سی میشین  
 هنگفینی دبینم.

# ئىك بو ئىك

وانهيا ۱






ھىلەكى دى وىنەكەم دا ھەر ماسىيەكى بگەھىنمە ئامانى وى.  
پاكيٲىن ھەر ئىك ژ گيانەوهران دى رەنگكەم.








# راهینانی دکهم








				



چالاکیا مال • کۆمهلهیهکا تشتان ئاماده  
بکه، داخوایی ژ زاروکی خو بکه کۆمهلهیهکی  
پیکهینیت، هه مان ژمارهیا دانهیان هه بیت.




هیلهکی دی وینهکهم دا هه ماسییهکی  
بگههینمه ئامانی وی.

پاکیتین هه ر ئیک ژ گیانهوهه ران دی رهنگهه م.



☆ ریزا پتر تیڈا دی دهوردهم.  
 ♥ ریزا کیمر تیڈا دی دهوردهم.

# راهینانی دکهم



چالاکیا مال • کۆمهلهیهکا تشتان ناماده بکه، داخوای ژ زاروکی خو بکه کۆمهلهیهکی پیگبهینیت، ژمارهیا دانهیین وی کیمتر بیت.

★ ریزا پتر تییدا دی دهوردهم.  
 🐸 ریزا کیمتر تییدا دی دهوردهم.



۱، ۲، ۳ دے نیاسم

وانہیا ۲



۳

سی



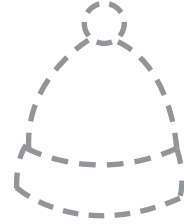
۲

دوو



۱

ئیک



۱



۲



۳

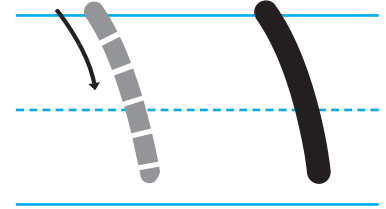
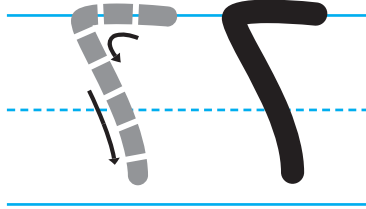
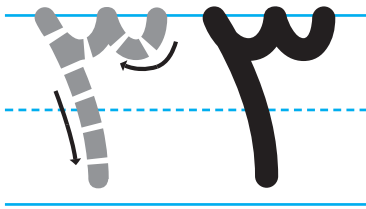


۲



۱

ژمارهیان دے خوینم، ہندک کولاقان دے وینہکہم یہکسان بن دگہل وی ژمارے.



Blank handwriting lines for practice, consisting of a solid top line, a dashed middle line, and a solid bottom line, repeated three times.



ترۆمبیلین شین



ترۆمبیلین زهر



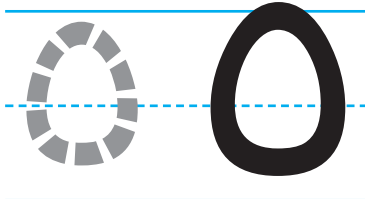
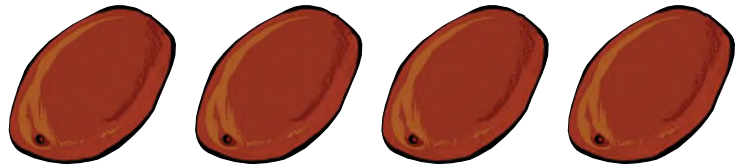
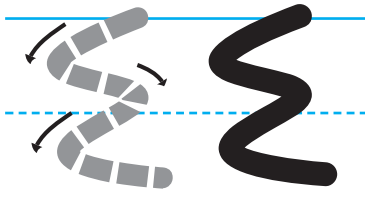
ترۆمبیلین سۆر

چالاکیا مال • داخوای ژ زارپۆکی خۆ بکه  
 کۆمهلهیین دوو تشت تیدا فهبینت، دیسان  
 داخوای ژ زارپۆکی خۆ بکه وان کۆمهلهیین  
 سی تشت تیدا فهبینت.

ژمارى دى نقيسم.   
 ترۆمبیلین هه مان پهنگ هه ی دى دهوردەم.   
 ژمارهیا ترۆمبیلین هه ر پهنگهکی دى نقيسم.

# ۴ و ۵ دے نیاسم



وانہیا ۴



۵ ۴ ۳

۵ ۴ ۳

۵ ۴ ۳



\_\_\_\_\_

\_\_\_\_\_

\_\_\_\_\_

\_\_\_\_\_

\_\_\_\_\_

\_\_\_\_\_

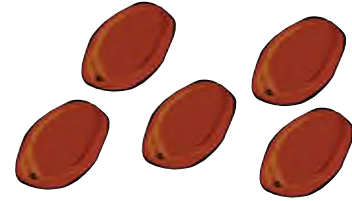


\_\_\_\_\_

\_\_\_\_\_

\_\_\_\_\_

۴ دے ہڑمیرم و ژمارے دے نقیسم.  
 ۵ ہر کومہ لہیکے دے ہڑمیرم، ژمارہیا گونجای دے دوردہم.  
 ۳ ہر کومہ لہیکے دے ہڑمیرم، ژمارہیا گونجای دے نقیسم.

# راهینانی دکهم



\_\_\_\_\_

-----

\_\_\_\_\_

\_\_\_\_\_

-----

\_\_\_\_\_

\_\_\_\_\_

-----

\_\_\_\_\_



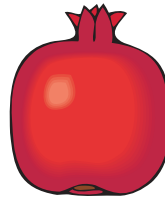
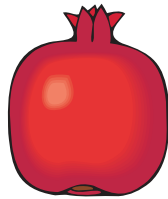
۵      ۴      ۳



۵      ۴      ۳



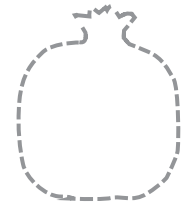

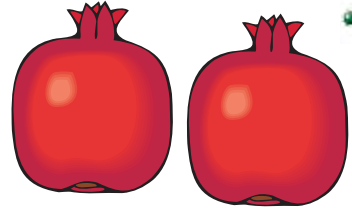
۵      ۴      ۳



\_\_\_\_\_

-----

\_\_\_\_\_



\_\_\_\_\_

-----

\_\_\_\_\_

\_\_\_\_\_

-----

\_\_\_\_\_



♥ کۆمهلهیهکا ژ ۴ هناران  
دی وینهکههه و ژماره  
دی نقیسم.

🐟 ههه کۆمهلهیهکی دی هژمیرم، ژمارهیا گونجای دی نقیسم.  
🌸 ههه کۆمهلهیهکی دی هژمیرم، ژمارهیا گونجای دی دهوردهه  
🌟 🐢 هنارین زیدهتر دی وینهکههه، دا ۴ هناران ب دهستخوقهبههینم.



# ژماره‌یان دی ریزکه‌م


وانه‌یا



هرچان د هەر ریزه‌کیدا دی هژمیږم و ژمارای دی نقیسم. 🌸 ❤️ ★ 🐢



# راهینانی دکهم



۴





۳



۲



۱



۳



۲

چالاکیا مال • چند کۆمهلهیان ژ ۱، ۲، ۳، ۴، ۵ پارچهیان دناف پینچ پهرداخین بچویدا پیکبینه، داخوازی ژ زاروکی خۆ بکه وان پهرداخان ریژ بکه ژ ۱ بو ۵ ی.

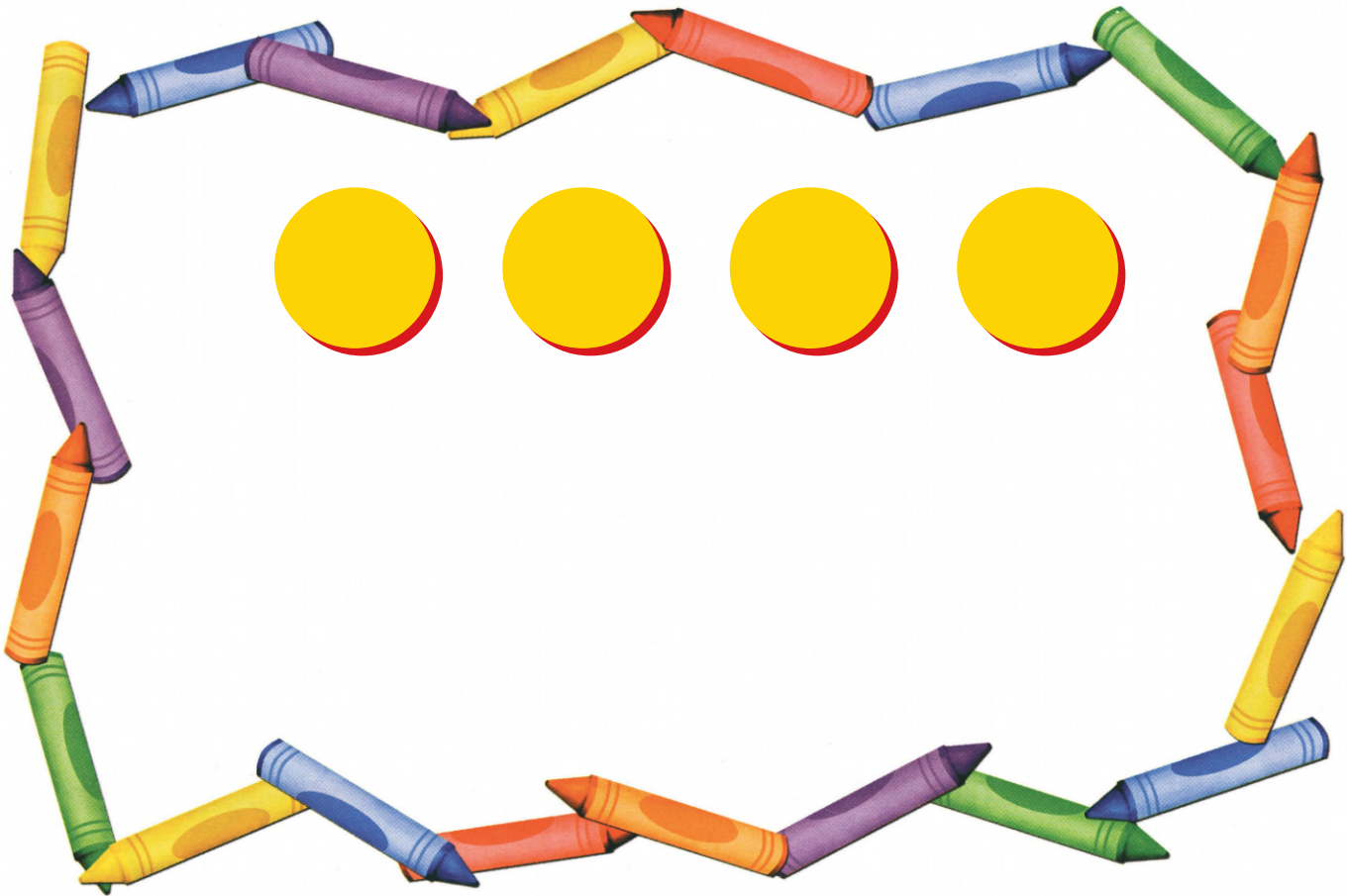



وینهیان دی ههژمیرم و ژمارهیان دئی خوینم، و ژمارهیا ددویقدا دی نقیسم.



# پرسیارہ کی دی شیکارکھم

نموونہیہ کی دی پیکئینم

وانہیا ۶



پهپکان دی بکارهینم دا کومہلہیا پتر دیاربکہم. دی وینہکہم و رہنگکہم.



چالاکیا مال • کۆمهلهیهکا تشتان دانه بهرچاڤین  
زارۆکی خو، داخوای زئی بکه کۆمهلهیا کیتر  
پیکبهینیت، بکارهینانا هندهک تشتین دی.



پهپکان دی بکارهینم بو دیارکرنا  
کۆمهلهیا کیتر. دی وینهکههه و  
رهنگههه.



# پیداچوون

بهشی ۱ ی

ناو



۵ ۴ ۳



۴ ۳ ۲



۵ ۴ ۳



۴ ۳ ۲



\_\_\_\_\_

-----

\_\_\_\_\_



۴



۳

ژمارهيا گونجاي ديں دهوردهم. ♥ ★ 🐢 🐟

سيقان ديں هه ژميرم و ژمارهيان ديں خوينم، نهو ژمارهيا د دويقدا دهيت، ديں نفيسم. 🌸

بەرھەقبوون بو  
ئەزموونی  
بەشی ۱ ی

ناف



۱



۲



۳



۴



۵



وی کۆمهلهیا هرچان دی دەوردهم ئەوا ژمارئی دیاردکەت. 🌸 ❤️ ★ 🐢 🐟



ژماره ژ ٦١ ههتا ٩١

بهشی

٦

پاشی سفر و دهه







## نامہ پیک بۆ کەسوکاران

کەسوکارین خۆشتقی:

ئەفرۆ دى دەست ب خۆاندنا بەشى (۲) ى كەين، ژمارەيان ژ  
 ۶ ى هەتا ۹ ى پاشى سفر و دەھى دى خوينين. قان ژمارەيان  
 دگەل ھندەك كۆمەلەيىن تشتان دى بەراورد كەين و دى  
 زانين كىژ كۆمەلەيى پتريان كىمتر تشت تيدا ھەنە. قى  
 لا پەرى ھندەك زاراقين نوى و چالا كيين بىر كاربي تيدا  
 ھەنە كو پىكفە دى ل مال بى رابين.

دگەل قيانا مە

زاراقين نوى


پترە ژ

كىمترە ژ


## چ ا ل ا ك ي

- كۆمەلەيەكا تشتان كو ۶، ۷، ۸، ۹، ۱۰ دانە تيدا ھەبن بە زارۆكى خۆ، داخوای ژى بکە، دانەيىن ھەر ئىك ژ وان كۆمەلەيان بەھژمىرت.
- دوبارە داخوای ژى بکە بەراوردیى دناقبەرا دانەيىن دوو كۆمەلەياندا بکەت. پاشى پرسىارى ژى بکە كىژ كۆمەلەيى پتر دانە تيدا ھەنە.
- دوو پارچەيىن شرينيى بە زارۆكى خۆ. داخوای ژى بکە، ئىكى بخۆت و يا دى بەدەتە تە. بپرسە: نوکە تە چەند پارچەيىن شرينيى ھەنە؟

## زاراق



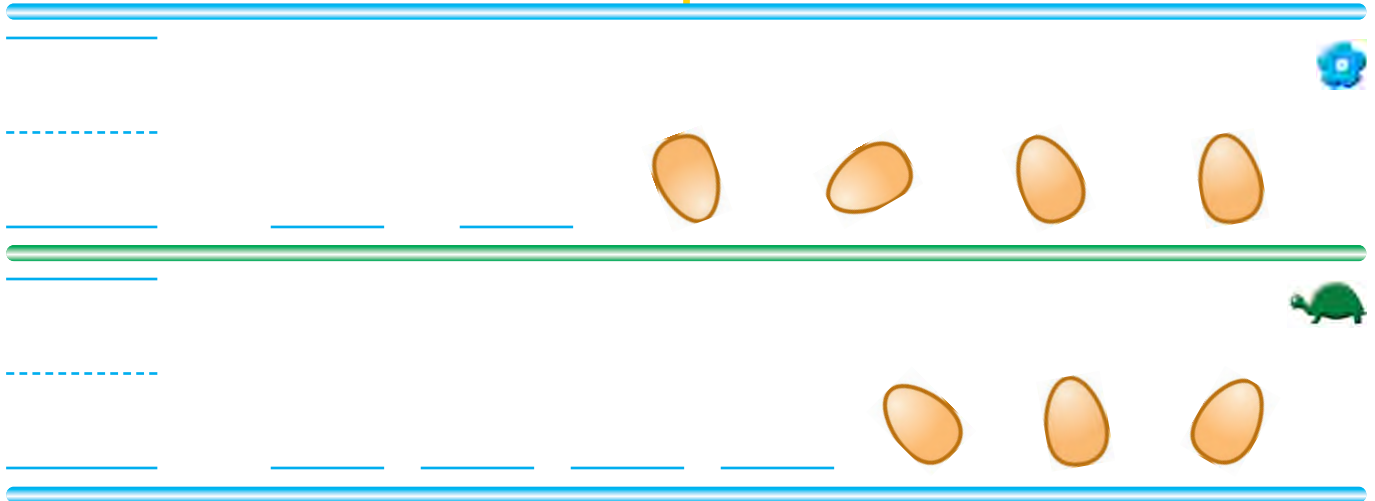



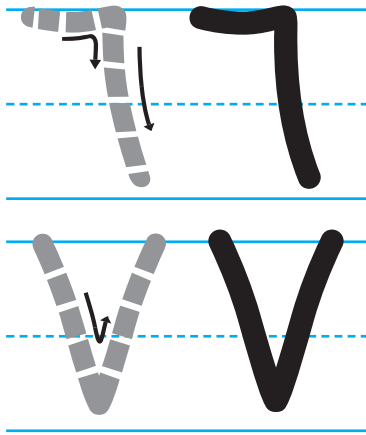
پترە ژ ۸ پترە ژ ۷








كىمترە ژ ۷ كىمترە ژ ۸





# ۶ و ۷ دی نیاسم

وانهیا ۱



چوچکین ل سہر ہەر چقہکی دی ہژمیرم، و ژماری دی نقیسم.   
 چوچکین ہەر کۆمه لهیهکی دی ہژمیرم. ژمارهیا گونجای دی دهوردهم.    
 هندهک هیکیں دی دی وینهکهه دا ببنه ۶. ژماری دی نقیسم.   
 هندهک هیکیں دی دی وینهکهه دا ببنه ۷. ژماری دی نقیسم. 

# راهینانی دکهم







چالاکیا مال • بیرا زاروکی خو بینه، کو پوژین  
 حهفتی ۷ن، پشکداریی دگهل بکه بو گوتنا ناغین وان،  
 داخوای زئی بکه بو هر پوژهکا ناغی وی بیژیت،  
 تبهکا خو بلند بکهت، پاشی ئه و تبلین بلندکرین  
 بهژمیریت.





۶ ای دی نقیسم.   
 هندهک چویچکین دی دی وینهکهم دا   
 بینه ۷. ژماری دی نقیسم.  
 ژمارهیا گونجای دی دهوردهم.   
 ۷ ای دی نقیسم.






# ۸ و ۹ دى نياسم

وانهيا ۲




- پهنجهرين فرۆكى دى هژميرم، و ۸ دى نقيسم. 
- پهنجهرين فرۆكى دى هژميرم، و ۹ دى نقيسم. 
- هندهك پهنجهرين دى دى ويئنهكهم دا ببنه ۸. 
- هندهك پهنجهرين دى دى ويئنهكهم دا ببنه ۹. 

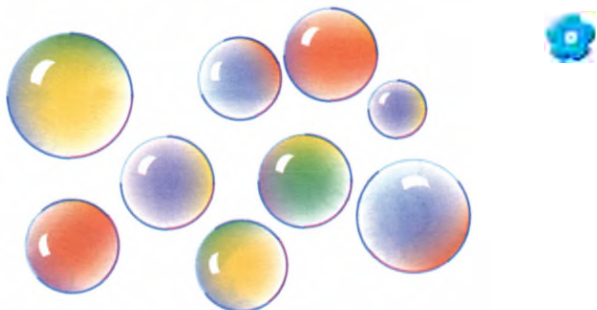




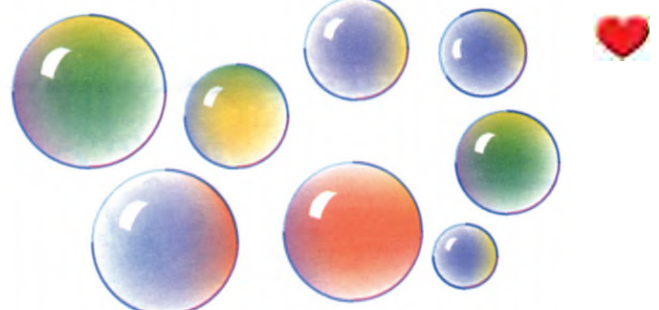
۹ ۸



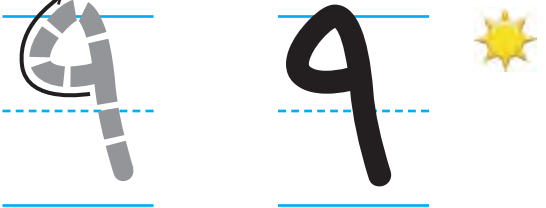



۹ ۷



۹ ۶




۹ ۸



په قیشکین هەر کۆمهلهیهکی دی هژمیڤم، ژماری دی نقیسم. چالاکیا مال • داخوای ژارۆکی  
 خۆبکه پێپکین دوو کورسیکان بهژمیڤیت. ژمارهیا گونجای دی دهوردەم.  
 هاریکاریا وی بکه بۆ فه دیتنا کۆمهلهیهکا. ۸ ی دی نقیسم. ۹ ی دی نقیسم.  
 ۸ ی تشت تیدا دیاربین.

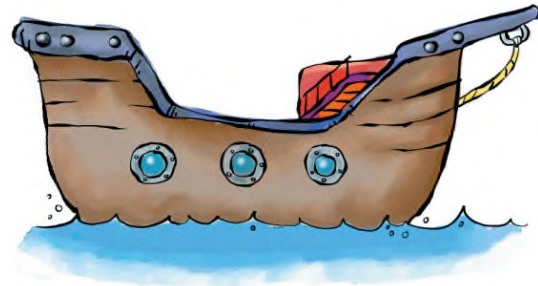

# سفری دی نیاسم

وانهیا ۲



۲

۲


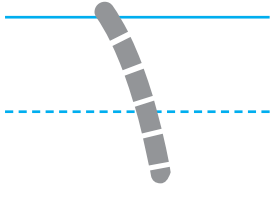



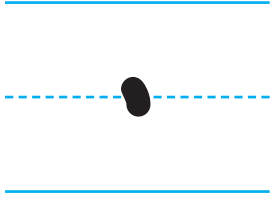


۳

۳

ہیماى × دى دانمہ سہر وى جولاندىكى کو زاروڪ تیدا نینہ.  
 وان چویچکین د ناٹ ہیلینیدا دى دەوردہم.  
 ہیماى × ل سہر وان ہیلینان دى دانم کو چویچک تیدا نینن.  
 ژمارہیا پہنجران د ہہر بہلہمہکیدا دى دەوردہم.






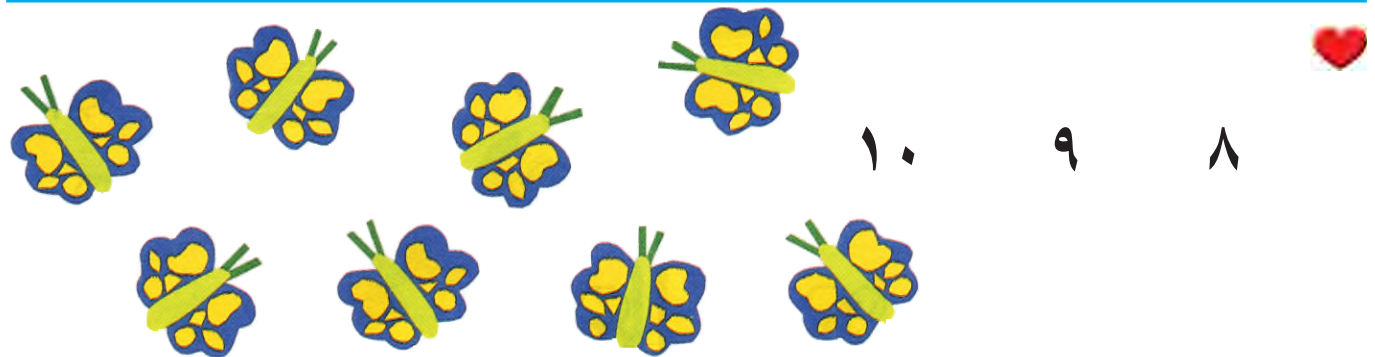



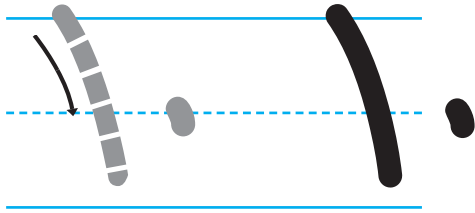
چالاکیا مال • لبین فیقییه کی د ئامانه کیدا دانه،  
داخواری ژ زارپوکی خو بکه بهه ژمیریت. لبه کی بینه ده ری  
و داخواری ژئی بکه ئه وین مایی بهه ژمیریت. قی کرداری  
دوباره بکه هه تا ئامان قالا بیت، خو پشتر استبکه کو  
زارپوکی ته دی سفری بکارهینیت.

ترومبیلان دی 🌸 ❤️ ★ 🐢  
هه ژمیرم، و ژماری  
دی نقیسم.



# ۱۰ دى نياسم

وانهيا




ميشين هنگىنى دى هزميرم. ۱۰ دى نقيسم.

هندهك ميشين دى يين هنگىنى دى وينهكهم دا ببنه ۱۰.


په لاتينكان دى هزميرم. ژمارهيا گونجاي دى دهوردەم.

۱۰ دى نقيسم.


# راهینانی دکهم



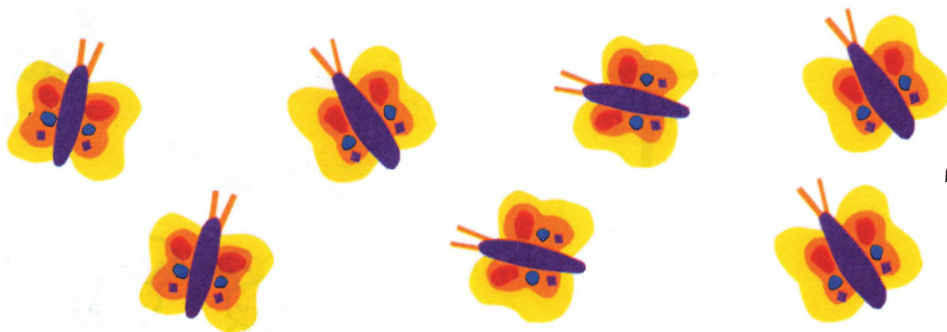
۱۰ ۹ ۸



۷ ۶ ۵



۱۰ ۹ ۸



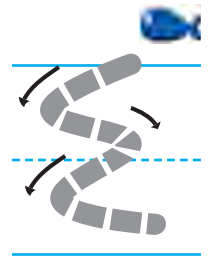
۸ ۷ ۶

چالاکیا مال • داخوای ژ زاروکی خو بکه تبلین  
هردوو دستین خو بهژمیریت، و ژمارای بنفیسیت.

ژمارهیا گونجای دی دهوردهم. ♥ ★ 🐢 🐟

# ژماره‌یان ریژدکه‌م

وانه‌یا



□ □ □ □ □



□ □ □ □ □ □



□ □ □ □ □ □ □

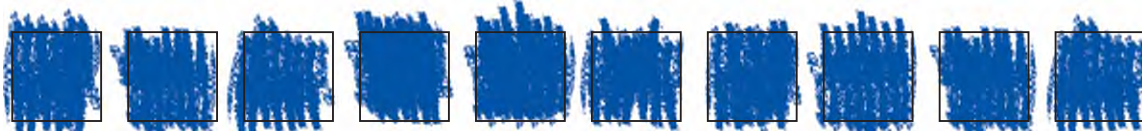


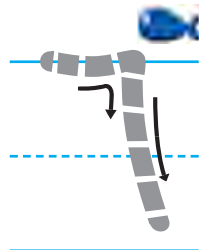









□ □ □ □ □ □ □ □

چارگۆشه‌یان دئ هژمی‌رم و ره‌نگکه‌م. ژماره‌یا وان دئ نفیسم. 🌸 ❤️ ★ 🐢



# راهینانی دکهم



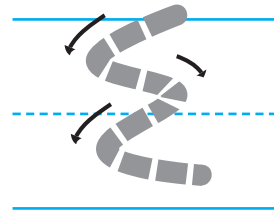


چارگۆشهيان دى ھژميرم و      چالاكيا مال • ھندەك پارچەيىن ميكانوۆ (ئان ھەر تىشتەكى دى) ل سەرىك دانە، دا كۆمەلەيىن ۶، ۷، ۸، ۹، ۱۰ زى چىكەى. داخوازى ۶ زارۆكى خوه بكه، ئەقان كۆمەلەيان ۶ كىمتر بو پتر رېز بكت.

# پرسیارہ کی دی شیکار کہم




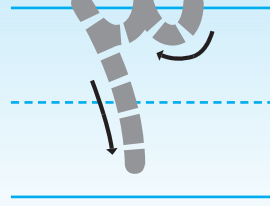
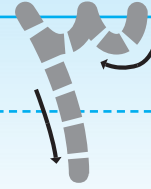
نمونہ یہ کی دی پیکینم

وانہیا ۶



شہمہ نده فرہ کی ژ ۱۰ شہ شپالوئیان دی چیکہم، شہمہ نده فری دی ژیکفہ کہم و کہمہ دوو بہش۔  
ئیک ژیا دی دریژ تربیت۔ ہر دوو بہشان دی دانمہ سہر میژا کاری، پاشی شہ شپالوئیین ہر بہشہ کی  
دی وینہ کہم و ہژمیرم و ژمارئی دی نقیسم۔ و ژمارہیا پتر دی دہوردہم۔

# راهینانی دکهم



چالاکیا مال • داخوای ژ زاروکی خو بکه  
دوو کومه له یین یه کسان ژ ۱۰ گویزان  
پیکبهینیت، گویزه کی ژ کومه له یه کی هه لگریت  
و دانیته سهر کومه له یا دی. داخوای ژئی بکه  
کومه له یا پتر دیار بکه ت.

شهمه نده فره کی ژ ۱۰ شه شپالو یان دی  
دروستکه م، باشی شه مه نده فری دی ژیکه که م بو دوو  
به شان ئیک ژ یا دی دریز تربیت. هه ردووان دی دانمه  
سه ر میزا کاری، پاشی شه شپالو یین هه ر به شه کی دی  
وینه که م و هژمیرم و ژماری دی نقیسم و ژماره یا پتر  
دی ده ورده م.



# پیداچوون


بهشی آئی

ناف

۸ ۷ ۶



۱۰ ۹ ۸



۹ ۸ ۷



۹ ۸ ۶



ژمارهیا گونجای دیں دهوردهم. ♥ ★ 🐢 🐟

بەرھەقبوون بو  
ئەزموونى  
بەشى ۲ ى

ناق




۳۰

خالان ب ریز دى گەھینمە ئىك، وینەى دى پەنگەم.



# ژماره ژ ۱۱ ههتا ۳۰







## نامەيەك بۆ كەسوكاران


كەسوكارېن خۆشتى:

ئەفرۆ دى دەست ب خواندنا بەشى ۳ بى كەين، دى ژمارەيان ژ  
۱۱ ى ھەتا ۳۰ ى خوينين، قان ژمارەيان ل سەر تەختە بى دەھى دى  
قەبين، ھندەك زاراڧين بىر كار بى يىن نوى و ھندەك چالاكى د قى  
لا پەريدا ھەنە، پىكفە ل مال دى بى رابىن.

زاراڧين نوى

تەختە بى دەھى

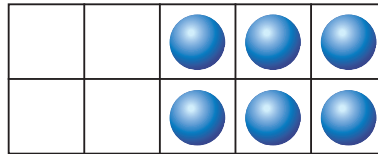
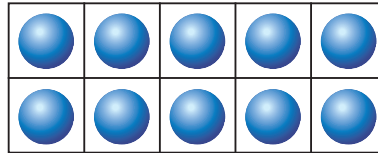
دگەل قيانا مە



ب دەنگفە بەژمىرە، وە بکە زارپوكى تە  
پشكدارى ب د ھژمارتنىدا بکەت.

## زاراڧ

تەختە بى دەھى



۱۶ دبتە دەھ و شەش

تەختە بى دەھى دەھىتە بكارئىنان بۆ  
ئاڧاكرنا وىنەيەكى ھزرى بۆ دەھى  
ل نك قوتابى.

# کۆمەلە ژ ۱۰

وانهیا ۱















۱۰ ۹ ۸

۱۰ پەپکان ل سەر تەختەیی دەھی دئی دانم. ژمارئی دئی نقیسم.

ئەو کۆمەلەییژ ۱۰ تشتان پیکهاتین دئی دەوردەم.

ژمارهیا گونجای بۆ کۆمەلەیی دئی دەوردەم.

# راهینانی دکهم



۱۰ ۹ ۸

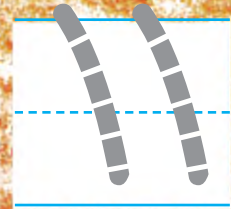
۱۰ ۹ ۸

♥ ئەو كۆمەلەيىن ژ ۱۰ تىشتان پېكھاتىن دى دەوردەم. چالاكيا مال • ويئەيى تەختەيى دەھى ل سەر كاغەزەكى بكيڭشە. ژمارەيان ژ ئيكي هەتا دەھى ل سەر بنويئە بكارهينانا تىشتين بچويك. هەمى جاران پرسيارى ژ زاپوكى خو بكة، ئەرى تەختە كۆمەلەيەكى ژ دەھى دنويئيت؟

★ دانەيىن دى دى ويئەكەم دا ۱۰ بەدەست خوڤە بينم.



🐟 ژمارەيا گونجاي دى دەوردەم.





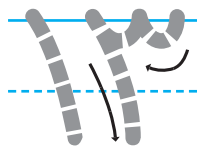


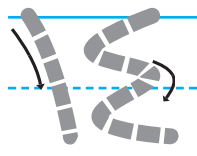


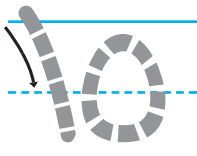








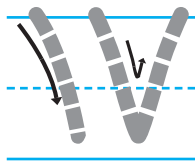

 دهه پهپکان ل سهر تهختهیی دهی دی دانم.  
 پهپکهکی ل سهر تهختهیی دووی دی دانم، ژماری دی نقیسم.  
 هندهک چویچکین دی ویینهکهه ههتا بینه ۱۲. ژماری دی نقیسم.

# راھینانی دكهم

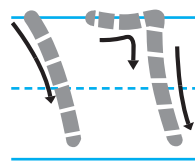
 <table border="1" data-bbox="435 347 828 504"> <tr><td></td><td></td><td></td><td></td><td></td></tr> <tr><td></td><td></td><td></td><td></td><td></td></tr> </table> <table border="1" data-bbox="435 537 828 694"> <tr><td></td><td></td><td></td><td></td><td></td></tr> <tr><td></td><td></td><td></td><td></td><td></td></tr> </table>																					 <table border="1" data-bbox="1169 347 1562 504"> <tr><td></td><td></td><td></td><td></td><td></td></tr> <tr><td></td><td></td><td></td><td></td><td></td></tr> </table> <table border="1" data-bbox="1169 537 1562 694"> <tr><td></td><td></td><td></td><td></td><td></td></tr> <tr><td></td><td></td><td></td><td></td><td></td></tr> </table> 																				
 <table border="1" data-bbox="435 862 828 1019"> <tr><td></td><td></td><td></td><td></td><td></td></tr> <tr><td></td><td></td><td></td><td></td><td></td></tr> </table> <table border="1" data-bbox="435 1052 828 1209"> <tr><td></td><td></td><td></td><td></td><td></td></tr> <tr><td></td><td></td><td></td><td></td><td></td></tr> </table>																					 <table border="1" data-bbox="1169 862 1562 1019"> <tr><td></td><td></td><td></td><td></td><td></td></tr> <tr><td></td><td></td><td></td><td></td><td></td></tr> </table> <table border="1" data-bbox="1169 1052 1562 1209"> <tr><td></td><td></td><td></td><td></td><td></td></tr> <tr><td></td><td></td><td></td><td></td><td></td></tr> </table> 																				
 <table border="1" data-bbox="435 1366 828 1523"> <tr><td></td><td></td><td></td><td></td><td></td></tr> <tr><td></td><td></td><td></td><td></td><td></td></tr> </table> <table border="1" data-bbox="435 1556 828 1713"> <tr><td></td><td></td><td></td><td></td><td></td></tr> <tr><td></td><td></td><td></td><td></td><td></td></tr> </table>																					 <table border="1" data-bbox="1169 1366 1562 1523"> <tr><td></td><td></td><td></td><td></td><td></td></tr> <tr><td></td><td></td><td></td><td></td><td></td></tr> </table> <table border="1" data-bbox="1169 1556 1562 1713"> <tr><td></td><td></td><td></td><td></td><td></td></tr> <tr><td></td><td></td><td></td><td></td><td></td></tr> </table> 																				

 چارگۆشه يېن رهنككرى دى ھژميرم، ژمارى دى نقيسم.  ۱۰ چارگۆشه يان دى رهنككهم پاشى (۳) يان، ژمارى دى نقيسم.  
 ۴ چارگۆشه يېن دى دى رهنككهم، ژمارى دى نقيسم.  ۱۰ چارگۆشه يان دى رهنككهم پاشى (۴) ان، ژمارى دى نقيسم.  
 ۵ چارگۆشه يېن دى دى رهنككهم، ژمارى دى نقيسم.  ۱۰ چارگۆشه يان دى رهنككهم پاشى (۵) ان، ژمارى دى نقيسم.

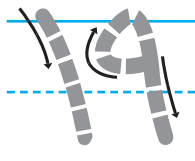
 چالاكيا مال • دوو تهخته يېن دهى دى ل سهر كاغه زهكى ويته كه م. داخوازى ژ زاروكى خو بكه ژماره يېن  
 ۱۱، ۱۲، ۱۳، ۱۴، ۱۵. ئيك ل دويغ ئيك روئبكه ت، بكارئينا نا هردوو تهخته يان وچند تستان وهكى قوپچان.



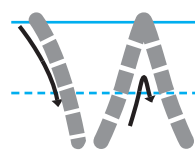
				○


				—



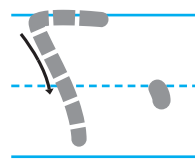
				○


				○



				○








- 6 🐟 پينڤيسان پتر ژ دهی دی وینهکههه، ژماری دی نقيسم. 🐢 ۱۰ قوچان پاشی ۷ قوچان دی وینهکههه. ژماری دی نقيسم.
- 8 🌟 سيقان پتر ژ دهی دی وینهکههه، ژماری دی نقيسم. 🌙 ۱۰ دلان پاشی ۹ دلان دی وینهکههه. ژماری دی نقيسم.
- 10 🌸 ماسيان پتر ژ دهی دی وینهکههه، ژماری دی نقيسم. ❤️ ۲۰ کيکان دی وینهکههه. ژماری دی نقيسم.




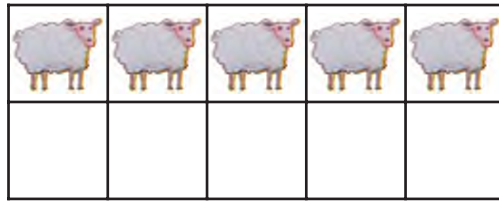
# راهینانی دکهم



۱۴

۱۳


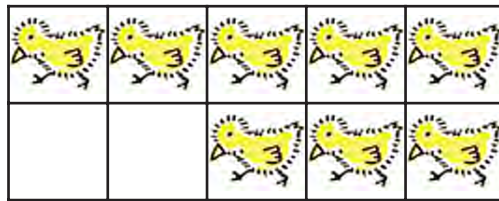
۱۲



۱۶

۱۵

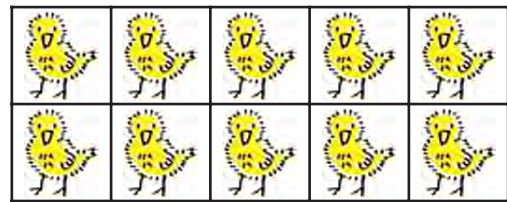
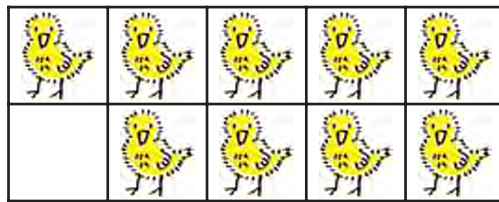
۱۴



۱۸

۱۷

۱۶



۲۰

۱۹

۱۸

چالاکیا مال • دوو پارچهیان ژ کارتونهکا هیکان بیره. هر پارچهیهکی جهی دهه هیکان لی هه بیت، داخوای ژ زاروکی خۆ بکه ژمارهیی ۱۶، ۱۸ بنوینت بکارهینانا تشتین بچویک وهک (لبین نوکان).




دئ هژمیرم. ژمارهیا گونجای دئ دهوردەم. ژمارئ دئ نقیسم.



پرسیارہ کی دی شیکارکھم  
دی خہملینم

وانہیا



شویشہیا نیژیکی ۲۰ لبین فیقی تیدا ہین دی دہوردہم.  
شویشہیا ژ ۲۰ تہہلان کیمتر تیدا ہین دی دہوردہم.

# راهینانی دکهم



چالاکیا مال • داخواری ژ زاروکی خو بکه ۱۰  
لیبن فاسولیا بکته د کوپه کیدا، وژماره بکا دی یا  
نهدیار ژ لیبن فاسولیا بکته د کوپه کی دیدا.  
ژماری بخه ملینه وپاشی داخواری ژ بکه وان  
لیبن فاسولیا یین خه ملاندی بهژمیریت.



شویشهیا ژ ۲۰ تبه لان کیتر تیدا هین دی  
دهوردهم.  
شویشهیا ژ ۱۰ تبه لان کیتر تیدا هین دی  
دهوردهم.  
شویشهیا ژ ۲۰ تبه لان پتر تیدا هین دی دهوردهم.





Handwriting practice for the number 21. It includes a dashed number 21 on a blue line, a 2x5 grid, and two 2x5 grids of red baskets, each containing 10 baskets.



Handwriting practice for the number 22. It includes a dashed number 22 on a blue line, a 2x5 grid, and two 2x5 grids of blue teapots, each containing 10 teapots.



Handwriting practice for the number 23. It includes a dashed number 23 on a blue line, a 2x5 grid, and two 2x5 grids of sunflowers, each containing 10 sunflowers.

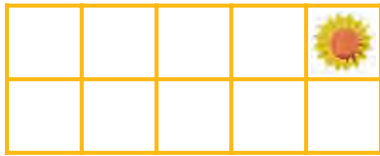


Handwriting practice for the number 25. It includes a dashed number 25 on a blue line, a 2x5 grid, and two 2x5 grids of yellow bananas, each containing 10 bananas.




- 🐟 سهلکان دئ هژميرم، سهلکهکا دی دئ ويئنهکهم دا ۲۱ئ ب دستخوڤه بينم، ژمارئ دئ نقيسم.
- 🐢 ئاقرهشينکان دئ هژميرم، هندهک ئاقرهشينکين دی دئ ويئنهکهم دا ۲۲ئ ب دستخوڤه بينم، ژمارئ دئ نقيسم.
- ★ پوژان دئ هژميرم، ۳ پوژين دی دئ ويئنهکهم دا ۲۳ئ ب دستخوڤه بينم، ژمارئ دئ نقيسم.
- ❤ کولاقان دئ هژميرم، ۵ کولاقين دی دئ ويئنهکهم دا ۲۵ئ ب دستخوڤه بينم، ژمارئ دئ نقيسم.

# راهینانی دکهم



٢١

٢٠



٢٣

٢٢




٢٥

٢٤







★ 🐢 🐟 چالاکییا مال • داخواری ژ زاروکی خۆ بکه ژمارهیین  
 ٢١، ٢٢، ٢٣، ٢٤، ٢٥ ل سهر لاپهړین په رتووکه کی بناسیت.



۲۷

۲۶



۳۰

۲۹



★ فلفلان دى هژميرم، ۹ين دى دى ويئنهكهم دا ۲۹ ى ب دستخوڤه بينم.  
 ♥ ژمارهيا گونجاي دى دهوردەم.

🐟 ژمارهيا گونجاي دى دهوردەم.  
 🐢 لبيئن فيقى دى هژميرم و حهفت لبيئن دى دى ويئنهكهم دا ۲۷ ى ب دستخوڤه بينم.



# راهینانی دکهم



۲۷

۲۶




۲۵



۲۸

۲۷

۲۶



۲۹

۲۸

۲۷



۳۰

۲۹

۲۸



چالاکیا مال • مهکەر ته کارتونهکا پیپسیین قودیکان کری،  
داخوای ژارپوکی خو بکه ژمارهبا پیپسیان د ناق کارتونیدا  
بهژمیریت. پاشی داخوای ژئی بکه ژماره ۲۱ هه تا ۳۰ وان  
پیپسیان بینتهدهن.

ژمارهیا گونجای دئی دهوردهم.

# پیداچوون

بهشی ۳ ی

ناف



۱۴

۱۳

		X	X	X

X	X	X	X	X
X	X	X	X	X

۱۸

۱۷

X	X	X	X	X
			X	X

X	X	X	X	X
X	X	X	X	X



۲۵

۲۴

X	X	X	X	X

X	X	X	X	X
X	X	X	X	X

X	X	X	X	X
X	X	X	X	X



۲۸

۲۷

X	X	X	X	X
			X	X

X	X	X	X	X
X	X	X	X	X

X	X	X	X	X
X	X	X	X	X



۳۰

۲۹

X	X	X	X	X
X	X	X	X	X

X	X	X	X	X
X	X	X	X	X

X	X	X	X	X
X	X	X	X	X






دی هژمیږم. ژماره یا گونجای دی دهوردهم.



بەرھەقبوون بو  
ئەزموونى  
بەشى ۳ى

ناق




<p>_____</p> <p>-----</p> <p>_____</p>	
<p>_____</p> <p>-----</p> <p>_____</p>	

ماسيىن مەزن دى ھژمىرم، ژمارى دى نقيسم.  
ماسيىن بچويك دى ھژمىرم، ژمارى دى نقيسم.



# كۆمكۈن





## نامەيەك بۆ كەسوكاران

كەسوكارين خۆشتقى:

ئەفرۆ دى دەست ب بەشى ۴ دى فېرى كۆمكرنى يىن  
ب رېكا چىرۆك و وپنەيان و دى رستەيىن كۆمكرنى نھىسەن. فى  
لاپەرى ھندەك زاراڧىن بىركارى يىن تۆى و چالاكى تېدا ھەنە،  
دى پېكقەل مال بى رابىن.

زاراڧىن نوى

سەرجهم

كۆم

يەكسان

رستەيا كۆمكرنى

دگەل قىانامە

## چال ا ك ي

داخوازى ژ زارپۆكى خۆ بكة رستەيىن  
كۆمكرنى پېكبينىت بكارئىنانا كەل  
و پەلېن ناف مالى. ئەو دىشېت دوو  
پىلاقان نىشا تە بدەت پاشى دوو  
پىلاقىن دى، و ب رستەيەكا  
كۆمكرنى دەر بېرېت.  
 $4 = 2 + 2$

## زاراڧ



يەكسان

كۆم



$$5 = 1 + 4$$



سەرجهم

$$\text{رستەيا } 5 = 1 + 4$$

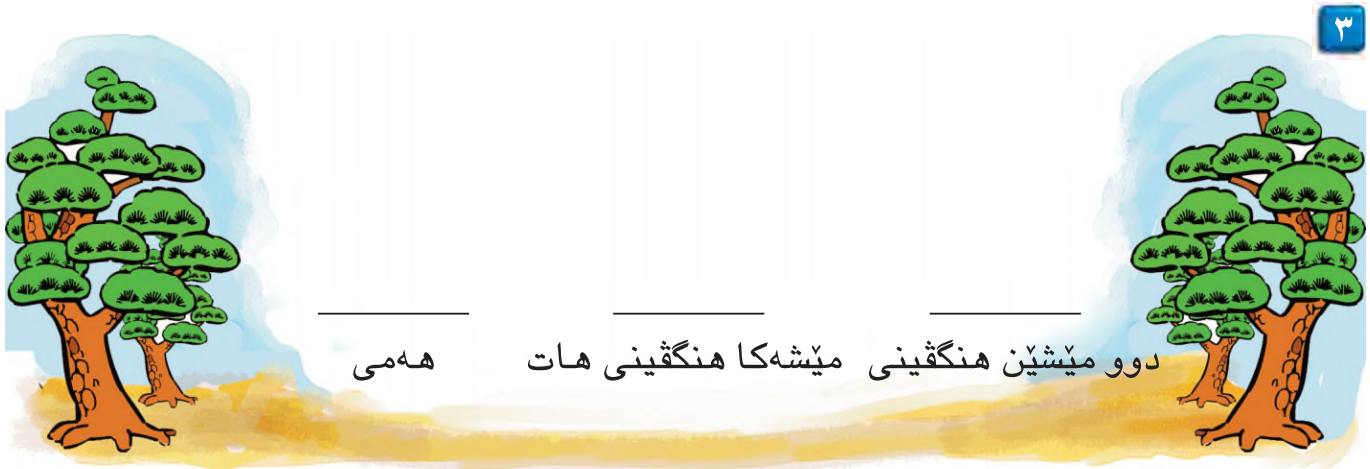

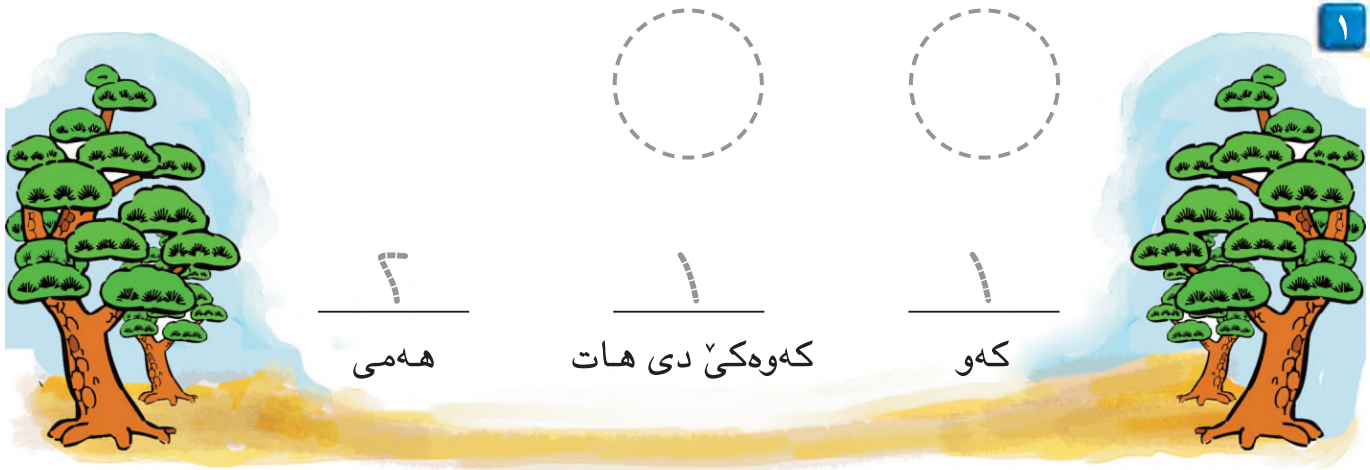
كۆمكرنى



# چەند چىرۆكەك ل سەر كۆمىرنى

۱ وانەيا

دې بىكارىنىم دا چىرۆكى بىنۆنىم.  
دې وىنەكەم. ژمارى دى نقىسىم.



بەھسبىكە ■ دەرئەنجام

دې چ رۆيدەت ئەگەر ھندەك تىشان بۇ كۆمەلەيەكى زىدە بكەي؟



# راھینانی دكەم

● دى بكارئىنم دا چىرۆكى بنوئىنم.  
● دى وئىنەكەم. ژمارى دى نقيسم.



۳  
هەمى

۱  
شېرەك دى ھات

۶  
دوو شېر



هەمى

ھندەك ھەسپ ھاتن

ھندەك ھەسپ



هەمى

ھندەك پشېك ھاتن

پشېكەكا مەزن




● چالاكيا مال • داخووزى ژ زارۆكى خۆ بكة، چىرۆكەكا  
كۆمكرنى بۆ ھەر وئىنەيەكى بېژىت.

# ئەز دى كۆمكەم

۲ وانەيا

۵ = ۳ + ۲  
دوو كۆم سى يە كسانە پىنج



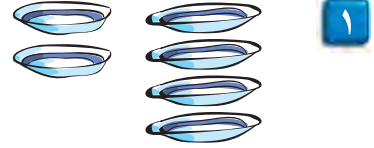
\_\_\_\_\_ = ۳ + ۲

سەرجهم ۵

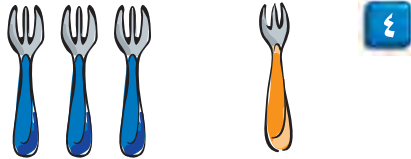
دى كۆمكەم. سەرجهمى دى نقيسم.



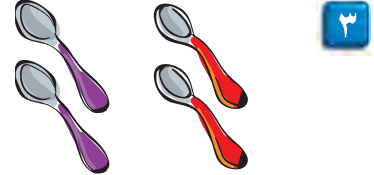
\_\_\_\_\_ = ۳ + ۳




\_\_\_\_\_ = ۲ + ۴




\_\_\_\_\_ = ۳ + ۱



\_\_\_\_\_ = ۲ + ۲



\_\_\_\_\_ = ۱ + ۵



\_\_\_\_\_ = ۱ + ۲

بەحسبکە ■ دەرئەنجام

چەوا دى سەرجهمى ۱+۴ ئىنيەدەر بىيى بكارئىنانا ويئەيان؟ ئەقى رۆنكە؟


# راهینانی دکهم

رستهیا کۆمکرنی دی نقیسم.



۲

\_\_\_\_\_ ○ \_\_\_\_\_ ○ \_\_\_\_\_  
کیقزاله




۱

\_\_\_\_\_ ○ = \_\_\_\_\_ ۳ + \_\_\_\_\_ ۶  
کیقزاله




۴

\_\_\_\_\_ ○ \_\_\_\_\_ ○ \_\_\_\_\_  
کیقزاله




۳

\_\_\_\_\_ ○ \_\_\_\_\_ ○ \_\_\_\_\_  
کیقزاله



۶

\_\_\_\_\_ ○ \_\_\_\_\_ ○ \_\_\_\_\_  
ماسی



۵

\_\_\_\_\_ ○ \_\_\_\_\_ ○ \_\_\_\_\_  
ماسی

## دی نقیسم


هندهک وینهیان دی کیشم کو چیرۆکهکا کۆمکرنی روئبکهن.  
رستهیهکا کۆمکرنی بو قی چیرۆکی دی نقیسم.

چالاکیا مال • داخواری ژ زارۆکی خو بکه تشتین بچویک بکاربینیت وهکی لبین فاسولیا و نوکان کو چیرۆکین کۆمکرنی د قی لاپهريدا بنوینن.



# سفره کی دی زیدہ کہم

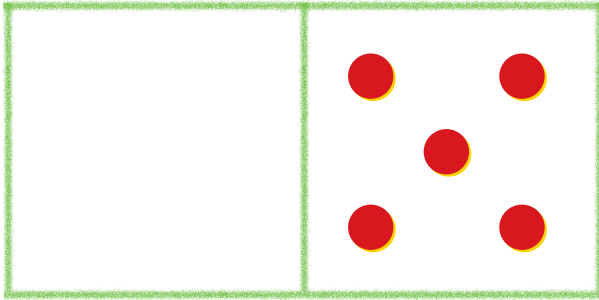
وانہیا ۳



$$\underline{\quad} = 0 + 3$$

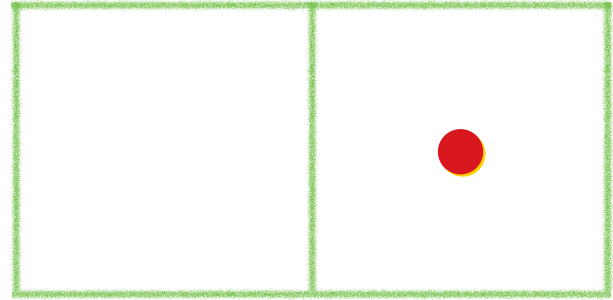
سفره کی دی زیدہ کہم. سہرجمی دی نقیسم

۲



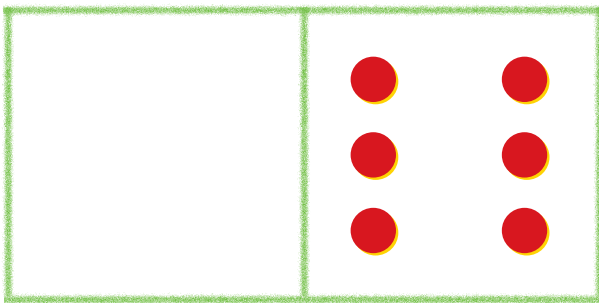
$$\underline{\quad} = 0 + 5$$

۱



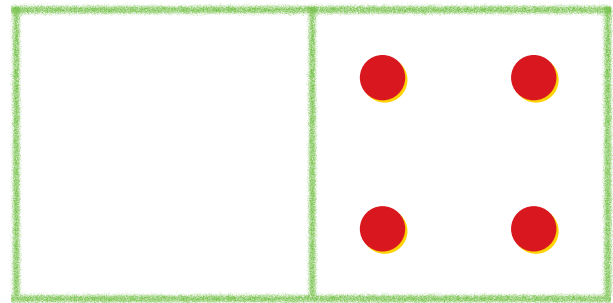
$$\underline{\quad} = 0 + 1$$

۴



$$\underline{\quad} = 0 + 6$$

۳



$$\underline{\quad} = 0 + 4$$



بہ حسابکہ ■ دہرئہ نجام

دی چ پرویدت ہہکەر سفره کی بو ژماره به کی زیدہ بکہین؟ بوچی؟

# راهینانی دکهم

بازنان بو هەر ژمارهیهکی دی وینهکههه. سهرجهمی دی نقیسم.

1

$\underline{\quad} = 2 + 1$	$\underline{\quad} = 1 + 1$	$\underline{\quad} = 0 + 1$
-----------------------------	-----------------------------	-----------------------------

2

$\underline{\quad} = 2 + 2$	$\underline{\quad} = 1 + 2$	$\underline{\quad} = 0 + 2$
-----------------------------	-----------------------------	-----------------------------

3

$\underline{\quad} = 2 + 4$	$\underline{\quad} = 1 + 4$	$\underline{\quad} = 0 + 4$
-----------------------------	-----------------------------	-----------------------------



پرسیارهکی دی شیکارکهه ■ دههههههههه

4 رستهیا کومکرنی دی دهوردهه ههوا سهرجهمی وی مهزنتر. سهرجهمی دی نقیسم دا ساخبهکهه.

$\underline{\quad} = 0 + 6$	$\underline{\quad} = 2 + 6$	$\underline{\quad} = 1 + 6$
-----------------------------	-----------------------------	-----------------------------

چالاکیا مال • داخوایی ژ زاروکی خو بکه بهحسی سهرجهمان بکهه ژ 0+1 ههتا 0+6.

# ژماره يان دى پيكنينم

وانهيا ۴



و دى بكارينم بو پيکنيانا ۷. دى رهنگه م. رسته يا کو مکرني دى نقيسم.

--	--	--	--	--	--	--	--

۲



--	--	--	--	--	--	--	--


۱



و دى بكارينم بو پيکنيانا ۸. دى رهنگه م. رسته يا کو مکرني دى نقيسم.

--	--	--	--	--	--	--	--

۴



--	--	--	--	--	--	--	--

۳



و دى بكارينم بو پيکنيانا ۹. دى رهنگه م. رسته يا کو مکرني دى نقيسم.


۶




۵



به حسابکه ■ ده رنه نجام

ته هه نه. چند ■ پيکنيانا ۷؟ و پيکنيانا ۸؟ و پيکنيانا ۱۰؟

و بكارينه بو ديارکونا به رسقا خو.



# راھینانی دکەم

دئ بكارئینم بۇ پيكتيئانا ۸ ئى. دئ رەنگكەم. رستەيا كۆمكرنى دئ نقيسم.

--	--	--	--	--	--	--	--

--	--	--	--	--	--	--	--

\_\_\_\_\_ ○ \_\_\_\_\_ ○ \_\_\_\_\_

\_\_\_\_\_ △ \_\_\_\_\_ = \_\_\_\_\_ 7 \_\_\_\_\_ + \_\_\_\_\_ 7 \_\_\_\_\_

دئ بكارئینم بۇ پيكتيئانا ۱۰ ئى. دئ رەنگكەم. رستەيا كۆمكرنى دئ نقيسم.



\_\_\_\_\_ ○ \_\_\_\_\_ ○ \_\_\_\_\_

\_\_\_\_\_ ○ \_\_\_\_\_ ○ \_\_\_\_\_

دئ بكارئینم بۇ پيكتيئانا ۷ ئى. دئ رەنگكەم. رستەيا كۆمكرنى دئ نقيسم.

--	--	--	--	--	--	--	--

--	--	--	--	--	--	--	--

\_\_\_\_\_ ○ \_\_\_\_\_ ○ \_\_\_\_\_

\_\_\_\_\_ ○ \_\_\_\_\_ ○ \_\_\_\_\_

پرسيارەكى دئ شيكاركەم ■ بىركرنا ب دىتن.



رستەيەكا كۆمكرنى دئ نقيسم كو دەرپرپىنى  
ژ ويئەى بكەت.

\_\_\_\_\_ ○ \_\_\_\_\_ ○ \_\_\_\_\_

چالاكيا مال • داخوازى ژ زاروكى خو بكة تشتين بچويك بكاربىنيت وەكى لىين فاسوليا وتەبەلان، بۇ پيكتيئانا ژمارە ۹ ب ريكا چەند شيوہيپن د شياندا. داخوازى ژى بكة چالاكيا دوبارە بكەت بۇ ژمارە ۱۰.

# ب ستوونی دی کۆمکەم

وانهیا



۳
۰
+
۸





۸ = ۰ + ۳


هەرتەو ئەنجامە دەردوو باراندا

ژمارەیان دی نقیسم، سەرجمی دی نقیسم.

1

+







\_\_\_\_\_ = \_\_\_\_\_ + \_\_\_\_\_

2

+





\_\_\_\_\_ = \_\_\_\_\_ + \_\_\_\_\_

3

+






\_\_\_\_\_ = \_\_\_\_\_ + \_\_\_\_\_

بەحسبکە ■ دەرتەنجام

هەردوو کۆمکرنین دەهەر پێزهکێدا ب چ وەک ئیکن؟ ب چ ژیکجودانە؟ ئەفئ دیار بکە.

# راهینانی دکهم




ژمارهیان دی نقیسم. سهرجهمی دی نقیسم.

۴

۶

+



۱

۱۰

۱۰

=


۶

+

۴



+





۲

\_\_\_\_\_ = \_\_\_\_\_ + \_\_\_\_\_



+



۳

\_\_\_\_\_ = \_\_\_\_\_ + \_\_\_\_\_

## پیداچوون

۴ وینهیین بازان دی کیشم بۆ نواندنا هر ژمارهیهکی. سهرجهمی دی نقیسم.

$$= ۲ + ۵$$

$$= ۱ + ۵$$

$$_____ = ۰ + ۵$$

چالاکیا مال • چند پرسیاران بۆ زارۆکی خۆ بنقیسه ل سهر کۆمکرنا ستوونی و ئاسۆیی، دا شیکار

بکەت.



# پرسیارہ کی دی شیکارکھم رستہ یہ کا کو مکرئی دی نقیسم

وانہیا ۶

ساخکہم


شیکارکھم

پلانی ددانم

تیدگہم

$$6 = 1 + 5$$

تہ فہ رستہ یہ کا کو مکرئی بہ



ژمارہیا ہمی ماسیان چہندہ.

تیدگہم

داخوازکری چییہ؟

پلانی ددانم

دی شیم رستہ یہ کا کو مکرئی بنقیسم بو شیکارکھنا  
پرسیاری.

شیکارکھم



ماسی

ساخکہم

بہرسقا خو ب ہژمارتنی دی ساخکہم


رستہ یا کو مکرئی دی نقیسم.

ژمارہیا ہمی میان چہندہ؟



\_\_\_\_\_ ○ \_\_\_\_\_ ○ \_\_\_\_\_  
ماسی

ژمارہیا ہمی میان چہندہ؟




\_\_\_\_\_ ○ \_\_\_\_\_ ○ \_\_\_\_\_  
ماسی

ژمارہیا ہمی میان چہندہ؟



\_\_\_\_\_ ○ \_\_\_\_\_ ○ \_\_\_\_\_  
ماسی

ژمارہیا ہمی میان چہندہ؟



\_\_\_\_\_ ○ \_\_\_\_\_ ○ \_\_\_\_\_  
ماسی

# راھینانی دكەم

رستەيا كۆمكرنى دى نقيسم. سەرجهمى دى بىژم

۲




مۆز

۱



مۆز

۴



مۆز

۳



مۆز

## بنقيسه

چەند ويئەيان دى كيشم، بەحسى چىرۆكەكا  
كۆمكرنى بكەن. رستەيەكا كۆمكرنى دى  
نقيسم، ھاريكاريا شىكاركرنى بكەت.

چالاكيا مال • داخووزى ژ زارۆكى خۇ بكە چەند تشتين بچويك بكاربينيت بۇ نواندنا وان چىرۆكين د قى

لاپەريدا.

# پیداچوون

بهشی ۴ ی

ناف \_\_\_\_\_

دی کۆمکه م



\_\_\_\_\_ = ۳ + ۲

\_\_\_\_\_ = ۴ + ۲

\_\_\_\_\_ = ۲ + ۴

ژماره ۸ ب دوو ریکان دی پیکئینم

۳

۲



ژماره ۱۰ ب دوو ریکان دی پیکئینم

۵

۴



ژماره یا بهرامبهری خالان دی نقیسم. سه رجه می دی نقیسم.

۶

□  
□  
□

+

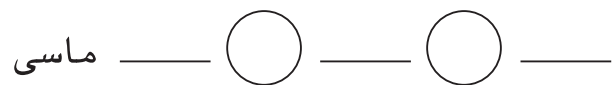
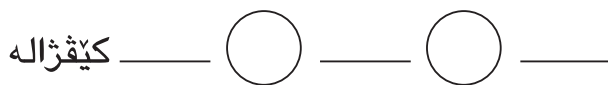


\_\_\_\_\_ = \_\_\_\_\_ + \_\_\_\_\_

پرسیاره کی دی شیکارکه م رسته یا کۆمکرنی دی نقیسم.

ژماره یا ههمیان چهنده؟ ۸

ژماره یا ههمیان چهنده؟ ۷





# بەرھەقبوون بۆ ئەزموونى بەشى ۴ ى

ناق

بەرسقا گونجاي دى ھەلبىزىرم

كىز رستەيا كۆمكرنى ژمارەيا ھەمى ماسىيان ديار دكەت؟



$$8 = 3 + 5$$

$$7 = 4 + 3$$

$$6 = 3 + 3$$

$$5 = 4 + 1$$



كىز ريك مە دگەھىنتە ژمارە ۸؟

$$2 + 3$$

$$4 + 6$$

$$4 + 4$$

$$1 + 5$$



كىز كۆمكرن ريكەكا دى ديار دكەت بۆ نقيسنا  $10 = 2 + 8$ ؟

$$\begin{array}{r} 8 \\ 2 + \\ \hline 10 \end{array}$$

$$\begin{array}{r} 9 \\ 1 + \\ \hline 10 \end{array}$$

$$\begin{array}{r} 6 \\ 2 + \\ \hline 8 \end{array}$$

$$\begin{array}{r} 2 \\ 6 + \\ \hline 8 \end{array}$$



سەرجمە  $0 + 7$  چەندە؟

۸

۷

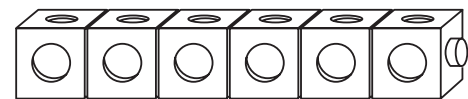
۴

۰



ھندەك شەشپالۆيان ب سۆرى دى

رەنگكەم، وئەوین دمينن ب شینی دى  
رەنگكەم. رستەيا كۆمكرنى دى نقيسم.



رستەيەكا دى يا كۆمكرنى بۆ وى سەرجمە  
دى نقيسم.





## لیڈہر کرن

چیرۆکه‌کا لیڈہر کرنی بو ہەر  
کۆمه‌له‌یه‌کی دی قه‌گیرم







## نامه يهك بو كه سوکاران

كه سوکارين خوششتي:

نه فرود دي دست ب به شي ه ي كه ين، هندهك وينه و تستان دي  
بكارينن دا ليدر بكه ين. ورسته ين ليدر كرنى دي نفيسين.  
نه ف لا پره هندهك زاراڤين بيركارينى ين نو ي وچالا كييان ب  
خوفه دگريت، پيكفه ل مال دي بى راين.

دگه ل قيانا مه.

زاراڤين نو ي

رسته يا ليدر كرنى  
يه كسان  
كيم  
جوداهى

## چال اكى

داخو زى ژ زاروكى خو بكه، ده مى  
دگه ل ته ده يتته بازاری چهند كردارين  
ليدر كرنى بكه ت : تو دشى بيژى ۶  
سيقان دانه د ناف تويركه كيدا پاشى  
بيژى ۲ سيقان زى بينيته در، چهند  
سيق د تويركيدا مان؟

## زاراڤ

قان وينه و هيما و پهيقان  
بكاربينه، ده مى دگه ل زاروكى  
خو دئاخقى ل سهر كردارين  
ليدر كرنى.



يه كسان كيم



$$1 = 2 - 3$$

جوداهى

رسته يا ليدر كرنى  $1 = 2 - 3$



# چەند چىرۆكەك ل سەر لىدەر كرنى

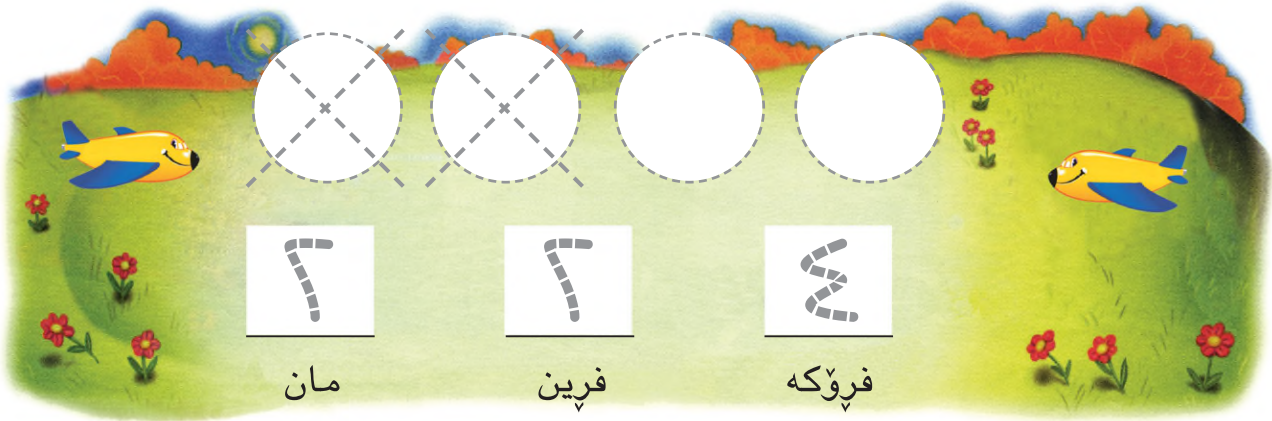
وانهيا ۱

دى بكارئىنم بۇ دەربرينا چىرۆكى.

وئىنى دى كىشم پاشى ئەوا كىم بووى دى ژىبەم.

ژمارى دى نقيسم.

دوو فرۆكه مان




مان

فرين

فرۆكه

۱

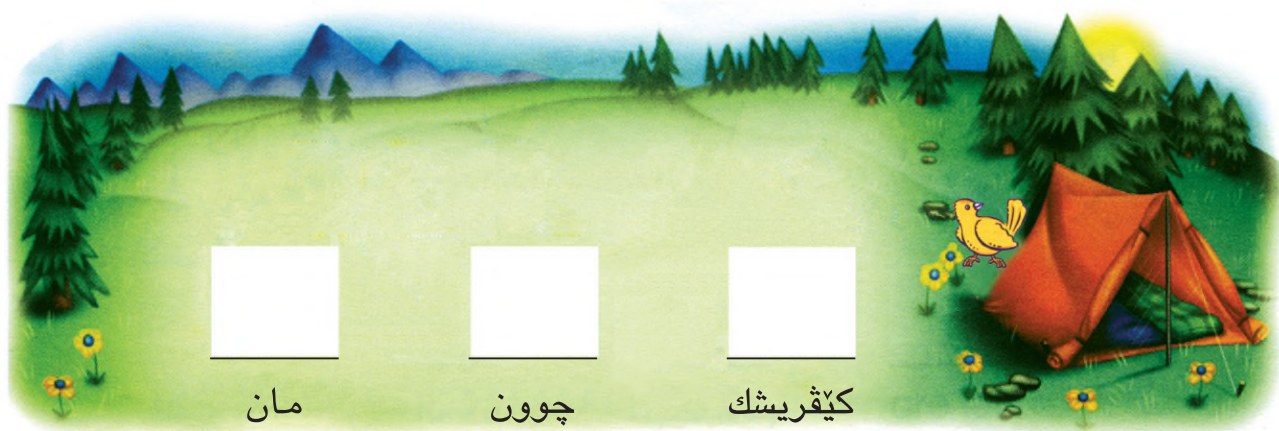


مان

هندابوو

تەپە

۲



مان

چوون

كىقرىشك

۳

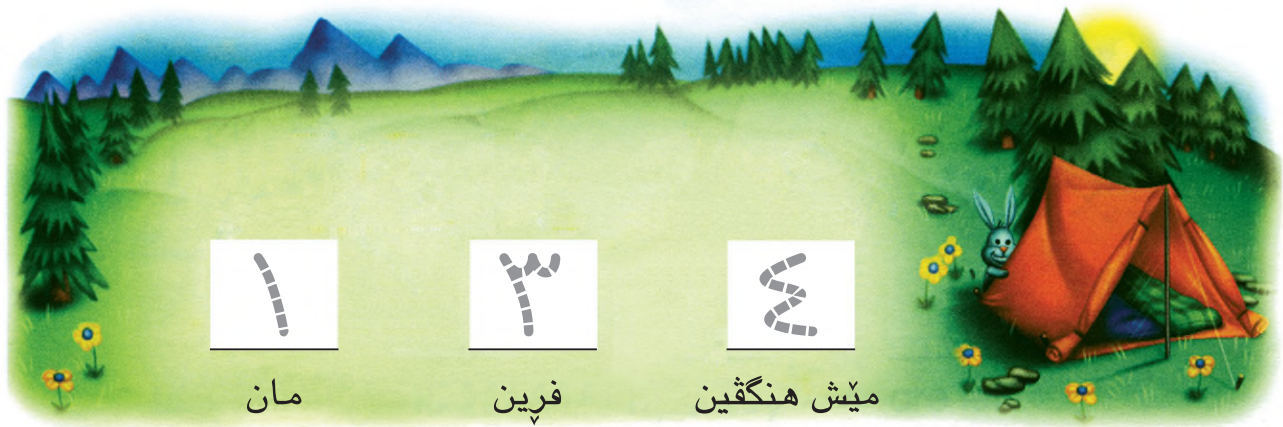
بەحسبە ■ دەرئەنجام

دەمى ھندەك تىشان ژ كۆمەلەيەكى رادكىشى، ئەرى ژمارە زىدە دبىت يان كىم دبىت؟ بۆچى؟

بكاربىنە بۆ رۆنكرنى.

# راهینانی دکهم

● بکاربینه بۆ نواندنا چیرۆکی، وینەیی ● دی کیشم.  
پاشی ئەوین ژئی کیمکری دی ژیبەم، ژمارەیان دی نقیسم.




مان




فرین




میش هنگین



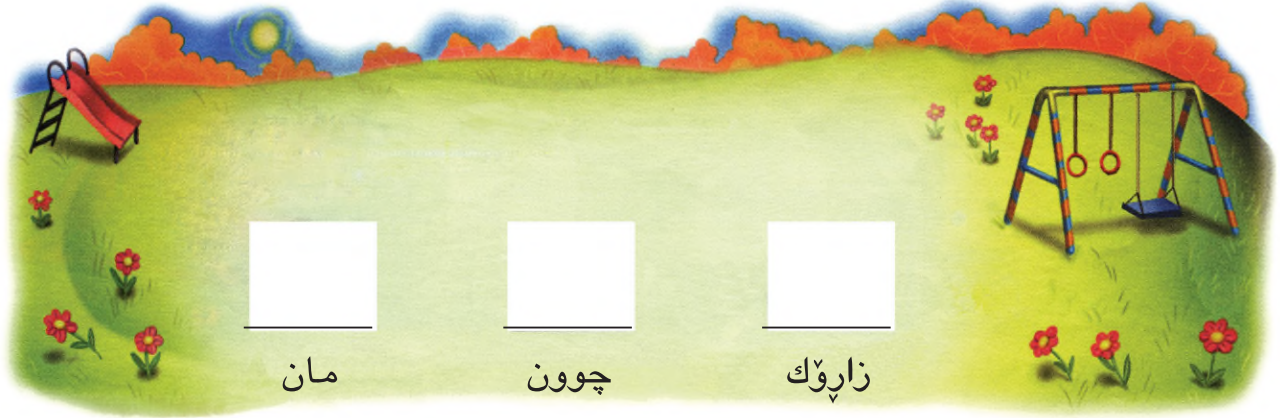
مان



چوون



کیقزاله



مان



چوون



زارۆک

● چالاکیا مال ● داخوای ژ زارۆکی خو بکه چیرۆکهکا لیدەرکرنی ل سەر هەر وینەیهکی بیژیت.

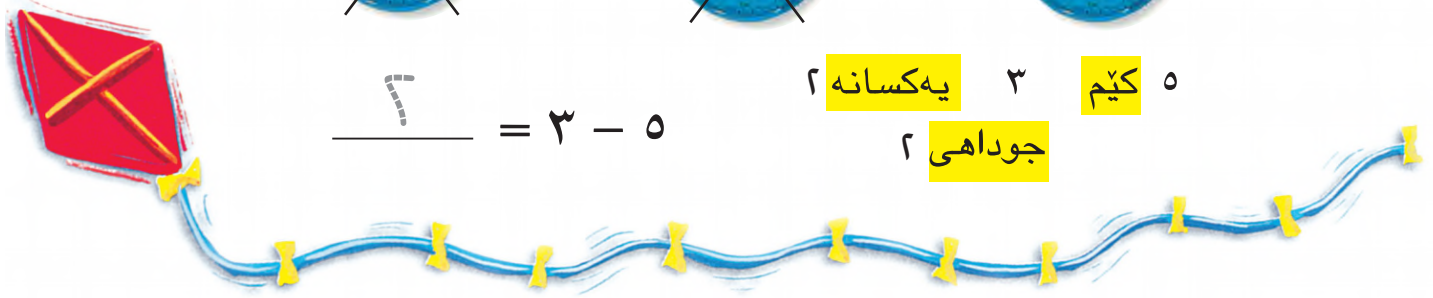


ئەز دى لىدەر كەم



$$\underline{\quad 6} = 3 - 5$$

۵ كىم  
۳ يەكسانە ۲  
جوداھى ۲



ھندەك وینەیان دى ژیبەم دا لىدەر بکەم. جوداھى دى نقيسم.

۱




$$\underline{\quad} = 2 - 4$$

۲



$$\underline{\quad} = 3 - 6$$

۳



$$\underline{\quad} = 2 - 5$$

۴



$$\underline{\quad} = 1 - 3$$

بەحسبکە ■ دەرتەنجام

نیشانا كىم چ دگەھىنیت؟ نیشانا يەكسان چ دگەھىنیت؟ قى چەندى روڭبکە.




# راهینانی دکهه

هندهك وینهیان دی ژیبهه دا لیدهر بکهه.  
ئهوا مایی دی تقیسم.



۶

$$\underline{\hspace{2cm}} = ۶ - ۲$$



۴

$$\underline{\hspace{2cm}} = ۴ - ۳$$



۴

$$\underline{\hspace{2cm}} = ۴ - ۱$$



۳

$$\underline{\hspace{2cm}} = ۳ - ۲$$



۶

$$\underline{\hspace{2cm}} = ۶ - ۲$$



۶

$$\underline{\hspace{2cm}} = ۶ - ۱$$

## پیداچوون

رستهیهکا کو مکرنی دی تقیسم.



۵

$$\underline{\hspace{2cm}} \bigcirc \underline{\hspace{2cm}} \bigcirc \underline{\hspace{2cm}}$$



۵

$$\underline{\hspace{2cm}} \bigcirc \underline{\hspace{2cm}} \bigcirc \underline{\hspace{2cm}}$$

چالاکیا مال • داخوایی ژاړوکی خو بکه هندهك وینهیان بکیشیت بو نواندنا پرسیارهکا لیدهرکرنی. پاشی  
داخوایی ژی بکه ماوهی دیار بکهه.

# رسته يه کا ليدهر کرنی دی نقیسم

وانهیا ۳

۴ = ۶ - ۲

رسته يه کا ليدهر کرنی يه

رسته يه کا ليدهر کرنی دی نقیسم.



\_\_\_\_\_ ○ \_\_\_\_\_ ○ \_\_\_\_\_



\_\_\_\_\_ ○ \_\_\_\_\_ ○ \_\_\_\_\_



\_\_\_\_\_ ○ \_\_\_\_\_ ○ \_\_\_\_\_



\_\_\_\_\_ ○ \_\_\_\_\_ ○ \_\_\_\_\_



\_\_\_\_\_ ○ \_\_\_\_\_ ○ \_\_\_\_\_



\_\_\_\_\_ ○ \_\_\_\_\_ ○ \_\_\_\_\_



به حسابکه ■ ده رنه نجام

چهوا فان ژماره يان دی بکارئینی دا رسته يه کا ليدهر کرنی بنقیسی؟

ئهری تو دشیی پتر ژ رسته يه کا ليدهر کرنی ب فان ژماره يان بنقیسی؟ ئهقی چهندی روئبکه.

# راهینانی دکهه


رستهیا لیده رکنی دی نقیسم.



\_\_\_\_\_ ○ \_\_\_\_\_ ○ \_\_\_\_\_



\_\_\_\_\_ 0 \_\_\_\_\_ = \_\_\_\_\_ / \_\_\_\_\_ - \_\_\_\_\_ 7



\_\_\_\_\_ ○ \_\_\_\_\_ ○ \_\_\_\_\_



\_\_\_\_\_ ○ \_\_\_\_\_ ○ \_\_\_\_\_

پرسیاره کی دی شیکارکهه ■ بیرکنا ب دیتن

وینیه کی دی کیشم کو کردارا لیده رکنی روئبکهت. 5  
رستهیا لیده رکنی دی نقیسم.

\_\_\_\_\_ ○ \_\_\_\_\_ ○ \_\_\_\_\_

چالاکیا مال • داخواری ژ زاروکی خو بکه هندهک تشتان بکاربینیت بو شهگیرانا چیرۆکهکا لیده رکنی،  
و رستهیا لیده رکنی یا گونجای بنقیسیت.



# ههميان دى ليدهر كهم يان چ ليدهر ناكه م

وانهيا ۴



$$\underline{\quad} = 6 - 6$$



$$\underline{\quad} = 0 - 6$$

دى ژيبه م دا رُونبكه م كا چهند چويچك فرين. جوداهيى دى نقيسم.



$$\underline{\quad} = 3 - 3$$



$$\underline{\quad} = 0 - 3$$



$$\underline{\quad} = 0 - 4$$



$$\underline{\quad} = 4 - 4$$



$$\underline{\quad} = 2 - 2$$



$$\underline{\quad} = 0 - 2$$

به حسابكه ■ دهرئه نجام

دى چ پويدهت ده مى تو هه مى تستان ژ كومه له يه كى دهر بكه مى؟

دى چ پويدهت ده مى تو سفرى ژ كومه له يه كى دهر بكه مى؟

# راهینانی دکهم

په لاتینکین فرین دی هه ژمیرم. جوداهی دی نقیسم.



۲

$$\underline{\quad} = 0 - 6$$



۱

$$\underline{\quad} = 5 - 5$$



۴

$$\underline{\quad} = 0 - 2$$



۳

$$= 4 - 4$$




۶

$$= 6 - 6$$




۵

$$\underline{\quad} = 0 - 5$$




پرسیاره کی دی شیکارکهم ■ بیرکنا ب دیتن


۷ وی رسته یا لیده رکرنی دی دهوردهم، نهوا مه رنترین جوداهی تیداب جوداهی دی نقیسم دا ساخبکهم.



$$= 3 - 3$$



$$= 2 - 3$$



$$= 0 - 3$$


چالاکیا مال • داخوای ژ زاروکی خو بکه هندهک وینهیان بکیشیت بو روئکرنا ههردوو کردارین لیده رکرنی (۳ - ۳ و ۰ - ۳). داخوای ژی بکه بیژت چهوا جوداهی ده رننایه د هه ر باره کیدا.

# ژ میانہ ۱۰ دی لیدہ رکہم

وانہیا

۷ شہ شپالوو من ہہ نہ.  
۱ شہ شپالوو دی دویر ٹیخم

$$\underline{\quad} = 1 - 7$$



۷ شہ شپالوو من ہہ نہ. سفر  
شہ شپالویان دی دویر ٹیخم

$$\underline{\quad} = 0 - 7$$



دی بکار ٹینم دا جوداھی بیئمہ دہر.

$$\underline{\quad} = 2 - 7$$

۲

$$\underline{\quad} = 3 - 7$$

۱

$$\underline{\quad} = 0 - 7$$

۴

$$\underline{\quad} = 1 - 7$$

۳

$$\underline{\quad} = 7 - 7$$

۶

$$\underline{\quad} = 5 - 7$$


۵

$$\underline{\quad} = 2 - 8$$

۸

$$\underline{\quad} = 0 - 8$$

۷




۷ = 0 - 7  
6 = 1 - 7  
5 = 2 - 7

بہ حسابکہ ■ دہر ٹہ نجام

شیوازی تہ مامبکہ، رستہ یا لیدہ رکرنی یا د دویقدا  
دہیت کیڑکہ؟ ٹہقی روئبکہ.



# راهینانی دکهم



دی بکارئینم دا جوداهیی بینمه‌در.

\_\_\_\_\_ = 0 - 9 ۱

\_\_\_\_\_ = 2 - 9 ۳

\_\_\_\_\_ = 1 - 9 ۲

\_\_\_\_\_ = 9 - 9 ۵

\_\_\_\_\_ = 5 - 9 ۴

\_\_\_\_\_ = 7 - 10 ۷

\_\_\_\_\_ = 5 - 10 ۶

\_\_\_\_\_ = 9 - 10 ۹

\_\_\_\_\_ = 8 - 10 ۸

## دی نقیسم

چهند رسته‌یین لی‌دهرکرنی ژ ۱۰ ی دی شیم بنقیسم؟  
ئه‌قی دی روئنگه‌م.

چالاکیا مال • داخوای ژ زاروکی خو بکه چهند تشتین بچویک بکاربنیت دا کردارین جوراوجور یین لی‌دهرکرنی ژ ۱۰ ی بنقیست.

# پرسیارہ کی دی شیکارکہم نمونہ یہ کی دی پیکئینم

وانہ یا ۶

ساخدکہم

شیکاردکہم

پلانئ ددانم

تیدگہم



۳ پہلاتینک ل سہر گیایہ کی بجویک بوون. ئیک فری. چہند پہلاتینک مان؟

تیدگہم

داخوازکری چییہ؟

پلانئ ددانم

نمونہ یہ کی دی دروستکہم دا پرسیارئ شیکاربکہم.

شیکاردکہم



دوو پہلاتینک دی مینن.

ساخدکہم

ئہرئ بہرسقا من یا بہرئاقلہ؟ ئہقی رۆنبکہ.


۱ دی بکارئینم بو کوؤمکرنئ یان لیدہرکرنئ.

وینئ دی کیشم سہرجہمی یان جوداہیئ دی نقیسم.

۲ ۴ کولی ل سہر بہرہکینہ. دوو کولیئ دی

ہاتن. بوونہ چہند؟

کولی \_\_\_\_\_



۳ ۵ کویسہلہ ل بہر لیٹا پرویباری

دچوون، ۲ ژ وان راوہستیان، چہند

کویسہلہ بہردہوامن ل سہر

ریٹہ چوونئ؟

کویسہلہ \_\_\_\_\_



ژ ۳ بی دی دەستپیکہم.  
ئیکئ دی ژیبہم،  
ادی مینن



# راهینانی دکهم

دی بکارئینم دا کۆمبکهه یان لیده ربکهه.  
وینئ دی کیشم سه رجه می یان جوداهیی دی نفیسم.

۱ شیلانی ۴ قهلهه دیتن. ۳ ژ  
وان دانه برایی خوه. چههه  
قهلهه مان؟

قهلهه \_\_\_\_\_

۲ ئازادی ۳ قاز بهری نیقرۆ دیتن. پشتی  
نیقرۆ ۳ قازین دی دیتن. ئازادی وی  
رۆژی چههه قاز دیتن؟

قاز \_\_\_\_\_

۳ قیانی ۵ ماسی دیتن، دووژ وان د ناڤ  
ئاڤیدا چوون. چههه ماسی مان؟

ماسی \_\_\_\_\_

## دی نفیسم

چیرۆکهه کا لیده رکنی بو قی وینهی  
بنقیسه .  
رسته یا لیده رکنی بنقیسه .

چالاکیا مال • هندهه چیرۆکین وهه چیرۆکین قی وانئ داریره. داخواری ژ زارۆکی خۆ بکه  
شیکاربههه بکارئینانا هندهه تستان کو پرسیاران بنوینن.



# پیداچوون بهشی ۵ ی


ناف

رسته یا لیڈہر کرنی دی نقیسم.



۲

\_\_\_\_\_ ○ \_\_\_\_\_ ○ \_\_\_\_\_



۱

\_\_\_\_\_ ○ \_\_\_\_\_ ○ \_\_\_\_\_

جوداہی دی نقیسم.



۴

\_\_\_\_\_ = 6 - 6



۳

\_\_\_\_\_ = 0 - 5

رسته یا لیڈہر کرنی ۸ ی دی نقیسم.

\_\_\_\_\_ = \_\_\_\_\_ - 8

۶

\_\_\_\_\_ = \_\_\_\_\_ - 8

۵

جوداہی دی نقیسم.

\_\_\_\_\_ = 2 - 7

۸

\_\_\_\_\_ = 4 - 6

۷

پرسیارہ کی دی شیکارکھم ■ بیرکنا ب دیتن

دی ● بکارئینم دا کوّمبکہم یان لیڈہر بکہم.

وینہی ● دی کیّشم سہرجه می یان جوداہی دی نقیسم.

۹ ۶ میّری ل سہر چقیّ دارہ کیّ بوون. ۳ ژ

وان چوون. چہند میّری ل سہر چقیّ

داریّ مان؟



میّری \_\_\_\_\_

# بەرھەقبوون بۆ ئەزموونى بەشى ۵ ى

ناق

بەرسقا گونجاي دى ھەلبىزىرم



۱ كىز پستەيا لىدەر كرنى دەربىرنى  
ژ وىنەى دكەت؟

$$5 = 1 - 6$$



$$2 = 4 - 6$$



$$3 = 3 - 6$$



$$0 = 6 - 6$$



$$2 - 9$$

۳

$$2 - 8$$

۲

۱۳



۱۲



۷



۶



۵



۶



۱۱



۱۲



۴ ۵ چوچك ل سەر دارەكى بوون. دوو ژ وان فرين. چەند چوچك ل سەر دارى مان؟

۵



۳



۱



۰



۱۱




۸



۶



۵



$$\underline{\hspace{2cm}} = 3 - 8$$

۵ جوداھى چەندە؟

۶

$$\frac{2-}{4}$$



۴

$$\frac{2-}{2}$$



۸

$$\frac{6-}{2}$$



۸


$$\frac{2-}{6}$$



۶ كىز ئەقین خوارى رىكەكا دىيە بۆ نقيسنا ۶ - ۲ = ۴؟



# چەند رېكەك بۇ كۆمكرنى و لېدەر كرنى



ل دوو كۆمەلەيان دى  
گەرپ دا ۱۰ اى  
بدەستخوۋقە بىنم





## نامەپەك بۆ كەسوکاران

كەسو كارىن خۆشتىقى:

ئەفرۆ دى دەست ب بەشى ۶ كەين. دى فېرىن چەوا بەرەق  
پېش دى ھۆمبېرىن، ھەروەسا دوو ھندە دى زانېن، ئەو ھندەك  
جاران ھارىكاريا مە دكەت بۆ دەرتىخستنا سەرجمى. ھندەك  
زاراڧىن بېر كارىي پېن نوى و چالاكى دقى لاپەرىدا ھەنە،  
پېكقە ل مال دى بى پايىن.

زاراڧىن نوى

دوو ھندە  
ھۆمارتن بەرەق پېش  
ھۆمارتن بەرەق پاش  
ھىلا ژمارەيان

دگەل فىانا مە

## چالاكى

ھندەك پرسىاران پېكبېنە، كۆمكرن د  
ناڧدا ديار بېت. ھندەك تىشتان بكاربېنە  
كو د ژيانا خۆيا پۆژانەدا دبېنى، چ ل  
مال يان ل جھەكى دى. دوو كۆمەلەيىن  
تشتىن يەكسان ل پېش خۆ دانە، ب  
مەرجهكى ئىك ژ وان كۆمەلەيان ژ ئىك  
ھەتا چار تىشتان تىدا بن. ھارىكاريا  
زارۆكى خۆ بگە بۆ ناسىنا دوو ھندە، و  
داخوازى ژى بگە سەرجمى بدەتە تە.  
و ھۆسا، كۆمەلەيەكا ژ (۱۰) لېىن  
باھىقان ئان مېوېژان بدە زارۆكى خوە،  
و داخوازى ژى بگە ئىكى  
ل دويف ئىكى بخۆت، و ھەر جارەكى،  
رستەيا لىدەركرنى يا گونجايى بنقىسىت.

## زاراڧ

دوو ھندە دبېتە سەرجمى دوو ژمارەيىن  
يەكسان.  $8 = 4 + 4$  ۸ دوو ھندى ژمارەيا  
۵(۴).

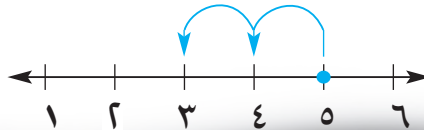
ھۆمارتن بەرەق پېش رېكەكە بۆ كۆمكرنى. دا  
۶، ۲ كۆمبەكە، ژ ژمارەيا مەزن ۶ دەست پى  
بگە، پاشى بەرەق پېش دوو جاران بەھۆمبېرە:

$$8 = 2 + 6$$

ھۆمارتن بەرەق پاش رېكەكە بۆ لىدەركرنى.  
ھۆمارتن بەرەق پاش ژ ژمارەيا مەزن دەست  
پى دكەت:  $3 = 2 - 5$

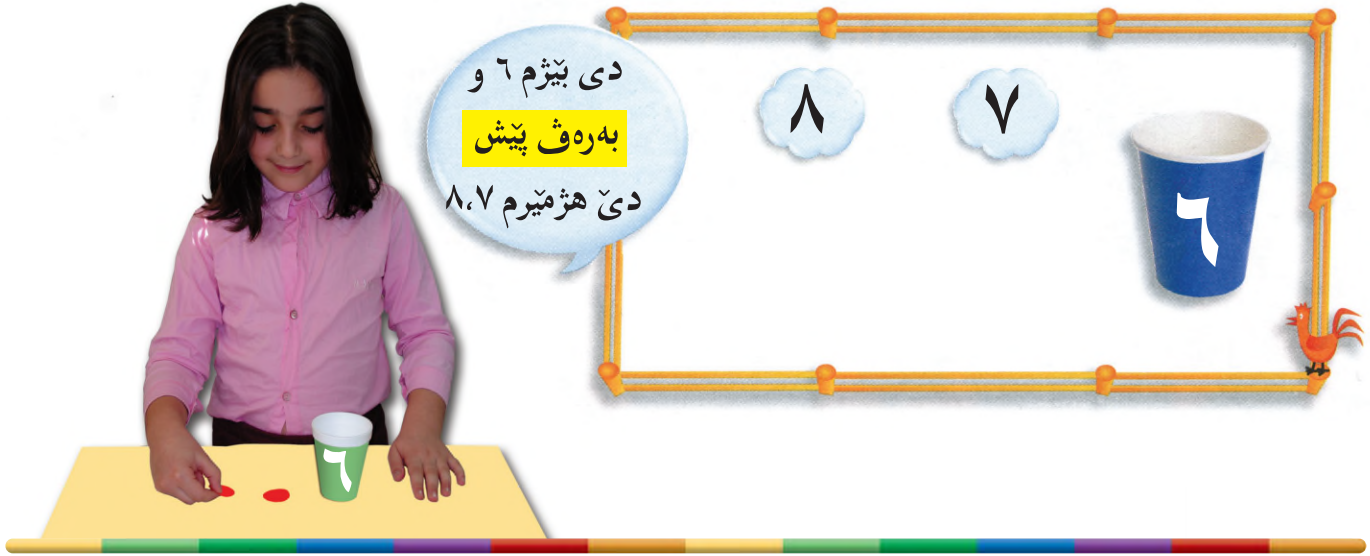
دى ژ (۵) دى دەست بى كەم و  
دى (۳، ۴) ھۆمبېرىم بۆ پاش:

ھىلا ژمارەيان دى بكارىنن دا ھارىكاريا مە  
بگەت بۆ ھۆمارتن بەرەق پاش.









# بەرەق پېش دى ھزىمىرم

وانهيا ۱




دى بكارئىنم. بەرەق پېش دى ھزىمىرم، سەرجهمى دى تقىسم.







بەحسبکە ■ دەرئەنجام

چەوا بەرەق پېش دى ھزىمىرى بۇ قەدىتتا سەرجهمى ۶ + ۲ = ؟  
ئەرى يا گرنگە ل نك تە، ب كىژ ژمارى دەست پى بکەى؟ رۇنكە.



# راهینانی دکهم

به رهف پیش دی هژمیڤم. سه رجهمی دی تقیسم.



\_\_\_\_\_ = 3 + 6

\_\_\_\_\_ = 2 + 8

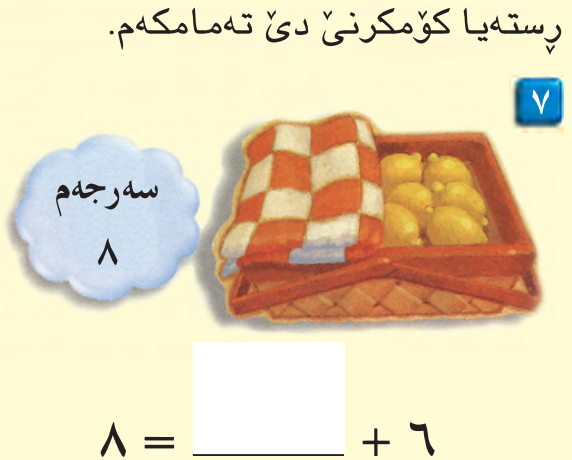

\_\_\_\_\_ = 1 + 9 5

\_\_\_\_\_ = 3 + 3

\_\_\_\_\_ = 3 + 5

\_\_\_\_\_ = 2 + 7 6

رستهیا کۆمکرنی دی ته مامکه م.



چالاکیا مال • داخوای ژ زارۆکی خو بکه چهند تشتان د ناف کومه له یه کیدا بهژمیڤیت ، ژمارهیا دانه یین وی ژ 8 کیتر بیت. پاشی داخوای ژ بکه به رهف پیش بهژمیڤیت بو زیده کرنا 3 .



# دوو ھندہ دکھم

وانہیا ۲



دی بکارئینم.

رستہ یہ کا کو مکرئی دی نقیسم.


<p>۲</p> <p>○ ○</p>	<p>۱</p> <p>○ ○</p>
<p>۴</p> <p>○ ○</p>	<p>۳</p> <p>○ ○</p>



بہ حسابکہ ■ دہرئہ نجام

کیژ ژمارہ ژ فان ژمارہ یان دوو ھندہ نینہ؟  
رؤنیکہ.

# راهینانی دکهم



$$\begin{array}{r} 5 \\ 5 + \\ \hline 10 \end{array}$$

دوو هنده ل کویقه ببینم دی دهوردهم، پاشی دی کۆمکهه.

$$\begin{array}{r} 1 \\ 1 + \\ \hline 2 \end{array}$$

$$\begin{array}{r} 2 \\ 2 + \\ \hline 4 \end{array}$$

$$\begin{array}{r} 1 \\ 1 + \\ \hline 2 \end{array}$$

$$\begin{array}{r} 5 \\ 2 + \\ \hline 7 \end{array}$$

1

$$\begin{array}{r} 7 \\ 3 + \\ \hline 10 \end{array}$$

$$\begin{array}{r} 9 \\ 1 + \\ \hline 10 \end{array}$$

$$\begin{array}{r} 6 \\ 1 + \\ \hline 7 \end{array}$$

$$\begin{array}{r} 4 \\ 4 + \\ \hline 8 \end{array}$$

2

$$\begin{array}{r} 2 \\ 2 + \\ \hline 4 \end{array}$$

$$\begin{array}{r} 7 \\ 2 + \\ \hline 9 \end{array}$$

$$\begin{array}{r} 8 \\ 2 + \\ \hline 10 \end{array}$$

$$\begin{array}{r} 5 \\ 5 + \\ \hline 10 \end{array}$$

3

پرسیارهکی دی شیکار کهه ■ بیرکنا ب دیتن

رستهیهکا کۆمکرنی دی نقیسم. دوو هنده دی د ناڤدا دیارکهه.



5



4



چالاکیا مال • داخوای ژ زارۆکی خۆ بکه ژمارهیهکی ههلبژیریت دناڤههرا 1، 5 یدا و بکاربینیت بۆ

نقیسینا رستهیهکا کۆمکرنی، کو دوو هنده تییدا دیار بیت.

# ژ میاناً ۱۰ دى كۆمكەم

وانهيا ۳

$$\begin{array}{r} 3 \\ \square \end{array}$$



$$\begin{array}{r} 0 \\ \square \end{array} +$$



$$\begin{array}{r} 8 \\ \square \end{array}$$

$$\begin{array}{r} 5 \\ 3 + \\ \hline 8 \end{array}$$



دى كۆمكەم. رېزكرنى دى گوھۆرم، پاشى كردارا كۆمكرنى يا نوى دى نقيسم.

$$\begin{array}{r} \square \\ \square \end{array}$$

$$\begin{array}{r} 1 \\ 7 + \\ \hline \end{array}$$

$$\begin{array}{r} \square \\ \square \end{array} +$$

$$\begin{array}{r} \square \\ \square \end{array}$$

$$\begin{array}{r} \square \\ \square \end{array}$$

$$\begin{array}{r} 4 \\ 3 + \\ \hline \end{array}$$

$$\begin{array}{r} \square \\ \square \end{array} +$$

$$\begin{array}{r} \square \\ \square \end{array}$$

$$\begin{array}{r} \square \\ \square \end{array}$$

$$\begin{array}{r} 5 \\ 2 + \\ \hline \end{array}$$

$$\begin{array}{r} \square \\ \square \end{array} +$$

$$\begin{array}{r} \square \\ \square \end{array}$$

۱

$$\begin{array}{r} \square \\ \square \end{array}$$

$$\begin{array}{r} 1 \\ 5 + \\ \hline \end{array}$$

$$\begin{array}{r} \square \\ \square \end{array} +$$

$$\begin{array}{r} \square \\ \square \end{array}$$

$$\begin{array}{r} \square \\ \square \end{array}$$

$$\begin{array}{r} 7 \\ 0 + \\ \hline \end{array}$$

$$\begin{array}{r} \square \\ \square \end{array} +$$

$$\begin{array}{r} \square \\ \square \end{array}$$

$$\begin{array}{r} \square \\ \square \end{array}$$

$$\begin{array}{r} 6 \\ 2 + \\ \hline \end{array}$$

$$\begin{array}{r} \square \\ \square \end{array} +$$

$$\begin{array}{r} \square \\ \square \end{array}$$

۲

$$\begin{array}{r} \square \\ \square \end{array}$$

$$\begin{array}{r} 4 \\ 2 + \\ \hline \end{array}$$

$$\begin{array}{r} \square \\ \square \end{array} +$$

$$\begin{array}{r} \square \\ \square \end{array}$$

$$\begin{array}{r} \square \\ \square \end{array}$$

$$\begin{array}{r} 2 \\ 3 + \\ \hline \end{array}$$

$$\begin{array}{r} \square \\ \square \end{array} +$$

$$\begin{array}{r} \square \\ \square \end{array}$$

$$\begin{array}{r} \square \\ \square \end{array}$$

$$\begin{array}{r} 0 \\ 2 + \\ \hline \end{array}$$

$$\begin{array}{r} \square \\ \square \end{array} +$$

$$\begin{array}{r} \square \\ \square \end{array}$$

۳

به حسابك ■ ده رنه نجام

سه رجه مى دوو ژماره يان دى چ ليهيئت نه گهر ريزكرنا وان بگوهورين؟



# راہینانی دکھم

دی کۆمکھم. سەرجهمی دی نقیسم.

$\begin{array}{r} ۲ \\ ۷+ \end{array}$	$\begin{array}{r} ۷ \\ ۲+ \end{array}$	۳	$\begin{array}{r} ۱ \\ ۹+ \end{array}$	$\begin{array}{r} ۹ \\ ۱+ \end{array}$	۲	$\begin{array}{r} ۰ \\ ۹+ \end{array}$	$\begin{array}{r} ۹ \\ ۰+ \end{array}$	۱
--	--	---	--	--	---	--	--	---

$\begin{array}{r} ۵ \\ ۲+ \end{array}$	$\begin{array}{r} ۳ \\ ۵+ \end{array}$	۶	$\begin{array}{r} ۲ \\ ۶+ \end{array}$	$\begin{array}{r} ۶ \\ ۲+ \end{array}$	۵	$\begin{array}{r} ۱ \\ ۸+ \end{array}$	$\begin{array}{r} ۸ \\ ۱+ \end{array}$	۴
--	--	---	--	--	---	--	--	---

$\begin{array}{r} ۷ \\ ۱+ \end{array}$	$\begin{array}{r} ۱ \\ ۷+ \end{array}$	۹	$\begin{array}{r} ۲ \\ ۸+ \end{array}$	$\begin{array}{r} ۸ \\ ۲+ \end{array}$	۸	$\begin{array}{r} ۲ \\ ۵+ \end{array}$	$\begin{array}{r} ۵ \\ ۲+ \end{array}$	۷
--	--	---	--	--	---	--	--	---

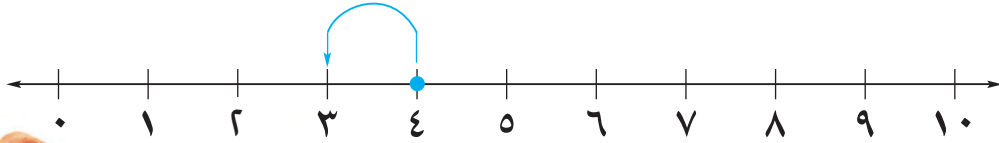
## پیداچوون

هه می رسته یین کۆمکرنی دی نقیسم ئه وین ۵ ژئی دهر دکه قت.

$۵ = \underline{\quad} + \underline{\quad}$	۱۳	$۵ = \underline{\quad} + \underline{\quad}$	۱۰
$۵ = \underline{\quad} + \underline{\quad}$	۱۴	$۵ = \underline{\quad} + \underline{\quad}$	۱۱
$۵ = \underline{\quad} + \underline{\quad}$	۱۵	$۵ = \underline{\quad} + \underline{\quad}$	۱۲


چالاکیا مال • ژماره یه کی ل ناقبه را ۱ ئه تا ۱۰ ئه هلبژیره، پاشی داخوای ژ زاروکی خۆ بکه کرداره کا کۆمکرنی بده ته ته کو سەرجهمی وی یه کسان بیت بو وی ژماره یا ته هلبژارتی. قی چالاکیی دوباره بکه دگهل ژماره یه کا دی.

# بهرهف پاش دى هژميرم



ل سه رهيلا ژمارهيان ژ ۴ دى دهسپيکه م و  
اى بهرهف پاش دى هژميرم، نهوئه زل کيفه مه؟

$$3 = 4 - 1$$



ل سه رهيلا ژمارهيان ژ ۴ دى دهسپيکه م و ۲  
بهرهف پاش دى هژميرم، نهوئه زل کيفه مه؟

$$2 = 4 - 2$$

هيلا ژمارهيان دى بکارئينم و بهرهف پاش  
دى هژميرم دا ليدهر بکه م.



۲

$$\underline{\quad} = 1 - 3$$



۱

$$\underline{\quad} = 2 - 2$$



۴

$$\underline{\quad} = 2 - 5$$



۳

$$\underline{\quad} = 2 - 3$$



۶

$$\underline{\quad} = 2 - 8$$



۵

$$\underline{\quad} = 1 - 10$$

به حسابکه ■ ده رئه نجام

دهمى تو هيلا ژمارهيان بو ليدهر کرنى بکار دئينى، بوچى بهرهف لايى چه پى دچى؟

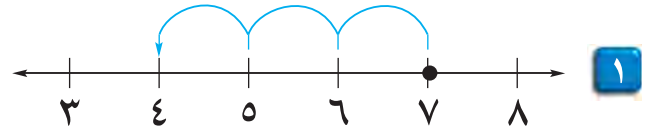


# راهینانی دکهم

هیلا ژمارهیان دی بکارئینم و بهرهف پاش دی هژمیرم دا لیده ربکه م.



$$\underline{\hspace{2cm}} = 3 - 8$$



$$\underline{4} = 3 - 7$$



$$\underline{\hspace{2cm}} = 2 - 10$$




$$\underline{\hspace{2cm}} = 1 - 5$$



$$\underline{\hspace{2cm}} = 3 - 9$$

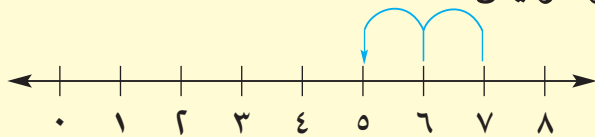


$$\underline{\hspace{2cm}} = 5 - 5$$



## پرسیاره کی دی شیکارکه م ■ بجهئینان

رسته یه کا ژمارهیی دی نفیسم. هیلا ژمارهیان دی بکارئینم دا شیکارکه م.



7 چویچک ل ویړی بوون. دووژ

وان فرین. چهند چویچک مان؟

چوله که

چالاکیا مال • داخوای ژ زاروکی خو بکه بو ته دیار بکه ت چهوا هژمارتنی بهرهف پاش بکارئینیت بو

دیتنا جوداهیا 9 - 3.



# كۆمكرن و ليدەكرنى دى پيىكفە گريدهم

وانهيا

هەردوو كردارىن كۆمكرن وليدهركرنى دوو راستينه، ئيك ب ياديقفە گريدايه.


هەر ئەوان ژمارەيان دى بكارئينم  
د كۆمكرن و ليدەركرئيدا.



$$7 = 3 - 10$$



$$10 = 3 + 7$$



دى و بكارئينم دا كۆمبكهەم يان ليدەركهەم.  
خشتهى دى تەمامكهەم.

ل دەف منە زیدە دکەم	سەرجهمی دى نقیسم	دی ژى وەرگرم	جوداهیی دى نقیسم
4	$2 + 4 =$ _____	2	$2 - 6 =$ _____
5	$3 + 5 =$ _____	3	$3 - 8 =$ _____
2	$5 + 2 =$ _____	5	$5 - 7 =$ _____
7	$2 + 7 =$ _____	2	$2 - 9 =$ _____
8	$0 + 8 =$ _____	0	$0 - 8 =$ _____

به حسابكه ■ دەرئەنجام

رستهيا كۆمكرنى  $9 = 3 + 6$  و رستهيا ليدەركرنى  $6 = 3 - 9$  ب چ وهك ئيكن؟ و ب چ ژيىكجودانه؟  
بوچى دبيژين پيىكفە گريدان د نابقهرا وانداهيه؟

# راهینانی دکهه



دی کۆمکهه پاشی دی لیدهرکهه.

$$\underline{9} = 4 + 5$$

$$\underline{0} = 4 - 4$$



$$\underline{\quad} = 1 + 7$$

$$\underline{\quad} = 1 - 8$$



$$\underline{\quad} = 3 + 4$$

$$\underline{\quad} = 3 - 7$$



$$\underline{10} \quad \underline{6} \quad \text{6} \\ \underline{4} - \quad \underline{4} +$$

$$\underline{8} \quad \underline{4} \quad \text{5} \\ \underline{4} - \quad \underline{4} +$$

$$\underline{9} \quad \underline{8} \quad \text{4} \\ \underline{1} - \quad \underline{1} +$$



## پرسیارهکی دی شیکار کهه ■ بجهینان

دی شیکارکهه. پاشی رستهیا کۆمکرنی یان رستهیا لیدهرکرنا گونجای دی نقیسم.

8 چویچک ل سهر دارهکی بوون. 3

چویچک ژ وان فرین.

چهند چویچک ل سهر داری مان؟

5 پهرتووک ل سهر رهفهکی بوون.

بلندی 3 پهرتووکین دی دانانه سهر

وان. ههمی بوونه چهند پهرتووک؟

\_\_\_\_\_ ○ \_\_\_\_\_ ○ \_\_\_\_\_

\_\_\_\_\_ ○ \_\_\_\_\_ ○ \_\_\_\_\_

چالاکیا مال • داخوای ژ زارۆکی خوه بکه، 10 تشتین بچویک بکاربونت دا پرسیارهکا کۆمکرنی شیکار

بکهت. داخوای ژئی بکه رستهیا کۆمکرنی و رستهیا لیدهرکرنا ئەوا پیقهگریډای بنقیست.

# وانهيا ٦ — هندهك راستيين پيگه گريدايي يين ليدهرکرنى



هه کهر من ئیک ژهردوو رستهيان زانی، یادی ژى دى زانم.

$$2 = 8 - 6$$

$$6 = 6 - 2$$

دى ليدهرکهه. وان دوو رستهيان دى دهوردهم کو هه ژماره تيدا دياربين.

$$\underline{\quad} = 3 - 4 \quad \boxed{2}$$

$$\underline{\quad} = 5 - 7 \quad \boxed{1}$$

$$\underline{\quad} = 2 - 7$$

$$\underline{\quad} = 1 - 4$$

$$\underline{\quad} = 4 - 7 \quad \boxed{4}$$

$$\underline{\quad} = 5 - 5 \quad \boxed{3}$$

$$\underline{\quad} = 3 - 7$$

$$\underline{\quad} = 0 - 5$$

$$\begin{array}{r} 7 \\ \cdot - \\ \hline \end{array} \quad \begin{array}{r} 7 \\ 7 - \\ \hline \end{array} \quad \boxed{6}$$

$$\begin{array}{r} 9 \\ 8 - \\ \hline \end{array} \quad \begin{array}{r} 9 \\ 1 - \\ \hline \end{array} \quad \boxed{5}$$

$$\begin{array}{r} 8 \\ 5 - \\ \hline \end{array} \quad \begin{array}{r} 8 \\ 3 - \\ \hline \end{array} \quad \boxed{8}$$

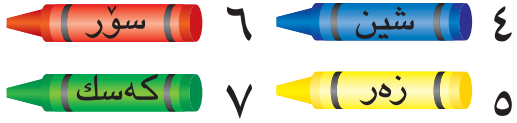
$$\begin{array}{r} 8 \\ 2 - \\ \hline \end{array} \quad \begin{array}{r} 8 \\ 6 - \\ \hline \end{array} \quad \boxed{7}$$

به حسابکه ■ دهه نه نجام


چه ند رسته يين ليدهرکرنى دى شى بنقيسى هه کهر ژماره يين 2 و 3 و 5 بكار بينى؟ پوونبکه.



# راهینانی دکهم



دی لیدرکه م پاشی هر به شه کی ب رهنگه کی  
گونجای بو جوداهی دی رهنگه م.



# پرسیاره کی دی شیکارکه م کردارا گونجای دی هژمیرم

وانهیا ۷

تیځه م

پلانی ددانم

شیکارکه م

ساختکه م

په یقا کومدکه م یان لیدهر دکه م دی  
دهورده م. کردارا هژمارتنی دی  
نقیسم.

سیف کیم بوون.  
دقیت لیدهر دکه م.

کومدکه م لیدهر دکه م

۷ ۴ ۱۰



۱ ژیمانی ۱۰ سیف هه نه، ۴  
سیف ژوان دانه خویشکا خو.  
چهند سیف ل نک ژیمانی  
مان؟

۲ مه ۷ پارچه یین شریناهی  
هه بوون. کلارایی ۴ پارچه  
ژی خوارن. چهند پارچه ژ  
شریناهیی مان؟

پارچه یین شریناهی

۳ چنگال ل سهر میزه کا  
نانخوارنی هه نه. زیلانی ۴ یین  
دی ئینان. هه می بوونه چهند؟

چنگال

۴ ژیهاتی ۹ گیزهر دانه  
کیقریشکه کی. کیقریشکی ۵  
گیزهر خوارن، چهند گیزهر  
مان؟

گیزهر

کومدکه م لیدهر دکه م

○ ○

کومدکه م لیدهر دکه م

○ ○

کومدکه م لیدهر دکه م

○ ○



# راهینانی دکهم



کۆمدکهم یان لیدهدر دکهم.

۱ ۵ پارچه یین شرینی ل سهر میزه کی هه بوون. ره قهندی ۲ پارچه یین دی ئاماده کرن. ژماره یا پارچه یین شرینی بوونه چهند؟ پارچه     

لیدهدر دکهم

کۆمدکهم




۲ ۶ سیف د سه لکیدا هه بوون.

زارپوکان ۲ سیف خوارن. چهند سیف مان؟

لیدهدر دکهم

کۆمدکهم




سیف     

۳ شاهان ۷ کوپ هه بوون. ۳ کوپین دی

ژی به ره هه فکرن. ژماره یا کوپان بوو چهند؟

لیدهدر دکهم

کۆمدکهم




کوپ     

۴ ۸ سهنده ویچ د سینیکه کیدا هه بوون. میقانان

۳ ژوان خوارن. چهند مان؟

لیدهدر دکهم

کۆمدکهم



سهنده ویچ     



بنقیسه.

چیرۆکه کا کۆمکرنی یان لیدهدر کرنی دی قه گیروم.

کردارا هژمارتنی دی نقیسم. وینه یه کی دی کیشم دا ساخبکهم.

چالاکیا مال • پرسیارا زارپوکی خو بکه چهوا کردار هه لبرارتیه بو هه راهینانه کا د فی لاپه ریدا.



# پیداچوون

## بهشی ۶ ی

ناف

دی لیدرکهه پاشی ههردوو کردارین،  
ههمان ژماره تیدا بن دی دهوردهم.

$$\underline{\hspace{2cm}} = 8 - 10 \quad \boxed{2}$$

$$\underline{\hspace{2cm}} = 5 - 9 \quad \boxed{1}$$

$$\underline{\hspace{2cm}} = 2 - 10$$

$$\underline{\hspace{2cm}} = 4 - 9$$

هیلا ژمارهیان دی بکارئینم، و بهرهف پاش دی ههژمیرم دا لیدر بکهه.



$$\underline{\hspace{2cm}} = 2 - 10$$

$$\underline{\hspace{2cm}} = 1 - 7$$

ل کیهه دوو هنده ببینم دی دهوردهم. دی کوّمکهه و سههجهمی دی نقیسم.

$$\begin{array}{r} 2 \\ 4 + \end{array}$$

$$\begin{array}{r} 6 \\ 3 + \end{array}$$

$$\begin{array}{r} 7 \\ 2 + \end{array}$$

$$\begin{array}{r} 4 \\ 4 + \end{array}$$

$$\begin{array}{r} 2 \\ 5 + \end{array}$$

$$\begin{array}{r} 9 \\ 1 + \end{array}$$

بهههف پییش دی ههژمیرم. سههجهمی دی نقیسم.



$$\underline{\hspace{2cm}} = 3 + 7$$



$$\underline{\hspace{2cm}} = 1 + 8$$



پرسیارهکی دی شیکارکهه

پهیقا کوّمکهه یان لیدرکهه دی دهوردهم.  
رستهیهکا ژمارهیی دی نقیسم.

۱۰ گۆزکین هنگینی ههبوون.

ژ وان شکهستن. چهند گۆزک مان؟

کوّمکهه لیدرکهه

$$\underline{\hspace{2cm}} = \underline{\hspace{2cm}} \bigcirc \underline{\hspace{2cm}}$$

گۆزک

بەرھەقبوون بۆ  
ئەزموونى  
بەشى ۶ ى

ناق

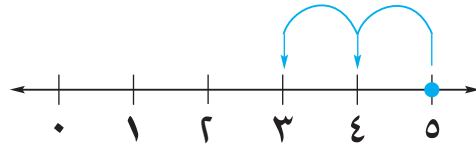
بەرسقا دروست دى ھەلبىزىم.

۴ + ۵

۱ - ۱۰



۳ ھىلا ژمارەيان چ ديار دکەت؟



۳ + ۲

۲ + ۳

۲ - ۵

۳ - ۵



۴ نىقىنى ۹ گویز ھەنە. ۳ ژى شکاندن و خوارن. چەند گویز بۆ مان؟

۶

۷

۹

۱۲



۵ ۳ مۆز د سىنىكەكىدا ھەبوون. ۲ مۆزىن دى بۆزىدەكرن.

كىژ رستە ژمارەيا مۆزىن د سىنىكىدا دنوینت؟

۴ = ۲ + ۲

۵ = ۲ + ۳

۰ = ۳ - ۳

۱ = ۲ - ۳



۶ بكاربىنە. چار رستەيىن ژمارەيى دى نقيسم كو ھەمان ژمارە تىدا بيت.

\_\_\_ ○ \_\_\_ ○ \_\_\_

\_\_\_ ○ \_\_\_ ○ \_\_\_

\_\_\_ ○ \_\_\_ ○ \_\_\_

\_\_\_ ○ \_\_\_ ○ \_\_\_



# ژماره ههتا ۹۹



خالان د ههر ستوونه کیدا دی هژمیږم،  
چهند ستوونان دبینم؟ ژماره یا هه می خالان چهنده؟





## نامہ پیک بۆ کہ سوکاران

کہ سوکارین خوشتقی:

تہ فرۆ دی دہست ب بہشی ۷ ی کہین. دی فیری ژمارہیان ہتا ۹۹ ی بین  
ب ہژمارتن و نقیسین و خواندن. دی فیری دہان بین و ژمارہیان دی  
ژیکجودا کہین بۆ یہ کان و دہان. ہندہک زاراقین بیرکاری یین نوی  
و چالاکی دفی لاپہریدا ہنہ، ل مال پیکفہ دی بی رایین.

زاراقین نوی

دہان



یہ کان

دگہل فیانا مه

## چ ا ل ا ک ی


کاغہزہکی د نیقیپرا قہچہمینہ، و ل نیقا  
لایئ چہپی دہان ل سہر دیار بکہ و ل  
نیقا لایئ راستی یہ کان دیار بکہ.  
کۆمہلہیہکا تشتین بچووک بدہ زارۆکی  
خۆ وەکی لبین فاسولیا بۆ نمونہ، و  
داخواری ژئ بکہ ل دویف شیانین خۆ،  
کۆمہلہیین تشتان ب دہان کۆمبکہت،  
و ل نیقا لایئ چہپی یئ کاغہزی  
دانیت. پاشی داخواری ژئ بکہ یہ کین  
مایئ ل نیقا لایئ راستی دانیت.  
دوماہیی داخواری ژئ بکہ ژماری  
بنقیسیت.

## زاراف

دہان	یہ کان
	

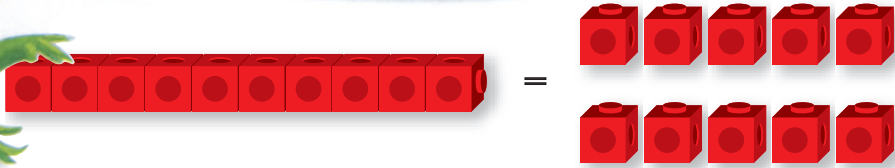
۵ یہ کان و ۳ دہان = ۳۵

سیہ و پینج



۹ دہ = نوٹ

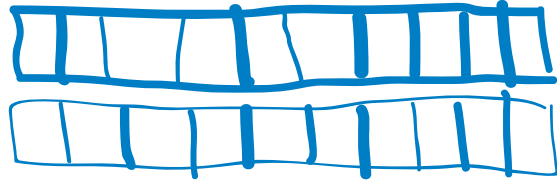
تو دشي تستان ب كومهلهين ژ دهان كومبكه،  
و دهه دهه بهژميري دا ژماري بينه دهه.



۱۰ = نيك دهه

دئ بكارئينم دا دهان كومبكه. وينهين دهان دئ كيسم.  
دهه دهه دئ هژميرم و ژماري دئ نقيسم.

۱ دوو دهان دئ كومبكه.



۲۰

بيست



۲ سي دهان دئ كومبكه.

سيه



۳ پينج دهان دئ كومبكه.

پينچي

به حسابكه ■ ده رنه نجام

چهند دهه د ۸۰ یدا هه نه؟ ته چهوا زانی؟


# راهینانی دکهم



ژمارهیا دهان دی نقیم. ده دهه دی هژمیرم.  
ژمارهیا همیان دی نقیم.


۳۰  
سه

۳  
دهه




نوٲ

دهه



هفتی

دهه




چل

دهه



شپست

دهه



چالاکیا مال • داخوای ژ زاروکی خو بکه تشتان ب دهان کومبکته، و ژمارهیا وان بدهته ته.

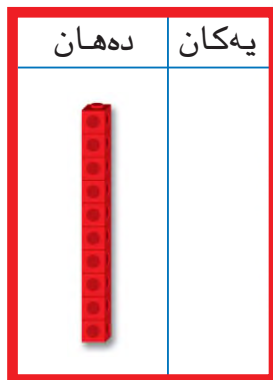
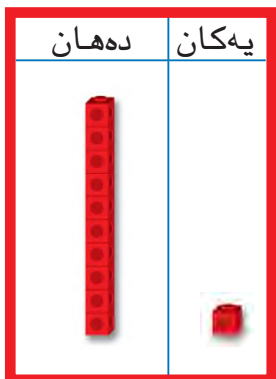


# يەكان و دەھان

وانهيا ۲

۱۱ دېتە كۆمەلەيەك ژ دەھى و  
ئىكە كاكەت.


۱۰ دېتە كۆمەلەيەك ژ دەھى بىي  
يەكان.




۱ يەكان ۱ دەھان = ۱۱

۰ يەكان ۱ دەھان = ۱۰


كۆمەلەيا دەھان و يەكان دى نيشادەم، ژمارهيا يەكان و ژمارهيا دەھان دى نقيسم. ژمارى دى نقيسم.




\_\_\_\_\_ يەكان \_\_\_\_\_ دەھان = \_\_\_\_\_



\_\_\_\_\_ يەكان \_\_\_\_\_ دەھان = \_\_\_\_\_



\_\_\_\_\_ يەكان \_\_\_\_\_ دەھان = \_\_\_\_\_




\_\_\_\_\_ يەكان \_\_\_\_\_ دەھان = \_\_\_\_\_




بەحسبە ■ دەرئەنجام

ھەردوو ژمارە ب چ وەك ئىكن؟ و ب چ ژىكجودانە؟  
دى بكارئىنم بۇ دياركرنا بەرسقى.


# راهینانی دکهم




ژمارهیا یهکان و ژمارهیا دهان دی نقیسم. ژماری دی نقیسم.




\_\_\_\_\_ یهکان \_\_\_\_\_ دهان = \_\_\_\_\_



\_\_\_\_\_ یهکان \_\_\_\_\_ دهان = \_\_\_\_\_



\_\_\_\_\_ یهکان \_\_\_\_\_ دهان = \_\_\_\_\_



\_\_\_\_\_ یهکان \_\_\_\_\_ دهان = \_\_\_\_\_



پرسیارهکی دی شیکار کهم ■ رامانا ژماری.

ئەز کیژ ژمارهه؟

ئەز ژمارهیهکم ژ ۱۰ ی پتر و ژ ۲۰ بچووکترم. ۵

ژمارهیا یهکانین من یهکسانه دگهل ژمارهیا

دهانین من. ئەز کیژ ژمارهه؟

چالاکیا مال • داخوای ژ زاروکی خۆ بکه تشتین بچوک بکاربینیت بۆ نواندنا ژمارهیا د ناقبهرا ۱۰ ی


و ۲۰ یدا. داخوای ژ بکه کۆمهلهیین یهکان و دهان پیکبینیت. داخوای ژ بکه ژمارهیا یهکان و ژمارهیا

دهان و ژمارهیا ب دهستکهفتی بدهته ته.

# ژماره ههتا ٩٩

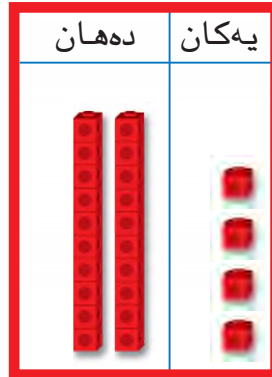
وانهيا ٣

٤٢ پيکھاتيہ ژ ٤ دهان  
و دوو يهکان



٢ يهکان ٤ دهان ٤٢


٢٤ پيکھاتيہ ژ دوو دهان  
و ٤ يهکان




٤ يهکان ٢ دهان = ٢٤



کۆمهلهيئن دهان دي نيشادهم. يهکان دي نيشا دهم. ژمارهيا يهکان و ژمارهيا دهان دي نقيسم. ژماري دي نقيسم.




\_\_\_\_\_ يهکان \_\_\_\_\_ دهان = \_\_\_\_\_



\_\_\_\_\_ يهکان \_\_\_\_\_ دهان = \_\_\_\_\_



\_\_\_\_\_ يهکان \_\_\_\_\_ دهان = \_\_\_\_\_



\_\_\_\_\_ يهکان \_\_\_\_\_ دهان = \_\_\_\_\_




به حسابکه ■ دهرئه نجام

سفره ژماره ٣٠ دا چ دگه هينيت؟


دي بکارئيئم بو پرونکرنا به رسقي؟




# راهینانی دکهم




ژمارهیا یهکان و ژمارهیا دهان دی نقیسم. ژماری دی نقیسم.




\_\_\_\_\_ یهکان \_\_\_\_\_ دهان = \_\_\_\_\_



\_\_\_\_\_ یهکان \_\_\_\_\_ دهان = \_\_\_\_\_



\_\_\_\_\_ یهکان \_\_\_\_\_ دهان = \_\_\_\_\_




\_\_\_\_\_ یهکان \_\_\_\_\_ دهان = \_\_\_\_\_



پرسیارهکی دی شیکارکهم ■ درئه انجام ب دیتن

ژماری ب شیوهیهکی دی دی پونکهم.



چالاکیا مال • داخوای ژاروکی خو بکه وی ژماری بیژیت ئهوا پیکهاتی ژ ۳ یهکان و ۷ دهان. قی

کرداری دوباره بکه دگهل چند ژمارهیین دی.


# ژماره‌يان دى ژيکجوداکه‌م

وانه‌يا ۴




هندهك ريکين جودا هه نه  
بو نقيسينا ژمارى

۵ يه‌کان و ۹ دهان  
۹۰ + ۵  
۹۵




$$\begin{array}{r} 90 = \text{دهان } 9 \text{ يه‌کان } 0 \\ 90 + 0 \end{array}$$


ژماره‌يا يه‌کان و ژماره‌يا دهان دى نقيسم.  
ژمارى ب ريکه‌کا جودا دى نقيسم.




\_\_\_\_\_ يه‌کان \_\_\_\_\_ دهان = \_\_\_\_\_  
\_\_\_\_\_ + \_\_\_\_\_



\_\_\_\_\_ يه‌کان \_\_\_\_\_ دهان = \_\_\_\_\_  
\_\_\_\_\_ + \_\_\_\_\_



\_\_\_\_\_ يه‌کان \_\_\_\_\_ دهان = \_\_\_\_\_  
\_\_\_\_\_ + \_\_\_\_\_



\_\_\_\_\_ يه‌کان \_\_\_\_\_ دهان = \_\_\_\_\_  
\_\_\_\_\_ + \_\_\_\_\_




به‌حسبکه ■ دهرئه‌نجام

ژماره ۸ د قان هه‌ردوو ژماره‌ياندا (۴۸، ۸۴) چ دنوينيت؟  
و بکاربينه بو روئکرنا به‌رسقى.


# راهینانی دکهم




ژمارهیا یهکان و ژمارهیا دهان دی نقیسم.  
ژمارئ ب ریکهکا جودا دی نقیسم.




\_\_\_\_\_ = دهان \_\_\_\_\_ یهکان \_\_\_\_\_  
\_\_\_\_\_ + \_\_\_\_\_



\_\_\_\_\_ = دهان \_\_\_\_\_ یهکان \_\_\_\_\_  
\_\_\_\_\_ + \_\_\_\_\_



\_\_\_\_\_ = دهان \_\_\_\_\_ یهکان \_\_\_\_\_  
\_\_\_\_\_ + \_\_\_\_\_



\_\_\_\_\_ = دهان \_\_\_\_\_ یهکان \_\_\_\_\_  
\_\_\_\_\_ + \_\_\_\_\_

## پرسیارهکی دی شیکارکهم ■ درئه نجام

دی بکارئینم بو شیکارکرنی.

هیوای ۳۷ شریتین وینهیین پیقه نیس هه بون. ههر ۱۰  
وینه ژوان شریتان ب لاپه رکی دفته را خوڤه نیساندن.  
چهند لاپه ر ب فان شریتان پرکرن؟

لاپه ر \_\_\_\_\_

شریتین وینه یان \_\_\_\_\_

چهند شریت بو مان؟

چالاکیا مال • ژمارهیهکی بده زاروکی خو بکفته د ناقبهرا ۱۰ و ۱۰۰ یدا. داخوای ژئی بکه ژمارهیا یهکان و دهان بنقیسیت، پاشی داخوای ژئی بکه ب شیوی کومکرنی بنقیست. بو نمونه ۳۴ دبیته ۴ یهکان و ۳ دهان، و دبیته ۳۰+۴.



# پرسیارہ کی دی شیکارکہم دی خہملینم

وانہیا

ساختکہم

شیکارکہم

پلانی ددانم

تیگہہم

تو دشیی چہند پەرتووکان ہلبگری؟

دہمی من پیدقی ب زانینا  
ژماری نہ بیت. دی خہملینم



نیژیکی ۵



نیژیکی ۵۰



خہملاندنا گونجای دی دەوردہم.

۲ چہند تو دشیی ب دەستہکی  
ہلبگری؟

۱ چہند د ژوورا خواندنیدا ہہنہ؟

نیژیکی ۵ نیژیکی ۵۰

نیژیکی ۳ نیژیکی ۳۰

۴ چہند تو دشیی دانییہ د ناف  
سینیکہ کیڈا؟

۳ چہند بچووک تو دشیی ب  
دہستہکی ہلبگری؟


نیژیکی ۵ نیژیکی ۵۰

نیژیکی ۱۰ نیژیکی ۴۰



## راهینانی دکهم

خه ملاندنا گونجای دی دهوردهم.

۱ چهند  تو دشیی د سینیکه کییدا  
ههلبگری؟


نیژیکی ۱۰  نیژیکی ۸۰ 

۲ چهند  تو دشیی ب دهسته کی  
ههلبگری؟


نیژیکی ۱۰  نیژیکی ۷۰ 

۳ چهند  د ژورا پولیدا ههنه؟

نیژیکی ۱۰  نیژیکی ۶۰ 

۴ چهند  پیدقینه بو نخافتنا لاپه ره کی  
پهرتووی؟

نیژیکی ۱۰  نیژیکی ۹۰ 

۵ چهند  ژ کاغه زین پهرتووی پیدقینه  
بو نخافتنا میزا د ژورا خواندنیقه؟

نیژیکی ۸  نیژیکی ۸۰ 

۶ چهند  تو دشیی ب دهسته کی  
ههلبگری؟

نیژیکی ۱۰  نیژیکی ۴۰ 



### بنقیسه


پرسیاره کی پیکبینه، پاشی داخوای ژ زاروکی خو بکه  
خه ملاندنا گونجای ههلبژیریت.

چالاکیا مال • داخوای ژ زاروکی خو بکه بخه ملینیت، دی شیئ چهند ته به لان ب دهسته کی ههلبگریت.  
نیژیکی ۱۰ یان نیژیکی ۹۰؟ داخوای ژ بکه خو ژ پشتر استبکته.

# پیداچوون بهشی ۷ی


ناف

ژمارهیا دهان دی هژمیوم. ژماری دی نقیسم.



۲


\_\_\_\_\_ = دهان \_\_\_\_\_



۱


\_\_\_\_\_ = دهان \_\_\_\_\_

پهنوسی یهکان و پهنوسی دهان دی نقیسم. ژماری دی نقیسم.



۴


\_\_\_\_\_ = دهان \_\_\_\_\_ یهکان \_\_\_\_\_



۳

\_\_\_\_\_ = دهان \_\_\_\_\_ یهکان \_\_\_\_\_


ژمارهیا یهکان و ژمارهیا دهان دی نقیسم. ژماری ب ریکهکا جودا دی نقیسم.



۶

\_\_\_\_\_ = دهان \_\_\_\_\_ یهکان \_\_\_\_\_

\_\_\_\_\_ + \_\_\_\_\_



۵

\_\_\_\_\_ = دهان \_\_\_\_\_ یهکان \_\_\_\_\_

\_\_\_\_\_ + \_\_\_\_\_



پرسیارهکی دی شیکارکه

خهملاندنا گونجای دی دهوردهم.

۷ چهند دی شیی دانییه د ناف کوپهکیدا؟

۹۰ نیژیکی

۱۰ نیژیکی




# بەرھەقبوون بۆ ئەزموونى بەشى ۷

ناق

بەرسقا گونجاي دى ھەلبىژىرم.

۱ ئەف وینەيە چ دياردکەت؟



۴ دەھان



۷ دەھان



۶ دەھان




۵ دەھان



۲

۲ ئەف وینەيە کيژ ژمارى دياردکەت؟



۷۶



۶۷



۷۰



۷۷



۳ کيژ نقيسين ۴ يەکان و ۸ دەھان دنويئيت؟

$۴ + ۸۰$



$۴۰ + ۸$



$۴۰ + ۸۰$



$۰ + ۸۰$



۴ چەند کەس دى شين پيکفە سواری ترومبيلەكى ببن؟

نيزيکى ۹۰



نيزيکى ۴۰



نيزيکى ۱۴



نيزيکى ۴



۵ ژمارەيەكى دى نقيسم يەکان و دەھان تيدا

ھەبن.



دى بکارئينم و دى بکارئينم

بۆ نواندنا وى ژمارى.



# بہراوردکرن و ریژکرن ژمارہیان



سہحکہ کوّمہلہیا ماسییان. کیژ  
 کوّمہلہیی پتر تیّدانہ؟ کیژ  
 کوّمہلہیی کیّمتر تیّدانہ؟





## نامہ پیک بو کھسوکاران

کھسوکارین خوشتقی:

تھقرو دی دست ب بهشی ۸ ی کھین. دی فیری بهراورد کرنا  
ژماره یان بین ژمیان ۱۰۰ ی، و چهوا دی ریزکھین و بکارئین.  
تھق لاپه ره هندهک زاراقین بیرکاری یین نوی و چالاکیان  
ب خوڤه دگریت، ل مال پیکڤه دی پی رابین.

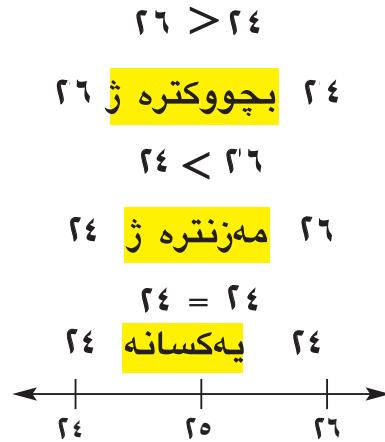
زاراقین نوی  
بچوو کتر ژ به کسان  
ناقبهرا  
پیش  
مهزنتروژ  
پاش

دگه ل فیانا مه

## چالاک ی

ل سهر پارچه کاغه زین بچویک،  
ژماره یان ژ ۵۰ ی هتا ۱۰۰ ی  
وهیما یین > ، < ، = بنقیسه. تھو  
پارچه کاغه زین ژماره ل سهر وهرگییره  
و تیکه ل بکه دا تھو ژمارین تو مارکرین  
دیار نه بن. داخوای ژ زاروکی خو بکه  
دوو پارچه یان هه لبرئیریت و قهکته دا  
ههر دوو ژمارین ل سهر تو مارکری  
دیاری بن. پاشی داخوای ژ ی بکه  
هیما یا گونجای د ناقبهرا واندا دانیت.

## زاراق



۲۴ دکه قیته پیش ۲۵ ل سهر هیلا  
ژماره یان  
۲۵ دکه قیته ناقبهرا ۲۴ و ۲۶ .  
۲۶ دکه قیته پاش ۲۵ .



# مهزنتره ژ، بچووکتره ژ

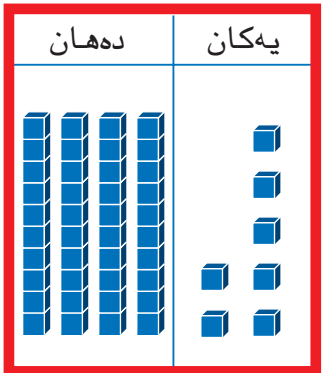
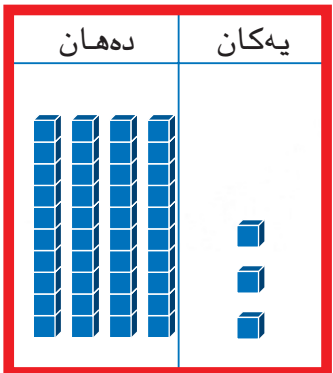
کيژ مهزنتره ۴۳ يان ۴۷؟ کيژ بچووکتره؟

ژمارهيا دهان هه رتهو  
ژمارهيه، لي ژمارهيا يه کان  
د ۴۷ دا مهزنتره.



۴۷ بچووکتره ژ ۴۳

$47 > 43$



۴۷ مهزنتره ژ ۴۳

$43 < 47$

دئ بکارئينم بؤ نواندنا ژمارهيان. ژمارهيا مهزنتر دئ دهوردهم. پاشی ژمارهيان ل جهی گونجای دئ نقيسم.

2

46      56

\_\_\_\_\_ مهزنتره ژ \_\_\_\_\_

\_\_\_\_\_ < \_\_\_\_\_

1

53      35

\_\_\_\_\_ مهزنتره ژ \_\_\_\_\_

\_\_\_\_\_ < \_\_\_\_\_

ژمارهيا بچووکتر دئ دهوردهم. پاشی ژمارهيان ل جهی گونجای دئ نقيسم.

4

29      62

\_\_\_\_\_ بچووکتره ژ \_\_\_\_\_

\_\_\_\_\_ > \_\_\_\_\_

3

30      13

\_\_\_\_\_ بچووکتره ژ \_\_\_\_\_

\_\_\_\_\_ > \_\_\_\_\_

بهحسبکه ■ دههئنهجام

دا ژمارهيا مهزنتر ديار بکهی، ل دهستپيکی دهان دئ بهراوردکهی يان يهکان؟

# راهینانی دکهم



ژ بیرنه که، ل دهسپیکي دهان  
بهراوردبکه.

ژمارهیا مهزنتر دی دهوردهم.

ژمارهیان ل جهی گونجای دی نقیسم.



۲

\_\_\_\_\_ مهزنتره ژ \_\_\_\_\_

\_\_\_\_\_ < \_\_\_\_\_



۱

\_\_\_\_\_ مهزنتره ژ \_\_\_\_\_

\_\_\_\_\_ < \_\_\_\_\_



۴

\_\_\_\_\_ مهزنتره ژ \_\_\_\_\_

\_\_\_\_\_ < \_\_\_\_\_



۳

\_\_\_\_\_ مهزنتره ژ \_\_\_\_\_

\_\_\_\_\_ < \_\_\_\_\_

ژمارهیا بچووکتر دی دهوردهم. ژمارهیان ل جهی گونجای دی نقیسم.



۶

\_\_\_\_\_ بچووکتره ژ \_\_\_\_\_

\_\_\_\_\_ > \_\_\_\_\_



۵

\_\_\_\_\_ بچووکتره ژ \_\_\_\_\_

\_\_\_\_\_ > \_\_\_\_\_



پرسیارهکی دی شیکار کهم ■ رامانا ژماری

ژمارهییی ژ ۵۰ ی مهزنتر دی دهوردهم.

۷

۷۰

۶۲

۴۴

۹۴

۸۳

۱۴

چالاکیا مال • دوو ژمارهیان بده زاروکی خو ژ ۱۰۰ ی کیمترین، داخوای ژئی بکه فان ژمارهیان

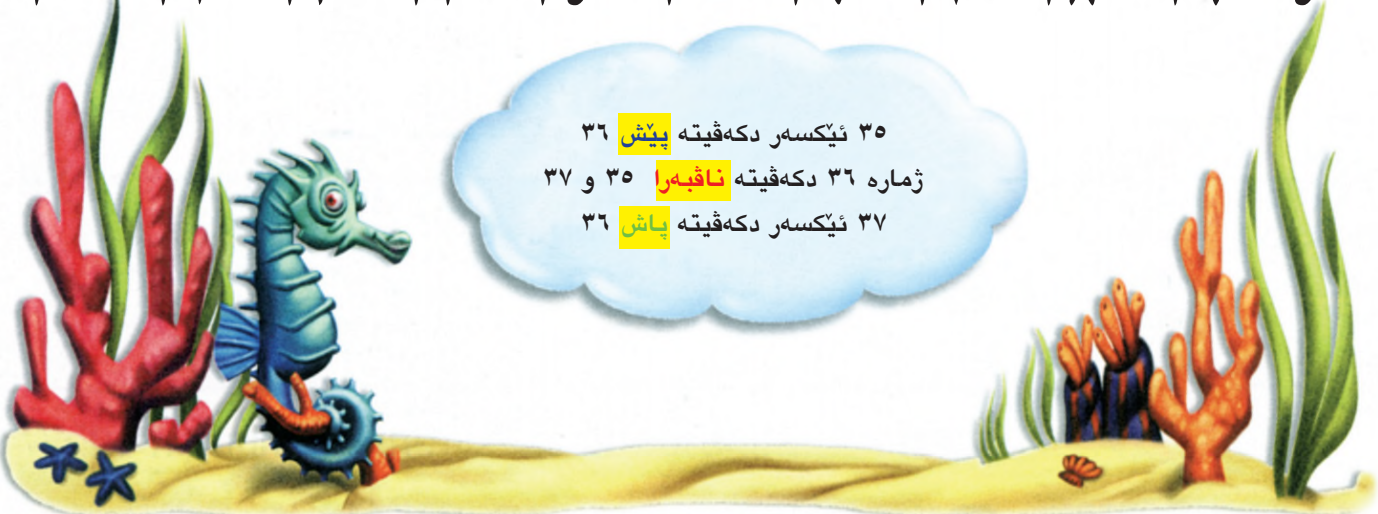
بنقیسیت. هیمای  $<$  د ناقبهرا واندا دانیت.

# پیش، پاش، ناقبہرا

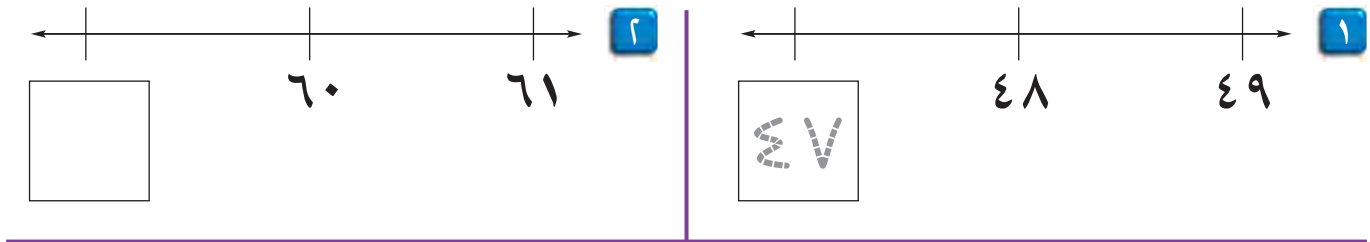
وانہیا ۲



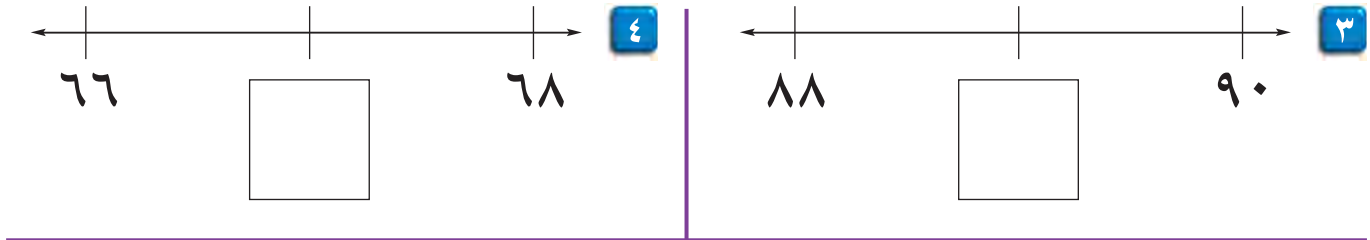
۳۵ ٹیکسہر دکہقیتہ پیش ۳۶  
 ژمارہ ۳۶ دکہقیتہ ناقبہرا ۳۵ و ۳۷  
 ۳۷ ٹیکسہر دکہقیتہ پاش ۳۶



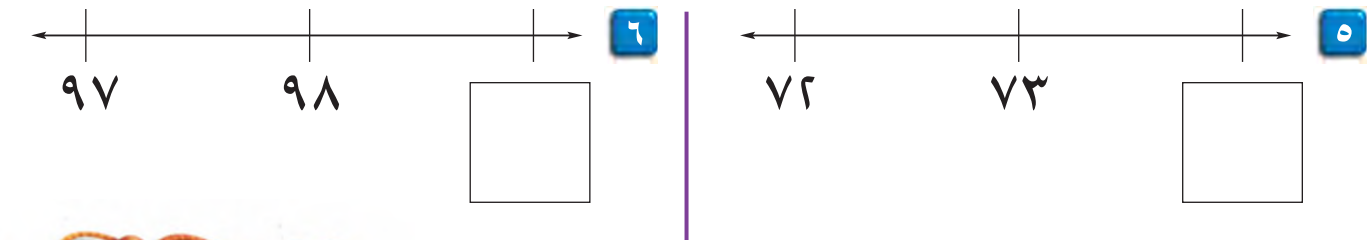
ژمارہیا ٹیکسہر دکہقیتہ پیش ہردوو ژمارہیان دی نقیسم.



ژمارہیا دکہقیتہ د ناقبہرا ہردوو ژمارہیاندا دی نقیسم.



ژمارہیا ٹیکسہر دکہقیتہ پاش ہردوو ژمارہیان دی نقیسم.



بہحسبکہ ■ دہرئہنجام

چہوا ژمارہیا ٹیکسہر دکہقیتہ پاش ژمارہ ۹۰ دی نقیسی؟

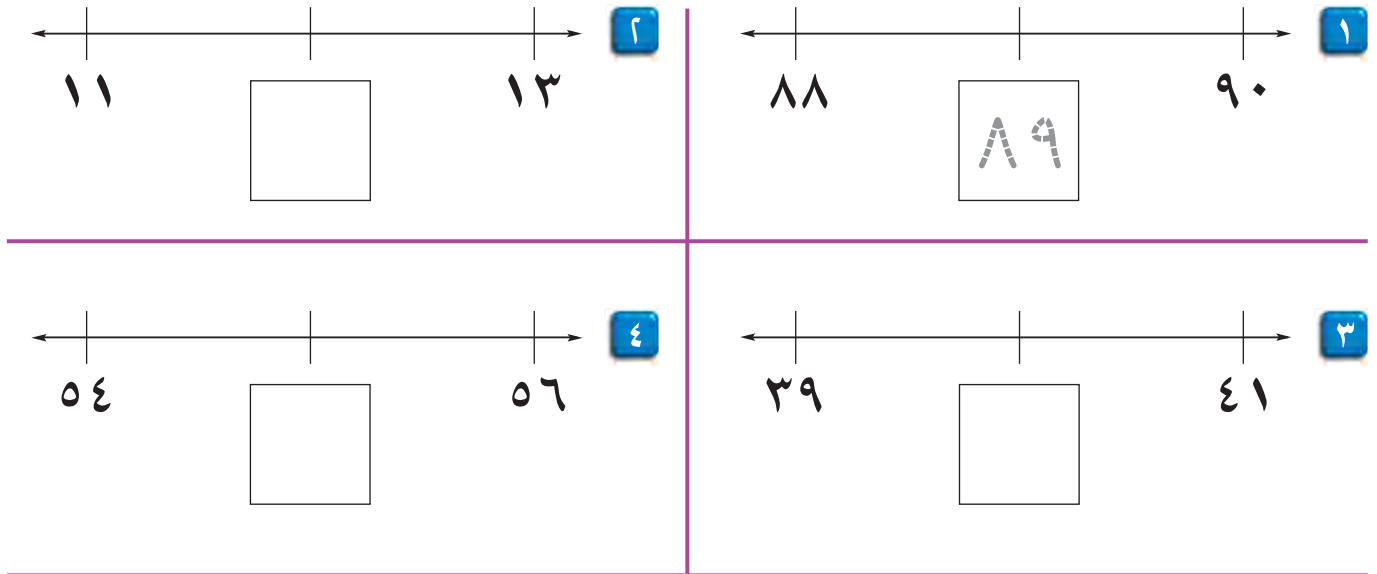
بہحسبکہ تہ چہوا تہقہ زانی؟




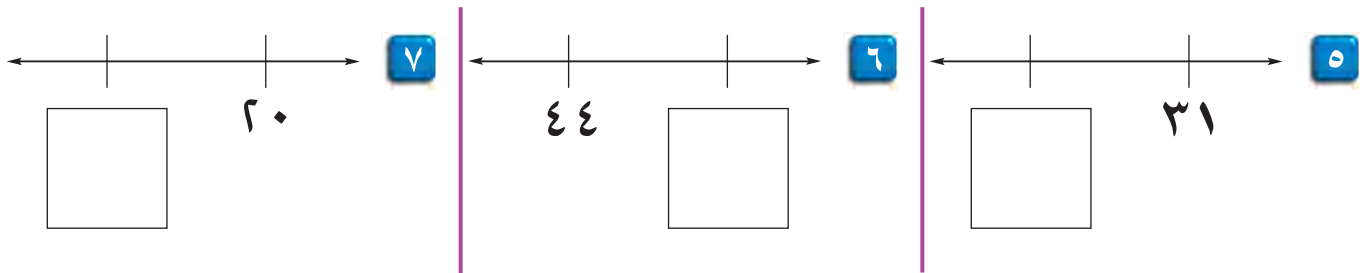


# راهینانی دکهم

ژمارهیا دکه فیته د ناقبهرا ههردوو ژماره یاندا دی نقیسم.

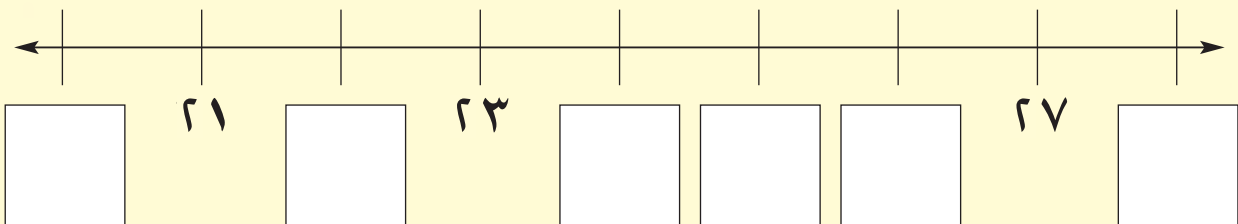


ژمارهیا ئیکسه ر دکه فیته پیش یان پاش دی نقیسم.



پرسیاره کی دی شیکارکهم ■ بیرکنا ب دیتن

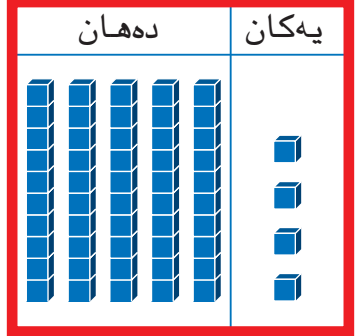
ژماره یین نه دیار دی نقیسم. ۸



چالاکیا مال • ژماره یه کا دوو رهنوسی هه لبریره، داخوای ژ زاروکی خو بکه ژماره یا ئیکسه ر دکه فیته پیش و پاش وی ژمار یی بده ته ته. داخوای ژ یی بکه په یقا (ناقبهرا) بکار بینه ت بو ریژکرنا هه رسی ژماره یان.

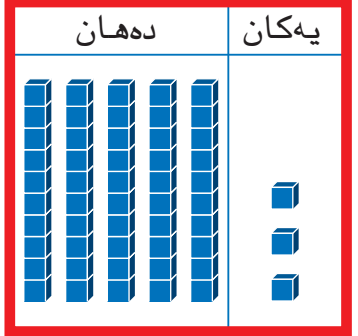
# ئيك يان دهه

۵۴ ب ئيكي پتره ژ ۵۳

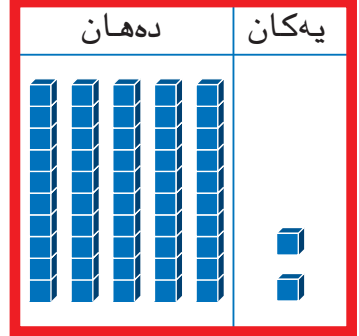


۵۴

۵۲ ب ئيكي كيتره ژ ۵۳

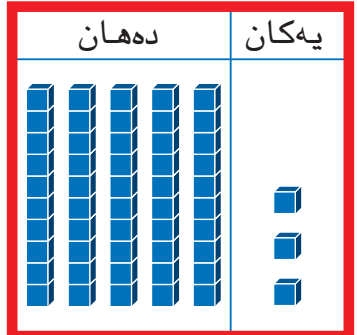


۵۲



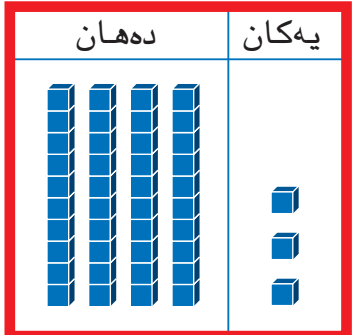
۵۲

۵۳ ب دههكي پتره ژ ۴۳

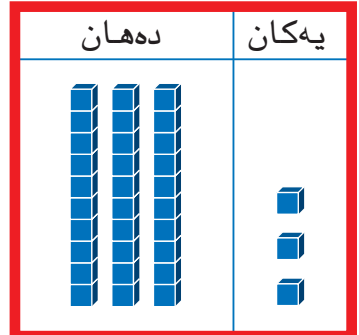


۵۳

۳۳ ب دههكي كيتره ژ ۴۳



۴۳



۳۳



ژمارهين نهديار دي نقيسم.

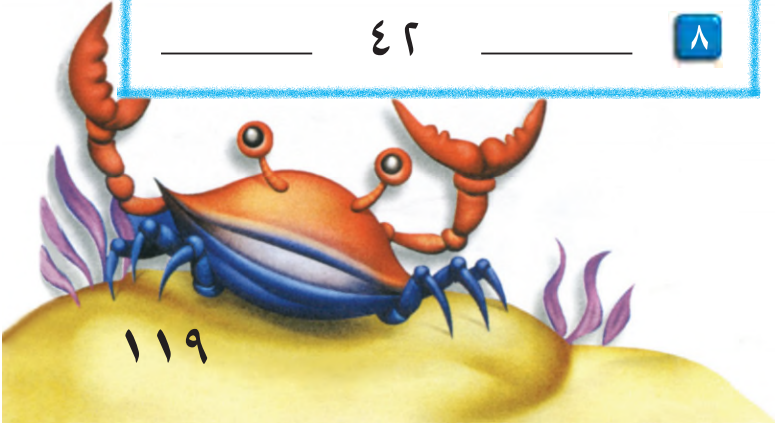
ب دههكي پتره	ب دههكي كيتره
۴۹	۶۹
۳۹	
۴۰	
۴۱	
۴۲	

ب ئيكي پتره	ب ئيكي كيتره
۴۸	۴۶
۴۷	
۹۸	
۳۲	
۲۰	

بهحسبكه ■ دههئانجام

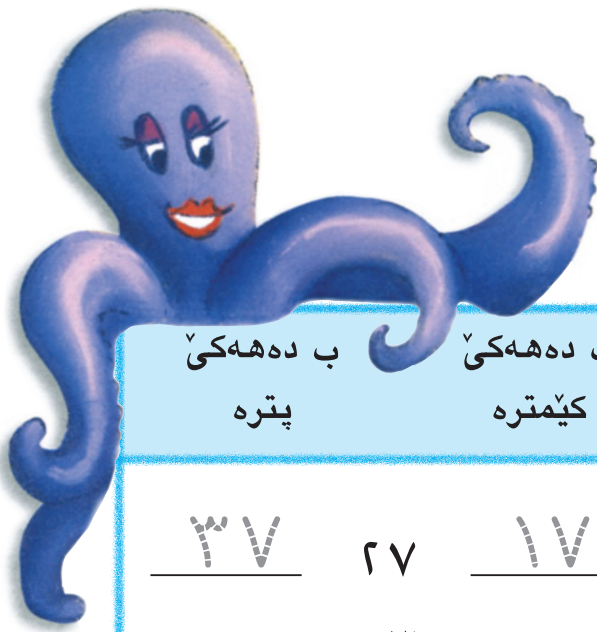
كيژ ژماره ب ئيكي پتره ژ ۹۸ ئ؟

كيژ ژماره ب دههكي كيتره ژ ۱۰ ئ؟



# راهینانی دکهم

ژماره‌یین نه‌دیار دی نقیسم.



ب دهه‌کی پتره	ب دهه‌کی کی‌متره
۳۷	۲۷
_____	_____
_____	_____
_____	_____
_____	_____
_____	_____
_____	_____
_____	_____
_____	_____
_____	_____

ب ئیکی پتره	ب ئیکی کی‌متره
۶۳	۶۲
_____	_____
_____	_____
_____	_____
_____	_____
_____	_____
_____	_____
_____	_____
_____	_____
_____	_____



## پرسیاره‌کی دی شیکارکهم ■ ده‌نه‌نجام

ژماره‌یا سه‌ده‌فین هر کورپهک هه‌لدگریته دی نقیسم.

۱۷ به‌ره‌ف ۱۰ پتر هه‌لدگریته ژ به‌ری.

۱۰ باور ۱۰ کی‌متر هه‌لدگریته ژ به‌ری.

به‌ری ئیک ۴۳ پتر ژ هه‌لدگریته.

\_\_\_\_\_ به‌ره‌ف  
\_\_\_\_\_ باور  
\_\_\_\_\_ به‌ری

چالاکیا مال • ژماره‌یه‌کا دوو په‌نوسی بده زاپوکی خو، پاشی داخوای ژئی بکه ئه‌و ژماره‌یا ب دهه‌کی پتر بده‌ته ته، و ژماره‌یا ب ئیکی کی‌متر.




# دی ریزکهم: ئیکئی، دووی، سیئی

وانهیا ۴



دی دهوردهم دا ریزکرنی دیاربکهه.



به حسابکه ■ دهرئه نجام

ئهگهر توو کهسی ههشتی بی د ریزه کیدا، چند کهس دکه فنه پیشیا ته؟ روونبکه.



# راهینانی دکهم

۱ بو دیارکرنا پریزکرنی دی رهنگگهم.

دهی

ههشتی

پینجی

سی

دوی

ئیکی



ئیکی

ئیکی

پرسیارهکی دی شیکارکهم ■ دهرنه نجام



۲ میشا هنگقینی یا دوی ژ ئالیی سهله میسکی قه دی رهنگگهم.



میسا هنگقینی یا چاری ژ ئالیی سهله میسکی قه دی رهنگگهم.



چالاکیا مال • داخوای ژ زاروکی خو بکه په لاتینکا چاری نیشا ته بدهت.



# شيوازل سەر تەختەيى سەدى

وانەيا

ژمارەيىن نەديار دى ئقيسم. دەھ دەھە دى ھژمىرم.  
دى بكارئىنم بۇ رەنگرنا وان ژمارەيىن دئقيسم.



۱

۹	۸	۷	۶	۵	۴	۳	۲	۱
۱۹	۱۸	۱۷	۱۶	۱۵	۱۴	۱۳	۱۲	۱۱
۲۹	۲۸	۲۷	۲۶	۲۵	۲۴	۲۳	۲۲	۲۱
۳۹	۳۸	۳۷	۳۶	۳۵	۳۴	۳۳	۳۲	۳۱
۴۹	۴۸	۴۷	۴۶	۴۵	۴۴	۴۳	۴۲	۴۱
۵۹	۵۸	۵۷	۵۶	۵۵	۵۴	۵۳	۵۲	۵۱
۶۹	۶۸	۶۷	۶۶	۶۵	۶۴	۶۳	۶۲	۶۱
۷۹	۷۸	۷۷	۷۶	۷۵	۷۴	۷۳	۷۲	۷۱
۸۹	۸۸	۸۷	۸۶	۸۵	۸۴	۸۳	۸۲	۸۱
۹۹	۹۸	۹۷	۹۶	۹۵	۹۴	۹۳	۹۲	۹۱

پىنج پىنجە دى ھژمىرم

۲

دى بكارئىنم بۇ رەنگرنا وان



ژمارەيىن دىيىزم.

بەھسبەكە ■ دەرتەنجام

وان ژمارەيان بنقىسە ئەويىن تە د رايىنانا ئىكيدا نقيسين. ۱۰، ۲۰، ...  
چەوا ژمارەيەكى بۇ ژمارەيا د ديقدا دچى؟



# راهینانی دکهم

۱ ژمارهیین نه دیار دی نقیم. دوو دووه دی هژمیرم.

دی بکارئینم بو رهنگرنا ئەوان ژمارهیین دبیرم.

	۹		۷		۵	۴	۳	۲	۱
	۱۹		۱۷		۱۵		۱۳		۱۱
	۲۹		۲۷		۲۵		۲۳		۲۱
	۳۹		۳۷		۳۵		۳۳		۳۱
	۴۹		۴۷		۴۵		۴۳		۴۱
	۵۹		۵۷		۵۵		۵۳		۵۱
	۶۹		۶۷		۶۵		۶۳		۶۱
	۷۹		۷۷		۷۵		۷۳		۷۱
	۸۹		۸۷		۸۵		۸۳		۸۱
	۹۹		۹۷		۹۵		۹۳		۹۱



پرسیارهکی دی شیکار کهم ■ بجهینان

شیکار دکهم . خشتهی دی ته ماکهم.

۲ زیمار پوژانه ۱۰ سه موان بو مال دکریت.

چهند سه موان ههتا پوژا

سیشه مبی دی کریت؟

سیشه مب	دوشه مب	ئیکشه مب	شه مبی
		۲۰	۱۰

سه موان

چالاکیا مال • داخواری ژ زاروکی خو بکه بو ته شروفه بکهت چهوا ته ختهیی سه دی بکارئینت دا

پینج پینجه بههژمیرت.

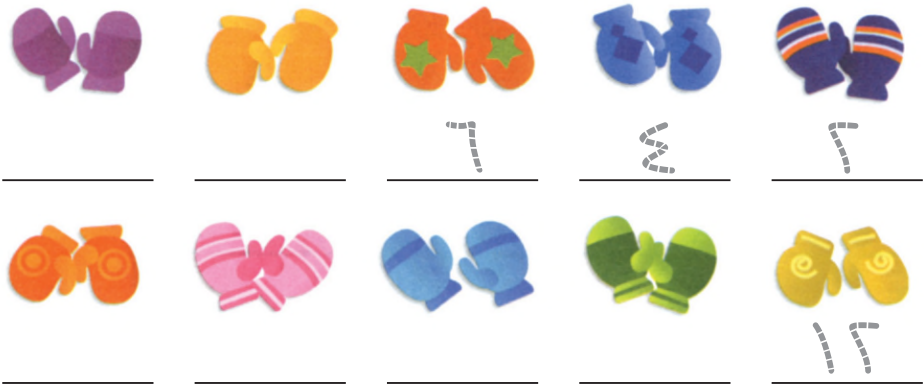
# ب بازدان دى ھژمىرم

وانهيا ۶


۱ ب بازدان دى ھژمىرم. دستگوركان دوو دووھ دى ھژمىرم. ژمارهيا وان دى نقيسم.



دستگورك



۲ ب بازدان دى ھژمىرم. تېلېن دستان پېنج پېنجھ دى ھژمىرم. ژمارهيا وان دى نقيسم.



تېل

۳ ب بازدان دى ھژمىرم، تېلېن پېيان دھ دھه دى ھژمىرم. ژمارهيا وان دى نقيسم.



تېل

بەحسبکە ■ دەرئەنجام

دەمى تو پېنج پېنجھ ھژمىرى، چەوا ژمارهيهكى بۆ ژمارهيا د دويقدا دچى؟

# راہینانی دکھم

ب بازدان دی ہژمیٹرم . ژمارہیان دی نقیسم.



ب بازدان دی ہژمیٹرم . ژمارہیا نہ دیار دی نقیسم.

۱۸ ، \_\_\_\_\_ ، ۱۴ ، \_\_\_\_\_ ، \_\_\_\_\_ ، \_\_\_\_\_ ، ۶ ، ۴ ، ۲ ۴

۹۰ ، \_\_\_\_\_ ، ۷۰ ، ۶۰ ، \_\_\_\_\_ ، \_\_\_\_\_ ، ۳۰ ، \_\_\_\_\_ ، ۱۰ ۵

پرسیارہکی دی شیکارکہم ■ بیرکنا ب دیتن.

ب بازدان دی ہژمیٹرم. ۶

ژمارہیا تبلین دستہکی ۵ن.

چہند تبل د وینہیدا ہنہنہ؟

تبل

چالاکیا مال • ۲۰ ستیران ل سہر کاغہزہکی وینہبکہ داخواری ژ زاروکی خو بکہ دوو دہوربدہت،

پاشی داخواری ژئی بکہ دوو دہور بہژمیٹریٹ، ہہتا ژمارہیا ستیران بزانت. قی چالاکیی دوبارہ بکہ بو

کوہملہییٹن ژ ۵ ستیران.



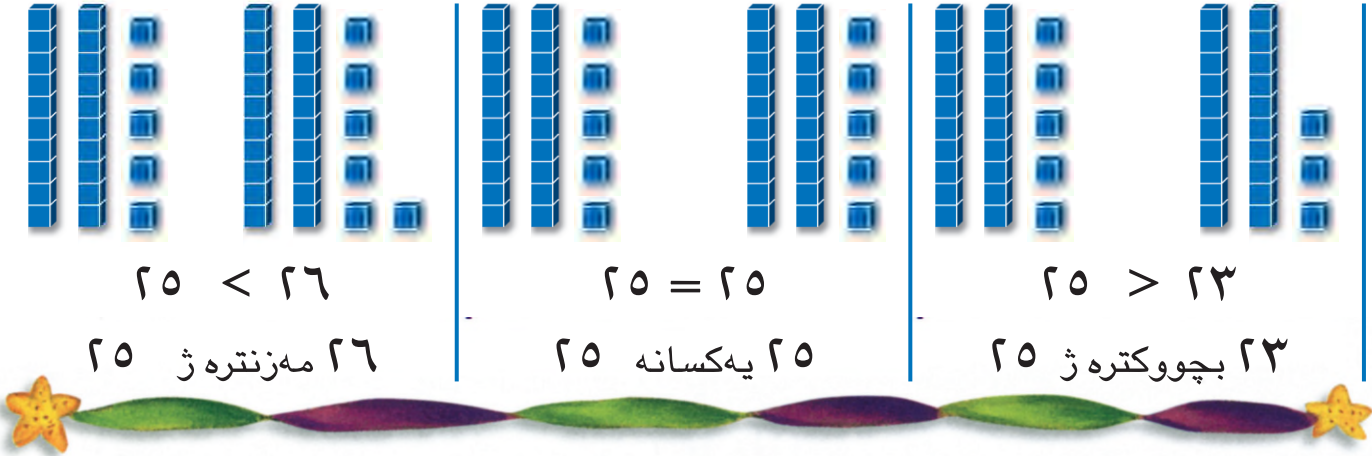
# پرسیارہ کی دی شیکارکھم

نمونہ یہ کی دی پیکئینم

وانہیا ۷

تینگہم پلانئ ددانم شیکاردکھم ساخدکھم

کیژ ژمارہ بچووکترہ ژ یان مہزنترہ ژ، یان یہکسانہ ۲۵؟



دئ بکارئینم بو نواندنا ہر ژمارہ یہ کی.

دئ وینہکھم. ہمی پھیف و ژمارہ یان دی تقیسم.

کیژ ژمارہ بچووکترہ ژ، یان مہزنترہ ژ یان یہکسانہ ۵۶؟

۱

۵۶ بچووکترہ ژ ۵۲

۵۶ > ۵۲

۲

۵۶ = ۵۶

۳

۵۶ < ۶۵

۴


۵۶ > ۳۶

# راهینانی دکهم



> واته بچووکتره ژ  
 < واته مهزنتره ژ  
 = واته یهکسانه

دئی بکارئینم بو نواندنا هر ژماره یهکی. دئی وینهکهم. کیژ ژماره بچووکتره ژ، یان مهزنتره ژ، یان یهکسانه ۴۲؟



۴۲ \_\_\_\_\_ ۴۰

۴۲ \_\_\_\_\_ مهزنتره ژ ۶۲

\_\_\_\_\_ > \_\_\_\_\_


\_\_\_\_\_ < \_\_\_\_\_

۲۴ \_\_\_\_\_ ۴۲

۴۲ \_\_\_\_\_ ۴۲

\_\_\_\_\_ < \_\_\_\_\_

\_\_\_\_\_ = \_\_\_\_\_



## جهر

هیمایا گونجای ژقان: <, >, = د ناف بازنیډا دانه.

۲ یهکان ۲ دهان ۳۰ + ۵ ○ ۶

۴ یهکان و ۶ دهان ۶۰ + ۴ ○ ۵

۳ یهکان ۴ دهان ۴۰ + ۳ ○ ۸

۸ یهکان و ۲ دهان ۲۰ + ۹ ○ ۷

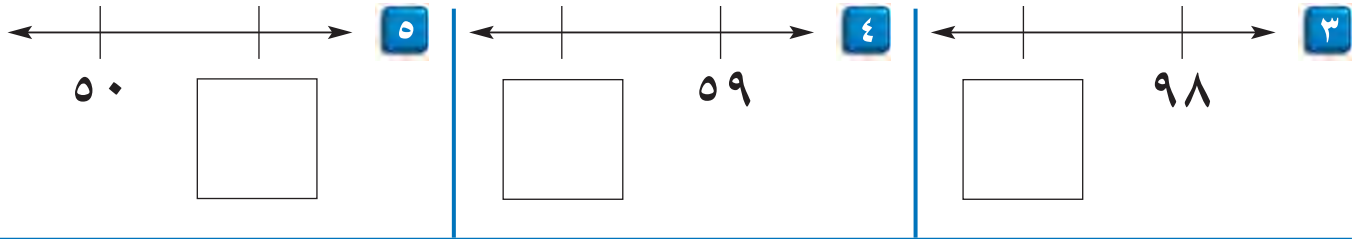
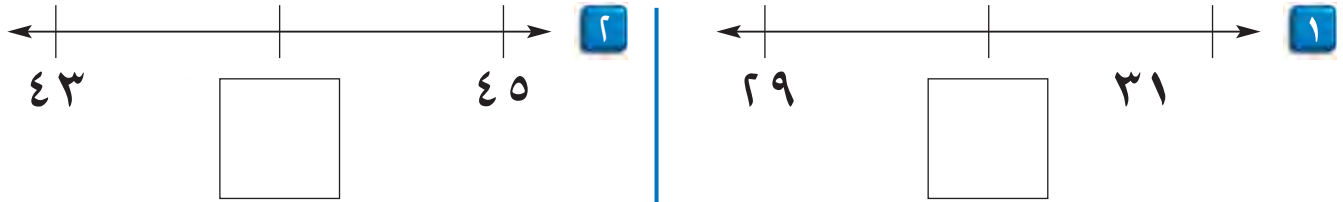
چالاکیا مال • دوو ژماره یین ژ ۱۰۰ کیتر هلبژیره. داخوای ژ زاروکی خو بکه، بکارئینانا هیمایین بهراورد کرنی تهوین فیرووی (>, <, =) بنقیست.

# پیداچوون

بهشی ۸ ی

ناف

ئو ژمارهیا ئیکسەر دکهفیتته پیش یان پاش یان ناقبهرای دی تقیسم.



دی دهوردهم دا ریژکرنی دیاربکهه.



ئیکی



دهی



نههی



پینجی



دووی

ژمارهیین نه دیار دی تقیسم. دوو دووه دی هژمیرم. وان ژمارهیان دی رهنگههم ئهوین ناقین وان دبیزم.

۱۰	۹	۸				۴	۳	۲	۱
			۱۷	۱۶	۱۵			۱۲	
۳۰		۲۸		۲۶		۲۴			۲۱

دی تهمامکهه ۲، ۴، ۶، \_\_\_\_\_، \_\_\_\_\_، \_\_\_\_\_، \_\_\_\_\_، \_\_\_\_\_

دی تهمامکهه ۱۵، ۲۰، ۲۵، \_\_\_\_\_، \_\_\_\_\_، \_\_\_\_\_، \_\_\_\_\_، \_\_\_\_\_

دی تهمامکهه ۷۰، ۸۰، ۹۰، \_\_\_\_\_، \_\_\_\_\_، \_\_\_\_\_، \_\_\_\_\_، \_\_\_\_\_



بهره‌قبوون بو  
ئه‌زموونی  
به‌شی ۸ ی

ناق

بهرسقا گونجای دی هه‌لبژیرم.

۱ کیز ژماره مه‌زنتره ژ ۶۵؟

- ۶۱    ۶۵    ۶۶    ۵۶
- 

۲  $6 < \underline{\quad}$

- ۷    ۶    ۳    ۵
- 

۳ کیز ژماره بچووکتاره ژ ۲۴؟

- ۳۰    ۲۳    ۲۴    ۳۴
- 

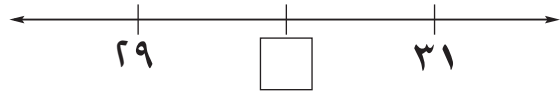
۴  $12 > \underline{\quad}$

- ۳۲    ۱۲    ۲۲    ۲
- 

۵  $73 = \underline{\quad}$

- ۸۳    ۷۳    ۶۳    ۳۷
- 

۶ کیز ژماره دکه‌فیته د ناقبه‌را ۲۹ و ۳۱ یدا؟



- ۴۰    ۳۲    ۳۰    ۲۸
- 

۷ کیز کیز یا پینجییه؟



۸ ژماره‌یا نه‌دیار کیزکه؟

۵، ۱۰، ۱۵، ۲۰، \_\_\_\_\_، ۳۰، ۳۵، ۴۰

- ۲۵    ۲۴    ۲۲    ۱۵
-



# کۆمکرن و لیڊەرکرن



دی سەحکەمە وینەمی و  
چیرۆکین لیڊەرکرنی  
دی بیژم.







## نامه پیکه بو که سوکاران

که سوکارین خوشتقی:

نه فرۆ دی دهست ب به شی ۹ ی کهین، په یوه ندیا دناقبه را  
کۆمکرنی و لیده رکرتیدا دی خوینین. راستین لیده رکرنی  
نهوین گریدایی ب راستین کۆمکرنی فه دی فیرین. نهو  
لاپه ره هنده ک زاراښ بیرکاری یین نوی و چالاکیان ب  
خوځه دگریت، ل مال پیکه دی پی رابین.  
دگه ل فیانا مه

زاراښ نوی

هژمارتن بهره ف پاش  
راستین پیکه گریدایی

## چ ا ل ا ک ی

دوو کۆمهله یان ژ دوو جوړین جودا بده  
زاروکی خو. پاشی پرسپاری ژی بکه،  
کۆمهله یا مه زن ب چهند دانه یان پتره ژ  
کۆمهله یا دی. داخوای ژی بکه پرسته یا  
لیده رکرنی بنقیسیت.

## زاراښ

دا لیده ربکه ی، دی شی

بهره ف پاش بهژمیری ل سه ر هیلا  
 $9 = 3 - 12$   
ژماره یان.



دی ژ ۱۲ ی دهستپیکه م، پاشی ۳ بهره ف  
پاش دی هژمیرم ۹، ۱۰، ۱۱

نه هه راستین بیرکاری پیکه

گریداینه. هه می راستین کۆمکرنی  
ب دوو راستین لیده رکرنی هه گریداینه.

$$12 = 9 + 3$$

$$3 = 9 - 12 \quad 9 = 3 - 12$$




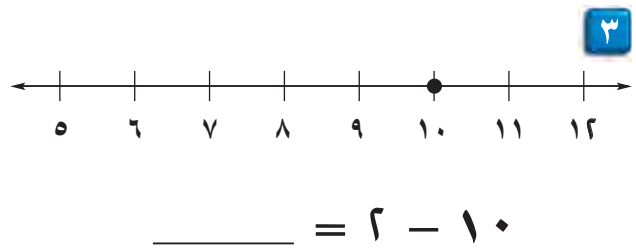
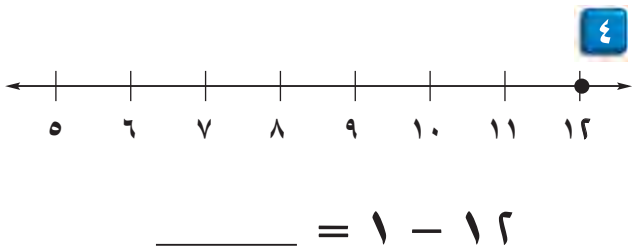
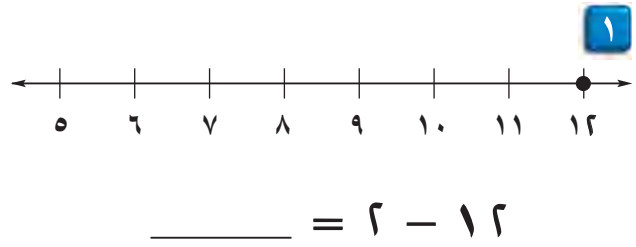
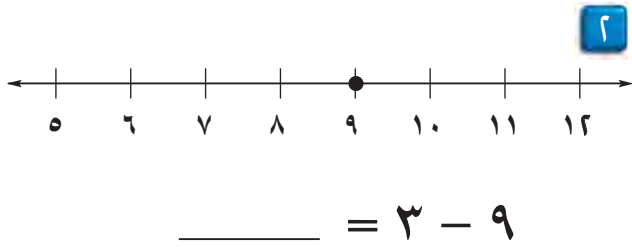
# بهره‌ف پاش دى هژميرم

وانهيا ۱

ژ ۱۱ دى ده‌ستپيکه‌م. دوو پينگافان بهره‌ف پاش دى چم: ۹، ۱۰

$$9 = 11 - 2$$

هيا ژماره‌يان دى بکارئيم. بهره‌ف پاش دى هژميرم دا ليده‌ربکه‌م.



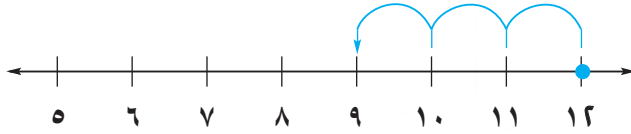
به‌حسبکه ■ ده‌رته‌نجام

چه‌وا جوداهيى ۳-۱۰ دى ئينييه‌ده‌ر بيى  
بکارئينا هيا ژماره‌يان؟

# راهینانی دکهم

دی ژ ۱۲ ای دستپیکه م.  
بهرف پاش ۳ جاران دی  
هژمیرم ۹، ۱۰، ۱۱

$$\begin{array}{r} 12 \\ - 3 \\ \hline 9 \end{array}$$



بهرف پاش دی هژمیرم دا لیدهربکه م. جوداهی دی نقیسم.  
دی شیم هیلا ژماره یان بکاربینم.



۸	۷	۹	۱۰	۱۱	۱۰	۱
۲ -	۲ -	۲ -	۳ -	۳ -	۲ -	

۱۱	۶	۷	۹	۱۱	۱۰	۲
۱ -	۲ -	۳ -	۱ -	۲ -	۱ -	

## پیداچون

ب رهنگین گونجایی دی ته مامکه م.



چالاکیا مال • هاریکاریا زاروکی خو بکه بو بکارئینانا هیلا ژماره یان بو نه جامدانا کردارین لیدهرکرنی.


# ب چەندى پترە؟

وانەيا ۲

ژمارەيا سېقان ب دووان پترە ژمارەيا پرتەقالان.

ژمارەيا سېقان چەند پترە ژ  
ژمارەيا پرتەقالان؟


$$\begin{array}{r} 11 \\ - 9 \\ \hline 2 \end{array}$$



ھیلان دى كېشىم بۇ جووتبوونى. دى لیدەرکەم.

ژمارەيا گىلاسان ب چەندى كېمتەرە ژمارەيا موزان؟

$$\begin{array}{r} 12 \\ - 8 \\ \hline 4 \end{array}$$



ژمارەيا فەراولان ب چەندى پترە ژمارەيا ھرمىكان؟

$$\begin{array}{r} 10 \\ - 7 \\ \hline 3 \end{array}$$



بەحسبکە ■ دەرئەنجام

ژمارەيا كىژ كۆمەلەيا سېقان پترە؟  
چەوا دى رۆنكەى؟





# راهینانی دکهم

هیلان دئی کیشم بۆ جووتبوونی.  
دئی لیدرکهم دا ژمارهیا زیده بینمه‌در.



7 = 8 - 10



\_\_\_\_\_ = 7 - 11



\_\_\_\_\_ = 9 - 12



\_\_\_\_\_ = 7 - 12

## پرسیاره‌کی دئی شیکارکهم ■ بجهئینان

دئی شیکارکهم پاشی ویئنه‌یه‌کی دئی کیشم دا ساخبکهم.

دلینی 10 خوځ هه‌نه. 5

بژینی 6 خوځ هه‌نه.

دلینی چهند خوځ ژ بژینی پتر هه‌نه؟

خوځ \_\_\_\_\_



چالاکیا مال • دوو کۆمه‌له‌یین تشتان ل پیس زارۆکی خو دانه. کۆمه‌له‌یا ئیکی پتر بیت ژ کۆمه‌له‌یا دووی، داخوازی ژئی بکه به‌حسبکته چه‌وا دئی لیدرکرنی بکارئینیت دا بزانیته، کا کۆمه‌له‌یا ئیکی چهند زیده‌تره ژ کۆمه‌له‌یا دووی؟

# دئ كۆمكەم و لئدەر كەم

وانهيا ۳

راستين يېكفە گريداي هەروان  
ژمارەيان بكار دئينن.



$$12 = 4 + 8$$



$$8 = 4 - 12$$

دئ بكار ئينم دا كۆمبكەم يان لئدەر بكەم. خستەي دئ تەمامكەم.

رستەيا لئدەر كرنئ دئ نقيسم	دئ لئدەر كەم	سەر جەمئ دئ نقيسم	دئ زئدە كەم	دئ بكار ئينم
$6 - 3 = 9$	۳	$9 = 3 + 6$	۳	۶
$\bigcirc - \bigcirc = \bigcirc$	۵	$\bigcirc = 5 + 7$	۵	۷
$\bigcirc - \bigcirc = \bigcirc$	۶	$\bigcirc = 6 + 4$	۶	۴
$\bigcirc - \bigcirc = \bigcirc$	۸	$\bigcirc = 8 + 3$	۸	۳
$\bigcirc - \bigcirc = \bigcirc$	۶	$\bigcirc = 6 + 6$	۶	۶

بەحسبكە ■ دەرئەنجام

راستيا كۆمكرنئ چەوا هاريكاريا تە دكەت بؤ نقيسينا راستيا لئدەر كرنئ؟

# راهینانی دکهم



سه رجه می یان جوداهیئ دی نقیسم.  
راستیین پیكفه گریڊای د هه ر ریزه کیډا دی دهوردهم.



$$\underline{\quad} = 2 - 9$$

$$\underline{\quad} = 2 + 5$$

$$\underline{\quad} = 2 + 7$$

۱

$$\underline{\quad} = 4 - 10$$

$$\underline{\quad} = 4 - 12$$

$$\underline{\quad} = 4 + 8$$

۲

$$\underline{\quad} = 1 + 10$$

$$\underline{\quad} = 1 + 9$$

$$\underline{\quad} = 1 - 11$$

۳

$$\underline{\quad} = 4 + 7$$

$$\underline{\quad} = 7 + 3$$

$$\underline{\quad} = 7 - 10$$

۴

پرسیاره کی دی شیکارکه م ■ دهرئه نجام



۳ ژماره یان دی دهوردهم دا دوو  
راستیین پیكفه گریڊای بنقیسم.  
رسته یا ژماره یی دی نقیسم.

۵

$$\underline{\quad} \bigcirc \underline{\quad} \bigcirc \underline{\quad}$$

$$\underline{\quad} \bigcirc \underline{\quad} \bigcirc \underline{\quad}$$

چالاکیا مال • رسته یه کا کو مکرئی ل پیش زاروکی خو بنقیسه وهکی ۵+۴. داخواری ژئی بکه سه رجه می  
بده ته ته، پاشی داخواری ژئی بکه راستین پیكفه گریڊای یین لیډه رکرئی بنقیسیت دگهل (۴=۵-۹) یان  
(۵=۴-۹).



# پرسیارہکی دی شیکارکەم وینہیہکی دی کیشم

وانہیا

تیدگەم پلانی ددانم شیکارکەم ساخکەم

شەنگی ۱۲ کیك هەنە. ۲ کیك دانە خوشکا خو و ۳ کیك دانە برایی خو. چەند کیك بو مان؟

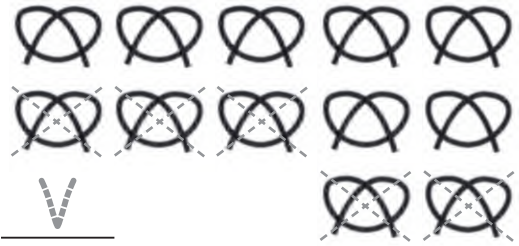
تیدگەم

داخوازکری چییە؟

پلانی ددانم

ئەز دشیم وینہیہکی بکیشم بو شیکارکەم پرسیارئ.


شیکارکەم



کیك

ساخکەم

ئەری بەرسقا من یا بەرئاقلە؟  
ئەقی دی رۆنکەم.



پرسیارئ دی ب هویری خوینم.  
دی چ زانم؟

وینہیہکی دی کیشم بو شیکارکەم پرسیارئ.

۱ سیف د سینییەکیدا هەنە. ئالانی ۲  
سیف خوارن. هۆزانی و خویشکین خو ۵  
سیف خوارن. چەند سیف مان؟

سیف



۲ دەیکا من ۹ سەندەویچ دروستکرن. من  
و خویشکین خو ۷ ژئ خوارن، بابئ  
من ژئ ۲ خوارن. چەند  
سەندەویچ مان؟

سەندەویچ



# راهینانی دکەم



وینەیهکی دی کیشم بۆ شیکارکرنا پرسیارى.

۱ نازدارى ۱۲ کیک کرین. ۳ دانە هەقالا خو، و ۶ دگەل خیزانا خو خوارن. چەند کیک مان.

۱



کیک \_\_\_\_\_ ۳

۲ هۆگرى ۱۰ شەکرۆک کرین. سپیدى ۲ خوارن و نیفرۆ ۵ خوارن، چەند شەکرۆک مان؟

۲



شەکرۆک \_\_\_\_\_

۳ سەربەستى ۱۲ هیك کرین. ۲ ژوان سپیدى خوارن، و ۴ بۆ چیکرنا کیکەکی بکارئینان. چەند هیك مان؟

۳



هیک \_\_\_\_\_

## بنقیسه

۱۰ لبین تری دی وینەکەم، ھندەکان ب پینقیسى شین دی ژیبەم و ھندەکین دی ب سۆرى. چیرۆکەکی دەربارەى قى وینەى دی نقیسم. دیاربکە چەوا دی پرسیارى شیکارکەى؟

جالاکىيا مال • داخوازى ژ زارۆکى خو بکە شروڤه بکەت، چەوا وینە بۆ شیکارکرنا پرسیارا ژمارە (۱) بکارئینایە؟

# پیداچوون

بهشی ۹ی

ناف

ژمارهیا مهزن دی دهوردهم. ل سهر هیلا ژمارهیان بهرهف پیش دی هژمیرم دا کۆمبکهه. سهرجهمی دی نقیسم.



۹ ۳ +	۳ ۶ +	۹ ۲ +	۴ ۳ +	۱
----------	----------	----------	----------	---

بهرهف پاش دی هژمیرم دا لیدهربکهه. جوداهیی دی نقیسم.

۱۰ ۳ -	۹ ۱ -	۱۲ ۲ -	۱۱ ۳ -	۲
-----------	----------	-----------	-----------	---

هیلان دی کیشم بۆ بهراوردکرنی. ژمارهیا پرتهقالان چند پتره ژمارهیا سیقان؟

۱۲ ۸ -		۳
		

سهرجهمی یان جوداهیی دی نقیسم. راستیین پیکهگریدای بۆ ههر ریژهکی دی دهوردهم.

_____ = ۷ - ۱۱	_____ = ۷ + ۴
_____ = ۲ - ۱۲	_____ = ۲ + ۱۰



پرسیارهکی دی شیکارکهه

وینهیهکی دی کیشم دا پرسیری شیکارکهه.

۵ زیرهکی ۱۲ یاریین زارپۆکان کرین. ۳ دانه برایی خو، ۳ زی دانه خویشکا خو. چند بۆ مان؟

یاریین زارپۆکان. \_\_\_\_\_





بەرھەقبوون بو  
ئەزموونی  
بەشی ۹ ی

ناف

بەرسقا گونجای دی ھەلبژیرم:

$$\begin{array}{r} 4 \\ + 4 \\ \hline \end{array}$$

۲

- ۱۶  ۸  ۴  ۰

$$\begin{array}{r} 12 \\ - 3 \\ \hline \end{array}$$

۱

- ۱۵  ۱۱  ۹  ۵

$$\begin{array}{r} 3 \\ + 2 \\ \hline \end{array}$$

۴

- ۸  ۶  ۵  ۱

دەیکا من ۱۲ پارچەییڭ شریناھییان  
چیکرن. مه ۵ پارچه ژى خوارن. چند  
پارچه مان؟

۳

- ۲  ۵  ۷  ۱۷

ژمارهیا سیقان چند پتره ژ ژمارهیا هرمیکان؟

۵



- ۱۴  ۸  ۳  ۲



## پېقان وئەندازە

دې ل بازنان گهرم.  
 دې ل چارگوښهيان  
 گهرم. دوورين  
 كومپيوتهري دې پيقم.





## نامەيەك بۆ كەسوكاران

كەسوكارىن خۆشتىقى:

ئەفرۆ دى دەست ب بەشى . اى كەين . دى فېرىن چەوا  
درېژيان دى بەراورد كەين و خەملىن و پېشن . ئەف لاپەرە  
ھندەك زاراڧىن بېر كارىي يىن نوى ب خۆڧە دگرت ، و  
چالا كىيە كى پېكڧە ل مال دى بى رايىن .

زاراڧىن نوى	
درېژتر	درېژترە ژ
كورتتر	كورتترە ژ
لوولەك	بازنە
ھەرەم	سېڭۆشە
شەشپالۆ	چارگۆشە

دگەل قيانا مە

## چال ا كى

داخوازى ژ زارپوكى خۆ بگە درېژيا  
ژورا ميقانان بكارئىنانا پىنگاڧا خۆ  
بخەملىنيت . پاشى داخوازى ژى بگە  
وى درېژىي بكارئىنانا پىنگاڧا خۆ  
بپىقت ، و ژ بەرسقا خۆ پشتراستببت .  
تەنەكى ئەندازەيى ھەلبژيرە ، و  
داخوازى ژ زارپوكى خوە بگە ، ھندەك  
تشتان بۆتە بېژت ھەمان سىما ھەبت .

## زاراڧ



كورتترە ژ

درېژترە ژ

پىنقىسى كەسك درېژترە ژ  
پىنقىسى سۆر .

پىنقىسى كەسك كورتترە ژ  
پىنقىسى شىن .

كورتتر

درېژتر

پىنقىسى شىن ژ ھەر سىيان  
درېژترە ، پىنقىسى سۆرىي  
كورتترە .

شىوہ و تەنن ئەندازەيى



ھەرەم  
سېڭۆشە



شەشپالۆ  
چارگۆشە



لوولەك  
بازنە



# دریژیان دی بهراوردکهم

وانهیا ۱

ئهف پارچه کاغزه ریژکرینه ژ کورتتر بۆ دریژتر

دریژیا کاغزا دریژ  
نیزیکی ه شهشپالۆیانه.

کورتتر

دریژتر

۳ پارچه کاغزه زین جودا د دریژییدا دی ریژکهم ژ کورتتر بۆ دریژتر. دی وینهکهم و دی بکارئینم بۆ پیقانا دریژیا هه ر ئیک ژ وان.

۱ کورتتر

ب نیژیکی

۲ ههمان دریژی

ب نیژیکی

۳ دریژتر

ب نیژیکی

بهحسبکه ■ دهئه نجام

چهوا دی ■ بکارئینی بۆ پیقانا دریژیا زهنی خو؟



# راھینانی دكەم



۳ جودا د دريژييدا دى وەرگرم و دى ريژكەم ژ كورتتر بو دريژتر.  
دى وينهكەم و ۱ دى بكارئينم بو پيقانا دريژيا هەر ئيك ژ وان.  
۱ كورتتر

ب نيزيكي ۱ \_\_\_\_\_

۲ هەمان دريژى

ب نيزيكي ۲ \_\_\_\_\_

۳ دريژتر

ب نيزيكي ۳ \_\_\_\_\_



پرسيارەكى دى شيكاركەم ۱ دەرئەنجام


۴ بەندكى دريژتر دى دەوردەم.  
پاشى دەزى دى بكارئينم دا ساخبکەم.



چالاكيا مال • ۳ تشتين جودا د دريژييدا بده زاروكى خو، داخوازي ژى بکه ريژ بکەت ژ كورتتر بو

دريژتر.

ب چ دى پيقم؟




نيزىكى

بچويك دى بكارئيم بۇ پيقلانا دريژىي.



نيزىكى



نيزىكى



نيزىكى



نيزىكى

به حسبكه ■ دهرئه نجام


چهوا نه نجامين پيقلانى دى هيئه گوهورين نه گهر  مهزن بكاربيني؟


مهزن بكاربينه بۇ سهلماندا راستيا به رسقا خو.



# راھینانی دكەم

دریژی دى خەملىنم پاشى  بچوك دى بكارئینم بو پیقانا وى.



دى پیقم: نیژیكى 

دى خەملىنم: نیژیكى 

دى پیقم: نیژیكى 


دى خەملىنم: نیژیكى 



دى پیقم: نیژیكى 

دى خەملىنم: نیژیكى 





## پرسیارهكى دى شیکارکەم ■ دەرئەنجام

بەرسقا دروست دى دەوردەم. 



یان



سوزانى دریژیا کرمی پیقما بکارئینانا  ین  
بچوک، پاشى جارەکا دى پیقما بکارئینانا  .  
ئەرى  پتر بکارئینان یان  پتر؟

چالاکیا مال • کۆمەلەیهکا تشتین بچوک بدە زارۆکى خو، کو دریژیا وان یەکسان بت. پاشى داخواری  
ژی بکه وان تشتان بکاربنیت بو پیقانا دریژیا هندەکا تشتین ناف مالی.

# تەنن ئەندازەسى

۳ وانەيا



ھەرەم



شەشپالۆ



لۈلەك



لۈلەكان ب پەنگى شىن دى دەوردەم.  
ھەرەمان ب پەنگى سۆر دى دەوردەم.  
شەشپالۆيان ب پەنگى كەسك دى دەوردەم.



بەھسبەكە ■ دەرتەنجام

ئەف تەنە ب چ وەكھەقن؟

ب چ ژىكجودانە؟

# راهینانی دکهم



هه پهم



شه شپالوو



لوولهك

لوولهكان ب پهنگی شین دی دهوردهم.  
هه پهمان ب پهنگی سوړ دی دهوردهم.  
شه شپالویان ب پهنگی کهسک دی دهوردهم.

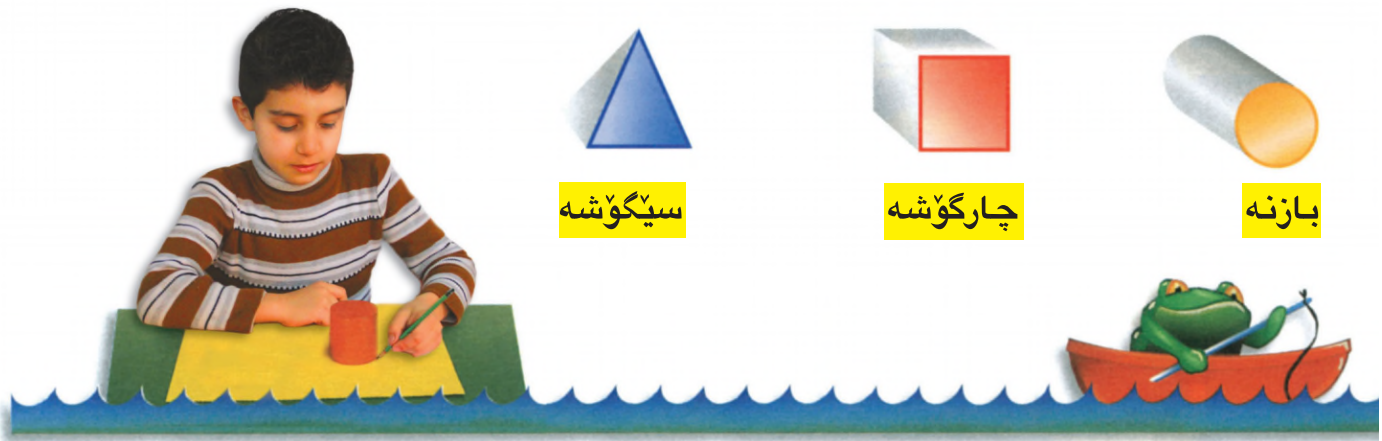


چالاکیا مال • داخوای ژ زاروکی خو بکه وینهیږن د قی لاپه ریدا نیشا ته بدهت بکارئینانا په یقین  
(شه شپالوو، هه پهم، لوولهك).



# شیوه‌یین ئەندازه‌یی

وانه‌یا



سیگۆشه



چارگۆشه




بازنه

وان ته‌نێن ئەندازه‌یی دێ دەوردهم ئەوێن بازنه تێدا دیار دکهت.




۱

وان ته‌نێن ئەندازه‌یی دێ دەوردهم ئەوێن چارگۆشه تێدا دیار دکهت.



۲

وان ته‌نێن ئەندازه‌یی دێ دەوردهم ئەوێن سیگۆشه تێدا دیار دکهت.



۳


به‌حسبکه ■ ده‌رئه‌نجام

ئەو شیوه‌یین ئەندازه‌ییین د هه‌رهمی‌دا دیار دکهن چنه؟

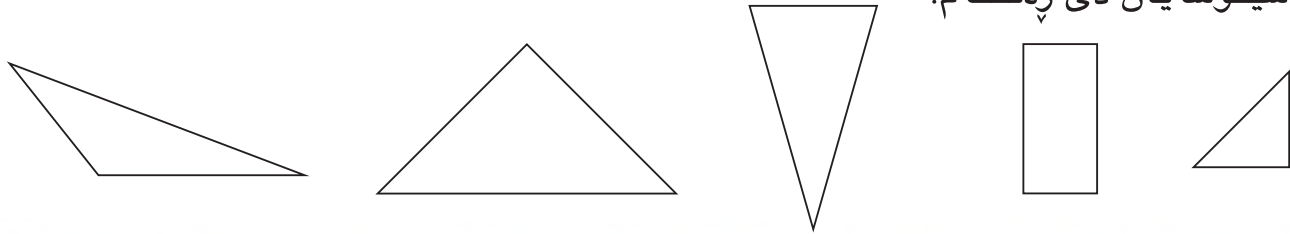
# راهینانی دکهم




۱ چارگوښه یان دى ږنگگه م.



۲ سیگوښه یان دى ږنگگه م.




۳ بازنه یان دى ږنگگه م.



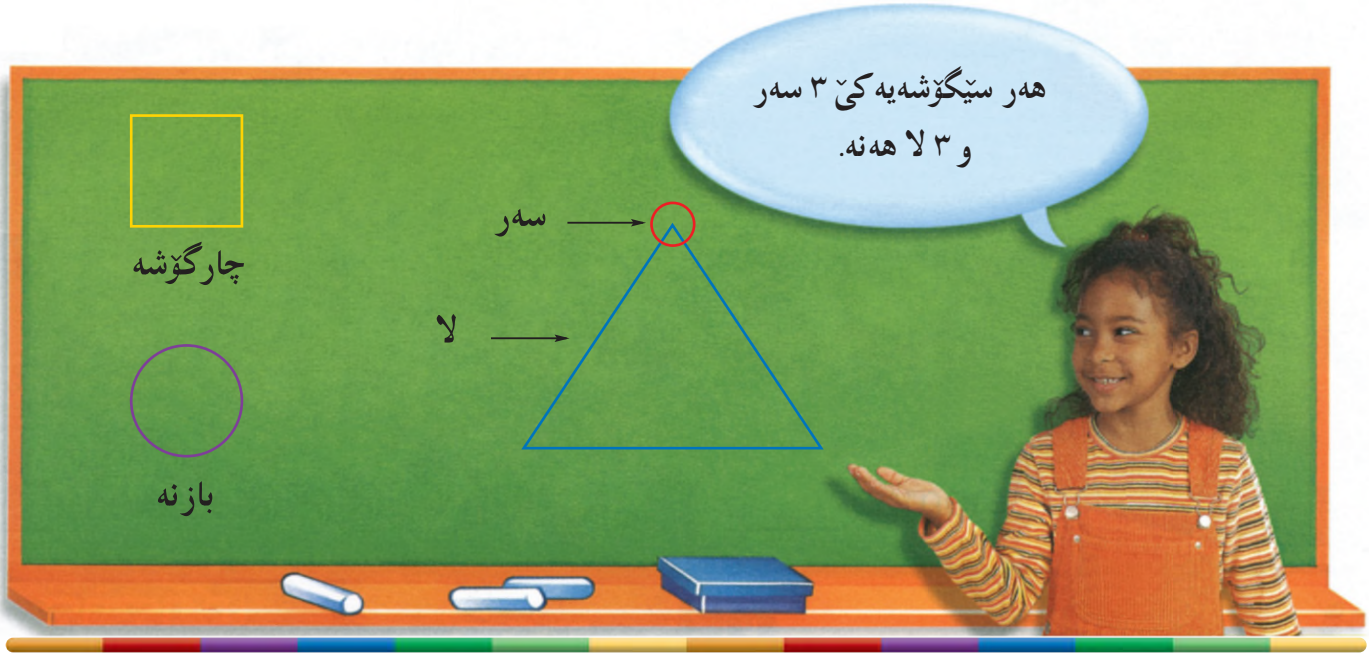
پرسیاره کی دى شیکارکهم ■ بیرکنا ب دیتن

۵ سیگوښه یه کا مه زن دى  
وینه که م.

۴ چارگوښه یه کا بچووک دى  
وینه که م.



چالاکیا مال • داخوازی ژ زاروکی خو بکه تهنه کی ئەندازه یی بکاربیینیت وهک قوڈیکا تهماتی و فشاری پځخسته سهر تشته کی هیرای وهکی ئاری یان شه کری، پاشی داخوازی ژى بکه وینه یی ئەندازه یی یی ب قی کرداری دروستبووی ناښکته.



شیوهی دی وینه کهم پاشی ناڤی وی دی نقیسم.

۲ شیوهیهکی دی وینه کهم ۳ سەر و ۳ لا هه بن.

---



---



---

۱ شیوهیهکی دی وینه کهم ۴ سەر و ۴ لا هه بن.



چارگۆشه

---




---



---

۴ هیلهکی دی وینه کهم، دا دوو سیگۆشهیان ب دهستخۆقه بینم.



۳ شیوهیهکی دی وینه کهم، لا و سەر نه بن.

---



---



---



به حسابکه ■ ده رئه نجام

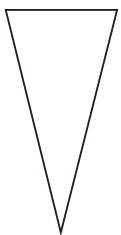
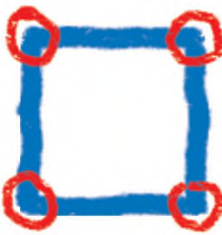
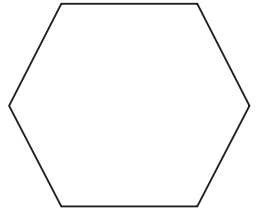
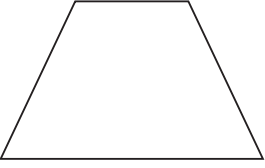
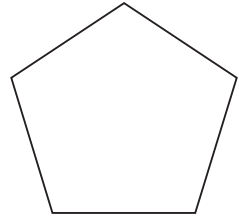

ئهری دی شییهکی وینه کهی، چارگۆشه نه بیت، ۴ سەر و ۴ لا هه بن؟ ئهقی رۆنکه.




# راهینانی دکهم

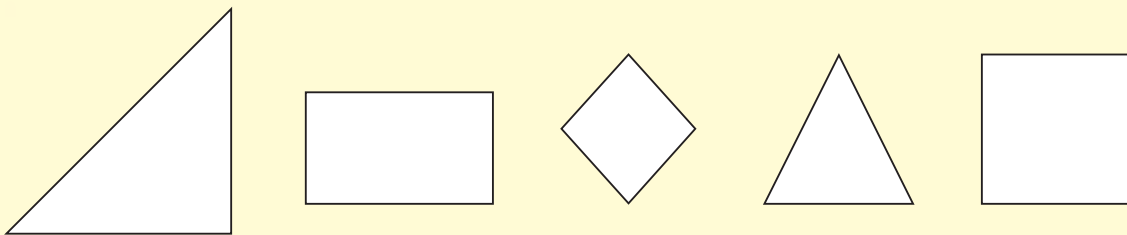


شینى دى بكارئینم بو وینه کرنا لایان.   
 سووری دى بكارئینم بو دهوردانا سهران.   
 ژمارهیا سهران و ژمارهیا لایان دى نقیسم.

<p>۲</p>  <p>لا _____ سهر _____</p>	<p>۱</p>  <p>لا _____ سهر _____</p>
<p>۴</p>  <p>لا _____ سهر _____</p>	<p>۳</p>  <p>لا _____ سهر _____</p>
<p>۶</p>  <p>لا _____ سهر _____</p>	<p>۵</p>  <p>لا _____ سهر _____</p>

## پرسیارهکی دى شیکارکهم ■ بیرکرنا ب دیتن

هیلهکی د ناف هر شیوهیهکیدا دى وینه کهم دا ببته دوو سیگوشه. 



چالاکیا مال • داخوای ژ زاروکی خو بکه وینهیی شیوهیهکی ئەندازهیی بکیشت ۳ لا و ۳ سهر ههبن. پاشی داخوای ژى بکه وینهیی شیوهیهکی ئەندازهیی بکیشت ۴ لا و ۴ سهر ههبن.

# پرسپاره كى دى شىكار كه م دهرئه نجامى ژيريژى دى بكارئيم

تيدگه م پلانى ددانم شىكار كه م ساخد كه م

چه وا دى شى ته نين نه نازه يى پولين بكه ي؟



دى راکيشم



دى گريل كه م



دى ل سهر ئيك دانم

ته نين نه نازه يى دى بكارئيم.  
دى (بهلى) يان (نه خير) نقيسم.

نهرى دهيتته راکيشان؟	نهرى گريل دبیت؟	نهرى ل سهر ئيك دهيتته دانان؟	
_____	_____	_____	  <p>شەشپالو</p>
_____	_____	بهلى	
_____	_____	_____	  <p>لؤلەك</p>
_____	_____	_____	  <p>هەرەم</p>

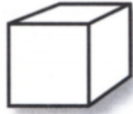
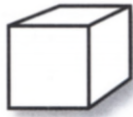
٤ گۆقه ندى ٨ شەشپالو هه نه. نهرى دى شيت ل سهر ئيك دانيت بو دورستكرنا شەشپالو به كى؟  
دى روئكه م و تاقيكه م.

# راهینانی دکهم



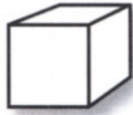
تەنئى ل سەر ئىك دەيتە دانان دى رەنگگەم.

۱



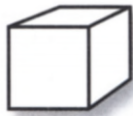
تەنئى گرپل دبت دى رەنگگەم.

۲



تەنئى دەيتە پراکيشان دى رەنگگەم.

۳



تەنئى ل سەر ئىك دەيتە دانان و گرپل دبت دى رەنگگەم.

۴



تەنئى ل سەر ئىك دەيتە دانان و پراکيشان دى رەنگگەم.

۵

ل سەر ئىك دەيتە دانان

دەيتە پراکيشان

گرپل دبت

پرسیارەكى دى شىكاركەم ■ دەرنەنجام

سيفهتى هەقىشك يى قان تەنان دى دەوردەم.

۶



چالاكيا مال • ھندەك تشتين ھەقىشوي تەنين ئەندازەيىن د قى لاپەريدا ئامادەبگە، پشكدارىيى دگەل زارووكى خۇبگە بۇ دياركرنا وان تەنين ل سەر ئىك دەيتە دانان يان گرپل دبت يان دەيتە پراکيشان.




# پیداچوون

## بهشی ۱۰ ای

ناف

پینقیسی دریزتر دی دورددم.



۱

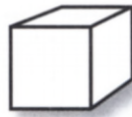
بچووک دی بکارئینم بو پیقانا دریزیا پاپوری.



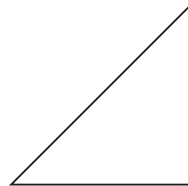

۲

نیزیکی

۳ وان تهنان دی رهنگهم ئەوین د شیاندایه ل سهر ئیک بهینه دانان. تهنین ۶ پرویین تهخت ههین دی دورددم.

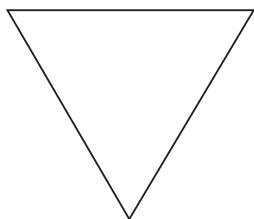


۴ دی بکارئینم بو رهنگرنا سیگوشی. دی بکارئینم بو رهنگرنا بازنی. دی بکارئینم بو رهنگرنا چارگوشی.



ژمارهیا لایان و ژمارهیا سهران دی نقیسم.

۶



لا \_\_\_\_\_

سهر \_\_\_\_\_

۵



لا \_\_\_\_\_

سهر \_\_\_\_\_

بەرھەقبوون بو  
ئەزموونی  
بەشی ۱۰

ناف

بەرسقا گونجای دی ھەلبژێرم.

کێژ تشت وەکی لوولەکییە؟

۱



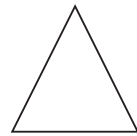
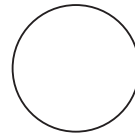

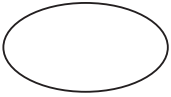
کێژ تەنی دوو روویین تەخت ب تنی ھەنە؟

۲



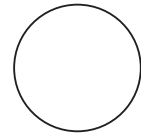
کێژ شیوہ سیگۆشی دنوینیت؟

۳



کێژ شیوہی ۶ سەر ھەنە؟

۴



کێژ پینقیس کورتترە؟

۵






# كهرت و دهم

بهشی

۱۱



ئەف دوو هەقاله دی  
شین کیژ پیتزایی ب  
یهکسانی دابهش بکهن؟





## نامە بەك بۆ كەسوكاران

كەسوكارېن خۆشنىقى:

ئەفرۆ دى دەست ب بەشى ۱۱ دى فېرېن چەوا  
تشتان دى دابەش كەين بۆ بەشىن يە كسان. دى فېرى نىف و  
چارېكى يىن، ديسان دى فېرى دەمى يىن. ئەقى لاپەرى ھندەك  
زاراڧىن بېر كارېي يىن نوى و چالاكى تىدا ھەنە، پېكقەل مال  
دى بى رابىن.

دگەل قىانا مە

زاراڧىن نوى

$\frac{1}{2}$  نىف

$\frac{1}{4}$  چارېك

## چاراڧىكى

داخوازى ژ زارپوكى خۆ بكة تشتەكى (سېڧەكى  
يان لەيموونەكى يان سەوكەكا نانى يان  
كېكەكى) بكة تە دوو بەشىن يەكسان.

## زاراڧ

ئەگەر مە تشتەك دابەشكر بۆ دوو  
بەشىن يەكسان، ھەر بەشەك دبتە  
نىقەك.



$\frac{1}{2}$  نىف

ئەگەر تشتەك مە دابەشكر بۆ ۴  
بەشىن يەكسان، ھەر بەشەك ژ وان  
دبتە چارېك.



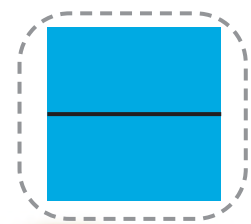

$\frac{1}{4}$  چارېك





هيڙي ڏي ڪيڪي ڪهرڪهت ٻوڏو به شيڻ يهڪسان. هر به شهڪ  
دبيته  $\frac{1}{2}$  يان نيڻا ڪيڪي. هر دوو نيڻا پيڪڙهه، ڪيڪا ته مام  
پيڪڙين.

ڪيڪهڪا ته مام


شيوهيڻ نيڻي ڏيار ڏڪهن ڏي دهوردهم.



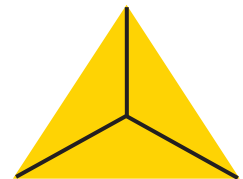

۱



۲



۳



۴



به حسابڪه ۱ دهريه نجام

ئهرى چيڊبيت نيڻا تشتهكى مهزنتر بيت ڙ نيڻا ڏي؟  
ڀونبكه.



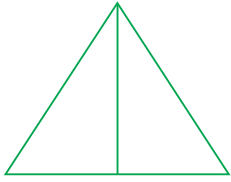


# راهینانی دکهم

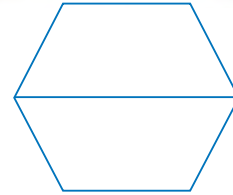

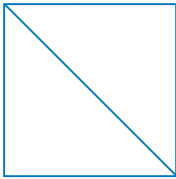
شیوهیښ نیقی دیار دکهن دی دستنیشانکهه، پاشی نیقهکی دی رهننگهه.




۱



۲



۳



۴

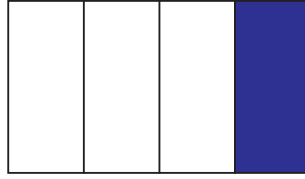

## پرسیارهکی دی شیکارکهه ■ دهرئه نجام

هیلهکی ل سهر ههر کیکهکی دی کیشم، ب مهرجهکی بیته دابهشکرن بو دوو نیقان ب دوو ریکیښ جودا.

۵

چالاکیا مال • ۳ پارچه کاغه زین جودا د پیفانیډا بده زاروکی خو، پاشی داخواری ژئی بکه ههر پارچه یهکی قه چه مینیت بو دوو بهشان و ل سهر ئیک ژوان دوو بهشان بنقیست.









ھەر بەشەك ژ قان چار بەشېن يەكسان دېتە  $\frac{1}{4}$  يان چارىكا كاغەزى. ۴ چارىك شېوھەكى تەمام پېكدئىن.

كاغەزەكا تەمام

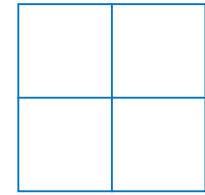

شېوھەيىن چارىكى دنوئىن دى دياركەم، پاشى  $\frac{1}{4}$  دى رەنگكەم.




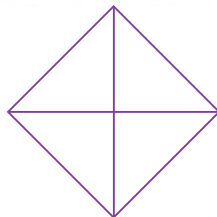

۱



۲



۳



۴

بەھسبکە ■ دەرتەنجام

چەوا دى شېى چارىكەكى ژ كاغەزەكا دەفتەرا خوۆ ب دەستقەئىنى؟  
كاغەزەكى ژ دەفتەرا خوۆ بكارىبىنە بوۆ رۆنكرنا بەرسقى.



# راهینانی دکهم




به شهکی دی رهنگگهم، پاشی کهرتی گونجای دی دهوردهم.



۳

$$\frac{1}{2} \quad \frac{1}{2}$$



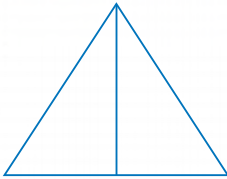
۲

$$\frac{1}{4} \quad \frac{1}{4}$$




۱

$$\frac{1}{4} \quad \frac{1}{4}$$



۶

$$\frac{1}{2} \quad \frac{1}{2}$$




۵

$$\frac{1}{3} \quad \frac{1}{3}$$




۴

$$\frac{1}{2} \quad \frac{1}{2}$$




۹

$$\frac{1}{4} \quad \frac{1}{4}$$



۸

$$\frac{1}{2} \quad \frac{1}{2}$$



۷

$$\frac{1}{4} \quad \frac{1}{4}$$



پرسیارهکی دی شیکارکهه ■ بیرکونا ب دیتن

۱۰ چهوا ۴ بهشین یهکسان دی ب دهستقهئینم؟ ۳ پیکین جودا دی وینهکهه.




۱۰ چالاکیا مال • داخوای ژ زاروکی خو بکه نانهکی بکهته ۴ چاریک، پاشی داخوای ژی بکه کهرتی  $\frac{1}{4}$  بنفیسیت.

# دہمڑمیڑی دی خوینم

وانہیا ۳

ژمارہیئن نہدیارل سہر  
دہمڑمیڑی دی نقیسم.



دی بکارئینم دا دہمی دیاریکہم. میلی دہمڑمیڑان دی دیارکہم.  
دہمی دی نقیسم.



دہمڑمیڑ



دہمڑمیڑ



دہمڑمیڑ نیکہ


بہحسبکہ ■ دہرئہنجام

میلی دہمڑمیڑان ومیلی خۆلہکان ب چ وهکئیکن؟  
و ب چ ژیکجودانہ؟



# راهینانی دکهم



دئ بکارئینم دا دهمی دیار بکه م.   
میلی ده مژمیران دئ دیار که م. دهمی دئ نقیسم.



۳

ده مژمیر \_\_\_\_\_



۲

ده مژمیر \_\_\_\_\_



۱

ده مژمیر پینتجه



۶

ده مژمیر \_\_\_\_\_



۵

ده مژمیر \_\_\_\_\_



۴

ده مژمیر \_\_\_\_\_



پرسیاره کی دئ شیکار که م ■ بیر کرنا ب دیتن

دهمی دئ نقیسم.



۸

ده مژمیر \_\_\_\_\_



۷

ده مژمیر \_\_\_\_\_

چالاکیا مال • داخوای ژ زاروکی خو بکه میلی ده مژمیران و میلی خوله کان ل سهر هر ده مژمیره کی نیشا ته بدهت.

# پرسیارہ کی دی شیکارکھم نمونہ یه کی دی پیکئینم

وانہیا ۴

تیگہم پلانئ ددانم شیکارکھم ساخکھم

۴ هه قالان قییا پیتزایه کی ل سهر خو دابه شبکه ن، کو ههر ئیک ژ وان به شه کی یه کسان ب دهست بکه قییت. چهوا دی قئ پیتزایی بو وان برم؟

پیتزایی چارنک چارنک  
دی برم


تیگہم

داخوازکری چییه؟

پلانئ ددانم

نمونہ یه کی دی هه لبرئرم دا پرسیارئ شیکارکھم.

شیکارکھم




ساخکھم

ئهرئ به رسقا من یا بهرئاقله؟ ئه قئ دی روئکهم.

ویئهی به رسقئ دیاردکته دی دهوردهم.

۱ ئالانی و سپانی قییا پیتزایه کی



دابه شبکه ن، ب جوره کی کو دوو به شین یه کسان ب دهستخوقه بینن. پیدقییه ئه ف پیتزایه چهوا بهیته کهرکرن؟

۲ ۴ کهسان قییا پیتزایه کی دابه شبکه ن



ب مهرجه کی ئهو به شین بدهستخوقه بینن یه کسان بن. کیژ ژ فان شیوهیان به شی ههر ئیک ژ وان دیاردکته؟




# راهینانی دکهم




پیتزایی دی دابه شکم  
بۆ به شین یه کسان.

هزرا خوۆ د دابه شکرنا کیکه کی دا دی کهم.  
وینهیی به رسقا من دیار دکهت دی دهوردهم.

۱ دوو هه قالان کیکهک دابه شکر بو  
دوو به شین یه کسان. چهوا ئەف  
دابه شبوونه هاته ئەنجامدان؟



۲ ۴ هه قالان کیکهک دابه شکر ب  
یه کسانی. چهوا ئەف دابه شبوونه  
هاته ئەنجامدان؟



## بنقیسه

کیکهکا چارگۆشه دی وینه کهم.  
وینهی ب ریکه کی دی کیشم،  
کو بشیم ب یه کسانی ل سهر ههر  
۴ کهسان دابهش بکهم. ل سهر وینهی بنقیسه.

چالاکیا مال • داخوای ژ زاروکی خوۆ بکه ب وینهی روونکهت کانی چهوا دی پیتزایه کی دابه شکتهت بوۆ ۳  
بشکین یه کسان.



# پیداچوون

بهشی ۱ ای

ناف

--	--	--	--

۲  $\frac{1}{4}$  دی پهنگهه

--	--

۱  $\frac{1}{2}$  دی پهنگهه

ئیک پارچه دی پهنگهه، پاشی کهرتی گونجای دی دهوردهه.

$\frac{1}{4}$   $\frac{1}{2}$


۴

$\frac{1}{4}$   $\frac{1}{2}$


۳

دی بکارئینم بو دیارکونا دهی. دهی دی تقسیم.



۷

دهمژمیئر \_\_\_\_\_



۶

دهمژمیئر \_\_\_\_\_



۵

دهمژمیئر \_\_\_\_\_

۸ دی تهمامکهه.

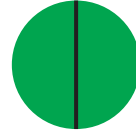
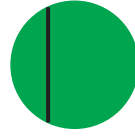

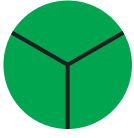
\_\_\_\_\_ ، \_\_\_\_\_ ، \_\_\_\_\_ ،  $\frac{1}{4}$  ،  $\frac{1}{2}$  ،  $\frac{1}{2}$  ،  $\frac{1}{4}$  ،  $\frac{1}{2}$  ،  $\frac{1}{4}$

بەرھەقبوون بۆ  
ئەزموونى  
بەشى ۱۱

ناق

بەرسقا گونجاي دى ھەلبىزىرم.

۱ كىز ويىنە نىقى دياردكەت؟



۲ ۴ زارۋكان كېكەك لېككەكر. ھەر ئىككى پارچەيەك ب يەكسانى گەھشتى.

چەوا ھاتە لېككەكرن؟



۳ كىز ويىنە  $\frac{1}{4}$  ژ گىلاسان ب رەنگى سۆر دياردكەت؟



۴ دەمى دى دياركەم.

ئىك

دوو



دوازده

سى

۵ ويىنەيەكى دى كىشم كەرتى بنوئنت.

$\frac{1}{4}$


$\frac{1}{2}$



# كۆمكەرنى و لىدەركىنا دەھان

بەشى

۱۲



دوو ھندە ل كىقە بىنم؟ چىرۆكىن كۆمكەرنى  
دى ل سەر بىژم





## نامہ پیک بۆ کہ سوکاران

کہ سوکارین خوشتقی:


تہ فرۆ دی دەست ب بەشی ۱۲ ی کہین . چەند ریکین کۆمکرنا  
ژمارەیان دمیانا ۲۰ پدا دی فیرین، و هەر وەسا دی فیری کۆمکرنا و  
لیدەر کرنی یین . هەندەک زاراڤین بیکاری یین نوی و چالاکی دقی  
لا پەریدا هەنە . پیکشە ل مال دی بی رابین .

زاراڤین نوی

دوو هەندە

تەمامکرنا دەھی

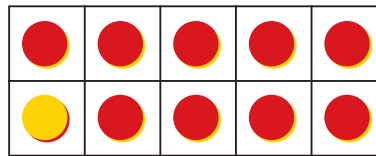
دگەل فیانا مە



دوو ژمارەیان بەدە زارۆکی خۆ  
سەرجهمی وان ژ دەھی بتر نەبیت .  
داخواری ژ ی بکە ژمارەیا سیی  
هەلبژیریت و هەر سی ژمارەیان  
کۆمبکەت . داخواری ژ ی بکە  
سەرجهمی بەدەتە تە .

## زاراڤ

$۸ + ۸ = ۱۶$  ئەقی راستییا  
کۆمکرنی **دوو هەندە** تیدایە . بۆ  
کۆمکرنا  $۵ + ۹$ ، ئیکەم جار دی  
دەھی تەمامکەم پاشی ئەوا مایی  
دی ل سەر ۱۰ ی زیدەکەم .



$$۱۴ = ۵ + ۹$$

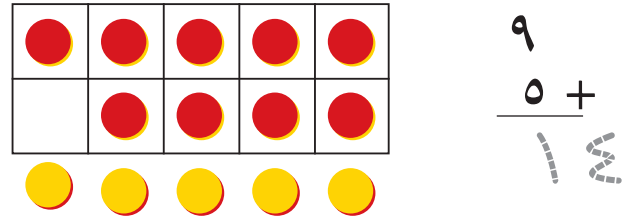
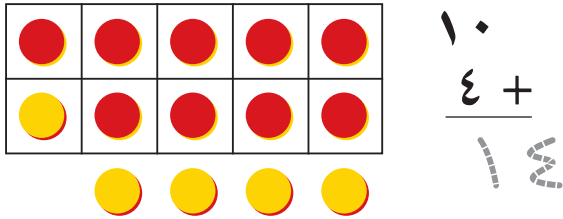
$$۱۴ = ۴ + ۱۰$$

# دهی دی ته ماکه م

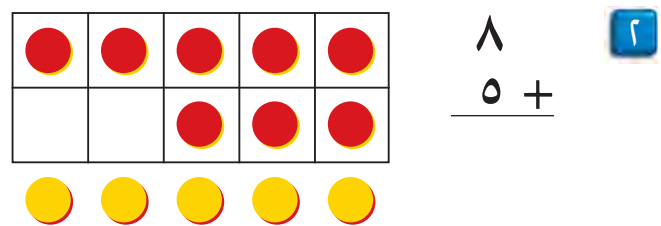
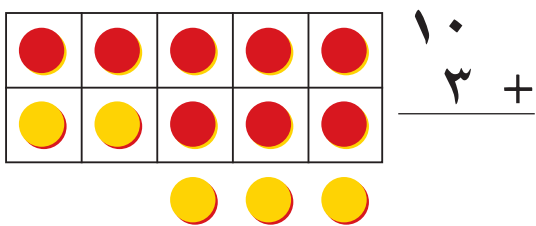
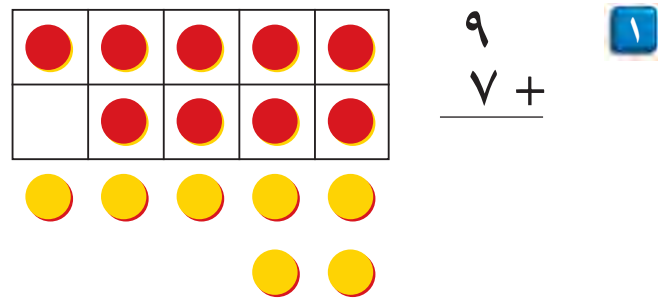
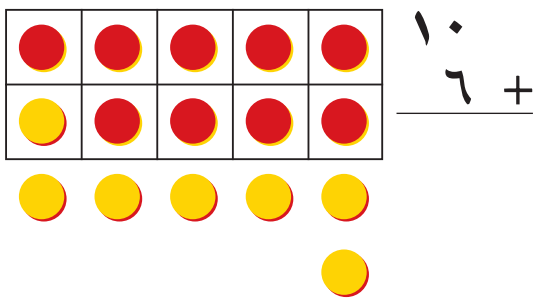
وانهیا ۱

دهی دی ته ماکه م.  
ته خته دی ته ژیکه م.

سه رجه می ۹ + ۵ دی ئینمه ده،  
۹ و ۵ دی دیارکه م.



● و ته خته دی بکارئینم.  
دی کو مکه م ب ته ماکه م دهی.



به حسابکه ■ ده رئه نجام

چه و دی زانی ۹ + ۳ = ۱۰ + ۲ ؟

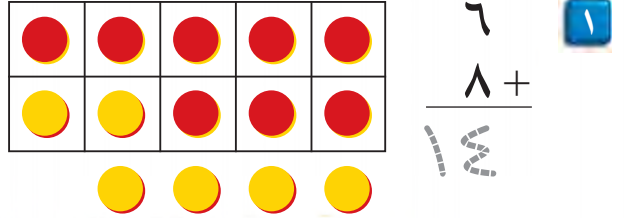
● بکاربینه بو دیارکنا به رسقا خو.

# راهینانی دکهم

ل بیرا ته بیت:  
 $4 + 10 = 8 + 6$



● و تهخته دی بکارئینم دا کۆمبکهه.  
 ب ژمارهیا مهزنتر دی دستپیکهه.



8  
 9 +

5  
 7 +

3  
 8 +

9  
 6 +

2  
 9 +

7  
 9 +

7  
 8 +

6  
 7 +





**پرسیارهکی دی شیکار کهه** ■ دهه نه نجام

ریکهکی بو شیکار کرنی دی ههلبژیرم.

سیروانی قییا ۱۵ دندکین توقی گولبه پوژان

بچینیت. وی ۸ دندک هه بوون، پیتهقی ب

چه ند دندکین دی ههیه؟

دندکین توقی \_\_\_\_\_

● **چالاکیا مال** . داخواری ژ زارۆکی خو بکه دیار بکهت، چهوا راهینانهکی ژ راهینانین فی لاپهری ب  
 ته مامکرنا دهی دی شیکار کهت بو نمونه  $2 + 10 = 4 + 8$ .



# ۳ ژمارهيان دى كۆمكەم

دەمى ۳ ژمارهيان كۆمبەكەين ھندەك جاران  
دى شىين دەھى تەمامكەين.

$$۱۰ = ۳ + ۷$$

$$۱۴ = ۴ + ۱۰$$

دەمى ۳ ژمارهيان كۆمبەكەين ھندەك جاران  
دى شىين دوو ھندە بكارىين.

$$۸ = ۴ + ۴$$

$$۱۳ = ۵ + ۸$$



۷



۳



۴ +  
۱۰



۴



۴



۵ +  
۸

ھەردوو ژمارهين ل دەستپيكي كۆمدكەم دى دەوردەم.  
سەرجمى دى نقيسم.

$$\begin{array}{r} ۸ \\ ۳ \\ \hline ۳ + \end{array}$$

$$\begin{array}{r} ۹ \\ ۳ \\ \hline ۱ + \end{array}$$

$$\begin{array}{r} ۸ \\ ۴ \\ \hline ۴ + \end{array}$$

$$\begin{array}{r} ۲ \\ ۷ \\ \hline ۳ + \end{array}$$



$$\begin{array}{r} ۸ \\ ۸ \\ \hline ۱ + \end{array}$$

$$\begin{array}{r} ۴ \\ ۲ \\ \hline ۶ + \end{array}$$

$$\begin{array}{r} ۲ \\ ۵ \\ \hline ۵ + \end{array}$$

$$\begin{array}{r} ۲ \\ ۲ \\ \hline ۷ + \end{array}$$



بەحسبە ■ دەرتەنجام

چەوا ھەردوو ژمارهين ل دەستپيكي كۆمدكەم دى ھەلبىزىرى؟

# راهینانی دکهم



ههردوو ژمارهیین ل دهستیکی کۆمکم دی  
دهوردم. سهرجه می دی نقیسم.

$$\begin{array}{r} 6 \\ 6 \\ \hline + \\ \hline \end{array}$$

$$\begin{array}{r} 8 \\ 2 \\ \hline + \\ \hline \end{array}$$

$$\begin{array}{r} 1 \\ 5 \\ 5 \\ \hline + \\ \hline \end{array}$$



$$\begin{array}{r} 9 \\ 6 \\ \hline + \\ \hline \end{array}$$

$$\begin{array}{r} 4 \\ 9 \\ \hline + \\ \hline \end{array}$$

$$\begin{array}{r} 1 \\ 7 \\ \hline + \\ \hline \end{array}$$



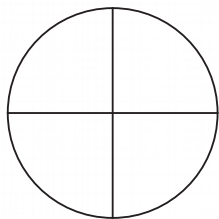
$$\begin{array}{r} 6 \\ 1 \\ \hline + \\ \hline \end{array}$$

$$\begin{array}{r} 3 \\ 5 \\ \hline + \\ \hline \end{array}$$

$$\begin{array}{r} 8 \\ 4 \\ \hline + \\ \hline \end{array}$$

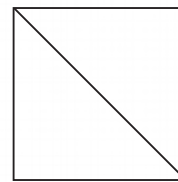
## پیداچوون

پارچهیهکی دی رهنگه م ، پاشی کهرتی گونجای دی دهوردهم.



$$\frac{1}{4} \quad \frac{1}{4}$$

5



$$\frac{1}{2} \quad \frac{1}{2}$$


4

چالاکیا مال . داخوای ژ زاپوکی خو بکه روئبکهت کا چهوا 3 ژمارهیان دی کۆمکهت.

# دهان دی کۆمکه

تیپهکی ۲۰ خۆلین یاریا تهپا میژی کرن، پاشی ۱۰ خۆلین دی کرن. تیپی چهند خۆل کرن؟

ل دهستیکی دی دوو دهان  
وهرگرم، پاشی دههه کا دی دی  
لی زیده کهم



دی هزارا خۆکه

دهه	۲	۲۰
دهه	۱+	۱۰+
دهه	۳	۳۰

تیپی ۳۰ خۆلین یاریان کرن.

دی بکارئینم دا کۆمکه، ژمارهیان دی نقیسم.

۲

دی هزارا خۆکه

دهه

دهه  + ۵۰

دهه  + ۱۰ +

دهه

۱

دی هزارا خۆکه

دهه

دهه  + ۳۰

دهه  + ۴۰ +

دهه

۴

دی هزارا خۆکه

دهه

دهه  + ۴۰

دهه  + ۴۰ +

دهه

۳

دی هزارا خۆکه

دهه

دهه  + ۲۰

دهه  + ۷۰ +

دهه



بهحسبکه ■ دهئهنجام

چهوا پرستهیا کۆمکرنی ۹ = ۲ + ۷ دی بکارئینی دا  
سهرجهمی ۷۰ + ۲۰ بینیهدهر؟



# راہینانی دکھم

۴۰ + ۳۰ ہر تہوہ  
۴ دہ ۳ + ۵ دہ ۴

دی ہزرا خو کہم

دہ	۴	۴۰
دہ	۳ +	۳۰ +
دہ	۷	۷۰

دی بکارئینم دا کو مہم.

$$\begin{array}{r} 10 \\ 60 + \\ \hline \end{array}$$

$$\begin{array}{r} 20 \\ 30 + \\ \hline \end{array}$$

$$\begin{array}{r} 50 \\ 40 + \\ \hline \end{array}$$

۱

$$\begin{array}{r} 80 \\ 10 + \\ \hline \end{array}$$

$$\begin{array}{r} 60 \\ 20 + \\ \hline \end{array}$$

$$\begin{array}{r} 10 \\ 70 + \\ \hline \end{array}$$

۲

$$\begin{array}{r} 40 \\ 10 + \\ \hline \end{array}$$


$$\begin{array}{r} 20 \\ 30 + \\ \hline \end{array}$$

$$\begin{array}{r} 10 \\ 50 + \\ \hline \end{array}$$

۳


پرسیارہ کی دی شیکارکہم ■ بیرکنا ب دیتن

تہو کیم دی وینہ کہم، پاشی رستہ یہ کا ژمارہ بی دی نقیسم.



=

+



۴

\_\_\_\_\_ = \_\_\_\_\_ + \_\_\_\_\_


چالاکیا مال . داخواری ژ زاروکی خو بکہ بو تہ روئبکت کا چہوا سہرجمی ۲۰+۳۰ دی ئینتہ دہر.

# دەھان دى لىدەر كەم

۴ وانەيا

قيانى ۴۰ شەكرۆك بۆ ھەقالين خۇد پوليدا بەرھەفكرن. ئەوان (۳۰) ژى خوارن. چەند شەكرۆك مان؟

ب ۴ دەھان دى دەست پى كەم  
و ۳ دەھان دى ژى را كەم



دى ھزرا خۆكەم

دەھ	۴	۴۰
دەھ	۳	۳۰
دەھ	—	—

شەكرۆك مان.           



دى بكارئىنم دا لىدەر بکەم، ژمارەيىن نەديار دى نقيسم.



۲

دى ھزرا خۆكەم

دەھ		۳۰
دەھ		۱۰
	—	—
دەھ		

۱

دى ھزرا خۆكەم

دەھ		۹۰
دەھ		۳۰
	—	—
دەھ		

۴

دى ھزرا خۆكەم

دەھ		۷۰
دەھ		۲۰
	—	—
دەھ		

۳

دى ھزرا خۆكەم

دەھ		۸۰
دەھ		۴۰
	—	—
دەھ		



بەھسبکە ■ دەرتەنجام

چەوا رستەيا لىدەر كرنى ۶ - ۴ = ۲ دى بكارئىنى دا  
جوداھيى ۶۰ - ۴۰ بينيەدەر؟

# راهینانی دکهم

۵۰ - ۲۰ واتا  
۵ دهه ۲ - دهه ۵



دی هزارا خوکه م

دهه	۵	۵۰
دهه	۲ -	۲۰ -
دهه	۳	۳۰

دی بکارئینم دا لیده ربکه م.

$$\begin{array}{r} 60 \\ 20 - \\ \hline \end{array}$$

$$\begin{array}{r} 40 \\ 40 - \\ \hline \end{array}$$

$$\begin{array}{r} 70 \\ 50 - \\ \hline \end{array} \quad \boxed{1}$$

$$\begin{array}{r} 20 \\ 10 - \\ \hline \end{array}$$

$$\begin{array}{r} 50 \\ 20 - \\ \hline \end{array}$$

$$\begin{array}{r} 90 \\ 20 - \\ \hline \end{array} \quad \boxed{2}$$

$$\begin{array}{r} 90 \\ 60 - \\ \hline \end{array}$$


$$\begin{array}{r} 30 \\ 20 - \\ \hline \end{array}$$

$$\begin{array}{r} 80 \\ 50 - \\ \hline \end{array} \quad \boxed{3}$$



پرسیاره کی دی شیکارکه م ■ بیرکنا ب دیتن

رسته یا ژماره یی یا گونجای دی نقیسم.



$\boxed{4}$

\_\_\_\_\_ ○ \_\_\_\_\_ ○ \_\_\_\_\_

چالاکیا مال . داخواری ژ زاروکی خو بکه روئیکه ت کا چه و جوداهی ۷۰ - ۴۰ دی ئینته دهن.



# دى كۆمكەم دا لىدەرىكەم

ئەز دىشېم راستىيىن كۆمكرنى بكارىنىم دا لىدەرىكەم.

۱۵ = ۷ + ۸  
۸ = ۷ - ۱۵

۱۵

$$\begin{array}{r} ۷- \\ \hline ۸ \end{array}$$

۸

$$\begin{array}{r} ۷+ \\ \hline ۱۵ \end{array}$$

سەرجهمى ھەر دوو ژمارەيان دى نقيسم پاشى جوداھىيى دى نقيسم. راستىيا كۆمكرنى دى بكارىنىم دا لىدەرىكەم.

$\begin{array}{r} ۱۱ \\ ۶- \\ \hline \end{array}$	$\begin{array}{r} ۵ \\ ۶+ \\ \hline \end{array}$ <span style="float: right; border: 1px solid blue; padding: 2px 5px;">۲</span>	$\begin{array}{r} ۱۴ \\ ۵- \\ \hline \end{array}$	$\begin{array}{r} ۹ \\ ۵+ \\ \hline \end{array}$ <span style="float: right; border: 1px solid blue; padding: 2px 5px;">۱</span>
$\begin{array}{r} ۱۴ \\ ۷- \\ \hline \end{array}$	$\begin{array}{r} ۷ \\ ۷+ \\ \hline \end{array}$ <span style="float: right; border: 1px solid blue; padding: 2px 5px;">۴</span>	$\begin{array}{r} ۱۵ \\ ۹- \\ \hline \end{array}$	$\begin{array}{r} ۶ \\ ۹+ \\ \hline \end{array}$ <span style="float: right; border: 1px solid blue; padding: 2px 5px;">۳</span>
$\begin{array}{r} ۱۲ \\ ۹- \\ \hline \end{array}$	$\begin{array}{r} ۹ \\ ۳+ \\ \hline \end{array}$ <span style="float: right; border: 1px solid blue; padding: 2px 5px;">۶</span>	$\begin{array}{r} ۱۳ \\ ۵- \\ \hline \end{array}$	$\begin{array}{r} ۸ \\ ۵+ \\ \hline \end{array}$ <span style="float: right; border: 1px solid blue; padding: 2px 5px;">۵</span>

**بەھسبکە** ■ دەرئەنجام

كىژ راستىيا كۆمكرنى ھارىكاريا تە دكەت بۆ دەرئىنانا جوداھىيا ۱۷-۹؟ پۈنكە.



# راهینانی دکهم



سه رجه می ههردوو ژماره یان دی نقیسم پاشی جوداهیی د ناقبه را واندا دی نقیسم. راستییا کۆمکرنی دی بکارئینم دا لیده ربکه م.

$$\begin{array}{r} 16 \\ 7- \end{array}$$

$$\begin{array}{r} 9 \\ 7+ \end{array}$$

۲

$$\begin{array}{r} 11 \\ 6- \end{array}$$

$$\begin{array}{r} 5 \\ 6+ \end{array}$$

۱

$$\begin{array}{r} 13 \\ 4- \end{array}$$

$$\begin{array}{r} 9 \\ 4+ \end{array}$$

۴

$$\begin{array}{r} 12 \\ 4- \end{array}$$

$$\begin{array}{r} 8 \\ 4+ \end{array}$$

۳

$$\begin{array}{r} 11 \\ 9- \end{array}$$

$$\begin{array}{r} 2 \\ 9+ \end{array}$$

۶

$$\begin{array}{r} 12 \\ 5- \end{array}$$

$$\begin{array}{r} 7 \\ 5+ \end{array}$$

۵



## پیداچوون

شیوازی دی ته مامکه م.



چالاکییا مال . داخوایی ژ زاروکی خو بکه راستییا کۆمکرنی بو ته بیژت، ئەوا هاریکاریا هژمارتئا

جوداهیی ۱۴ - ۶ دکهت. (۱۴ = ۸ + ۶ یان ۱۴ = ۶ + ۸).

# پرسیارہکی دی شیکارکہم کرداری دی ہلبزیرم

وانہیا ۶

ساختکہم

شیکارکہم

پلانی ددانم

تیدگہم

۱۴ زارپوکان یارییا تہپہیا سہلکی دکر. ۸ زارپوکان یارییا تہپہیا میزی دکر. یاریزانین تہپہیا سہلکی چہند زیدہتر بوون ژ یاریزانین تہپہیا میزی؟

بیرا خو بینہ، تو دشتی لیڈہرکہی  
دا ژمارہیا زیدہ بینہ دہر.

تیدگہم

داخوازکری چییہ؟

پلانی ددانم

کردارا گونجای دی ہلبزیرم.  
رستہیہکا ژمارہیی دی نقیسم دا پرسیار شیکارکہم.



دی لیڈہرکہم

دی کوّمکہم

۶    ۸    ۱۴

ساختکہم

ئہری بہرسقا من یا بہرئاقلہ؟ ئہقی دی رپونکہم.

دی کوّمکہم یان دی لیڈہرکہم دی دہوردہم.  
رستہیہکا ژمارہیی دی نقیسم.

۱ ۱۵ زارپوک پیگفہ دچوون، ۳ ژ وان  
قہگہریان. چہند زارپوک مان؟

زارپوک \_\_\_\_\_



۲ ۱۸ زارپوکان ستران دگوتن، ۹ ژ وان ژ  
ستران گوتنی رپاوستیان. چہند زارپوک  
مان سترانان دبیزن؟

زارپوک \_\_\_\_\_



دی لیڈہرکہم    دی کوّمکہم

\_\_\_\_\_ ○ \_\_\_\_\_ ○ \_\_\_\_\_

دی لیڈہرکہم    دی کوّمکہم

\_\_\_\_\_ ○ \_\_\_\_\_ ○ \_\_\_\_\_



# راهینانی دکهم



دی کۆمکهه یان دی لیدهرکهه دی دهورددهم.  
رستهیا ژمارهیی دی نقیسه.

۱ ۹ زارۆکان ستران دگۆتن، ۷ ین دی  
گههشتنه وان. چهند زارۆک نوکه  
سترانان دبیژن؟

دی لیدهرکهه

دی کۆمکهه

$$17 = 7 + 9$$

زارۆک 17

۲ ۷ زارۆکان وینه دکیشان، ۸  
زارۆکان دخواند. ژمارهیا  
ههمییان چهنده؟

دی لیدهرکهه

دی کۆمکهه

\_\_\_\_\_ ○ \_\_\_\_\_ ○ \_\_\_\_\_

زارۆک \_\_\_\_\_


۳ ۱۳ زارۆکان دهست دقوتان،  
۶ زارۆکان مۆزیک دژهنین.  
ئهوین دهست دقوتان چهند  
زیدهترن ژ مۆزیکژهنان؟

دی لیدهرکهه

دی کۆمکهه

\_\_\_\_\_ ○ \_\_\_\_\_ ○ \_\_\_\_\_

زارۆک \_\_\_\_\_



## بنقیسه

چیرۆکهکی ل سهر وینهی بنقیسه.  
رستهیهکا ژمارهیی بنقیسه.  
رپکهکی ههلبژیره بو ساخرنا  
بهرسقا خو.



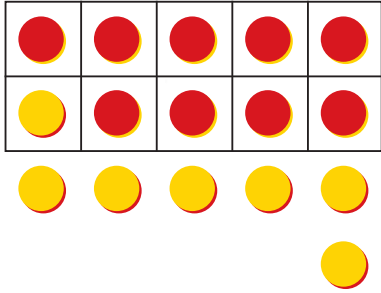
چالاکیا مال . داخوای ژ زارۆکی خو بکه رۆنیکهت بوچی کۆمکران یان لیدهرکران ههلبژارت؟

# پیداچوون

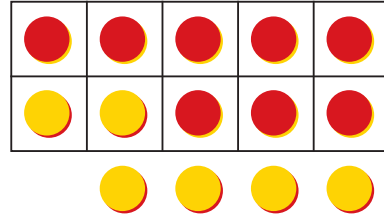
بهشی ۱۲

ناف

سەرجهمی دی نقیم.



۹  
۷+ ۲



۸  
۶+ ۲

۱۰  
۵+

۸  
۵- ۳

۱۰  
۱-

۴  
۷+ ۳

۳  
۴  
۷+

۷  
۲  
۲+

۸  
۹  
۱+

۸  
۸  
۲+ ۵


راستییهکا کۆمکرنی دی بکارئینم دا لیدهر بکهه.

۱۲  
۶-

۶  
۶+ ۷

۱۶  
۸-

۸  
۸+ ۶



پرسیارهکی دی شیکارکهه

دی کۆمکهه یان دی لیدهرکهه دی دهوردهه.  
رستهیهکا ژمارهیی دی نقیم.

۱۳ زارۆك دخوینن،

۵ ژوان چوون.

چههه زارۆك مان؟ زارۆك

دی لیدهرکهه

دی کۆمکهه



بەرھەقبوون بو  
ئەزموونی  
بەشی ۱۲

ناف

بەرسقا گونجای دی ھەلبژیرم.

$$\begin{array}{r} 10 \\ + 9 \\ \hline \end{array}$$

۳

- ۲۹  ۱۹  ۱۸  ۹

$$\begin{array}{r} 8 \\ + 2 \\ \hline \end{array}$$

۲

- ۲۰  ۱۸  ۱۶  ۱۰

$$\begin{array}{r} 6 \\ + 7 \\ \hline \end{array}$$

۱

- ۱۷  ۱۴  ۱۳  ۱۲

۴ رەقەندی ۴ شتلین گولان و ۹ شتلین پوھانان چاندن.  
رەقەندی چەند شتل چاندن؟

۱۶

۱۵

۱۴

۱۳

$$\begin{array}{l} 16 = 8 + 8 \\ \underline{\quad\quad} = 8 - 16 \end{array}$$

۶

- ۱۸  ۸  ۶  ۱۰

$$\begin{array}{r} 19 \\ - 2 \\ \hline \end{array}$$

۵

- ۲۱  ۱۸  ۱۷  ۱۶

۷ ژمارەيەکا شەشپالۆيان دی ژیبەم.



رستەيا کۆمکرنی یا گریډای ب وی  
رستیڤه دی نقیسم.

\_\_\_\_\_ ○ \_\_\_\_\_ ○ \_\_\_\_\_

رستەيا لیډەرکرنی دی نقیسم.

\_\_\_\_\_ ○ \_\_\_\_\_ ○ \_\_\_\_\_



# کۆمکرن و لیڈەر کرنا دوو ژماره یین دوو رهنووسی

بهشی  
۱۳



رسته یه کا کۆمکرنی و رسته یه کا  
لیڈەر کرنی دهر باره ی وینه ی دی نقیسم





## نامەيەك بۆ كەسوكاران

كەسوكارېن خۆشتىقى:

ئەفرۆ دى دەست ب بەشى ۱۳ ئى كەين . دى فېرىن چەوا دوو  
ژمارەيىن دوو رەنوسى دى كۆمكەين بى خرفە كرن، و چەوا دى  
ئيدەر كەين بى خورده كرن. ھندەك زاراڧىن بىر كارىيى يىن نوى و  
چالاكى دقى لاپەرىدا ھەنە. پېكقە ل مالى دى بى رايىن.

زاراڧىن نوى

يەكان جوداھى

دەھان سەرجم

دگەل قيانامە


## چال كى

ژمارەيان ژ ۲۵ ئى ھەتا ۲۹ ئى بنقىسە،  
و ژمارەيان ژ سفرى ھەتا ۴ ئى بنقىسە،  
ل سەر پارچە كاغەزىن جودا. داخوازى  
ژ زارۆكى خۆ بکە ژمارەيەكى ژ  
كۆمەلەيا ئىكى وەربگريت و ژمارەيەكى  
ژ كۆمەلەيا دووى، و وینەيەكى  
بكىشيت، دناقدا دياربکەت چەوا دى  
ھەردوو ژمارەيان كۆمكەت، و  
وینەيەكى دى دياربکەت كا چەوا  
ژمارەيا دووى ژ ژمارەيا ئىكى دى  
دەردکەت.

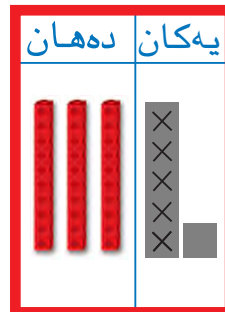
## زاراڧ

چەند دەھ د ژمارە ۳۹ ئىدا ھەنە؟

و چەند ئىك ھەنە؟



دەھان	يەكان
۳	۴
	۵ +
۳	۹
	سەرجم ۳۹



دەھان	يەكان
۳	۶
	۵ -
۳	۱
	جوداھى ۳۱

# یهکان و دهان دی کۆمکه

وانهیا ۱

گۆرانی ۳۲ پینگاقان د یارییا بازانیډا بازدا، ههواری ۴ پینگاقان پتر ژگۆرانی بازدا. ههوار چهند پینگاقان بازدا؟ ۳۲ ی دی دیارکهه. ۴ ی دی دیارکهه.

سه رجه می دی نقیم

دهان	یهکان
۳	۲
	۴ +
۳	۶

سه رجه م ۳۶

دهان	یهکان

یهکان دی کۆمکه

دهان	یهکان

و دی بکارئینم دا کۆمکهه. سه رجه می دی نقیم.

دهان	یهکان

دهان	یهکان
۴	۳
	۴ +

دهان	یهکان

دهان	یهکان
۲	۵
	۳ +

دهان	یهکان

دهان	یهکان
۳	۷
	۲ +

دهان	یهکان

دهان	یهکان
۱	۲
	۲ +



به حسابکه ده رته نجام

چهوا سه رجه می ۴۶ + ۳ بی بکارئینانا

و دی ئینه دهه؟



# راهینانی دکهم



دئ بکارئینم دا کوئمبکه. سهرجهمی دئ نقیسم.

دههان	یهکان
1	6
	3 +

دههان	یهکان
1	6
	3 +

دههان	یهکان
4	1
	4 +
5	0

دههان	یهکان
4	1
	4 +
5	0

دههان	یهکان
2	3
	3 +

دههان	یهکان
2	3
	3 +

دههان	یهکان
3	5
	2 +

دههان	یهکان
3	5
	2 +



جەبر

ژمارهیا نه دیار دئ نقیسم.

$$\begin{array}{r} 64 \\ \square \\ \hline 68 \end{array} +$$

$$\begin{array}{r} 22 \\ \square \\ \hline 25 \end{array} +$$

$$\begin{array}{r} 53 \\ \square \\ \hline 59 \end{array} +$$

$$\begin{array}{r} 31 \\ \square \\ \hline 36 \end{array} +$$

چالاکیا مال • داخواری ژ زاروکی خو بکه بو دیتنا سهرجهمی 24 + 5 وینهیان بکیشت؟

# راهینان ل سہر کومکرنی دی کہم

وانہیا ۲

■ و تہختہی دہی دی بکارئینم. پاشی ب تہمامکرنا دہی دی کومکہم.

$$\begin{array}{r} 7 \\ 8 + \end{array}$$

$$\begin{array}{r} 3 \\ 9 + \end{array}$$

$$\begin{array}{r} 8 \\ 9 + \end{array}$$

$$\begin{array}{r} 7 \\ 6 + \end{array}$$

۱

دی کومکہم.

$$\begin{array}{r} 7 \\ 3 \\ 7 + \end{array}$$

$$\begin{array}{r} 6 \\ 5 \\ 4 + \end{array}$$

$$\begin{array}{r} 9 \\ 1 \\ 3 + \end{array}$$

$$\begin{array}{r} 3 \\ 4 \\ 7 + \end{array}$$

۲

دی بکارئینم دا کومکہم.

$$\begin{array}{r} 60 \\ 30 + \end{array}$$

$$\begin{array}{r} 50 \\ 20 + \end{array}$$

$$\begin{array}{r} 40 \\ 50 + \end{array}$$

$$\begin{array}{r} 30 \\ 50 + \end{array}$$

۳

بہرف پیش دی ہرئیرم دا کومکہم.

$$\begin{array}{r} 50 \\ 1 + \end{array}$$

$$\begin{array}{r} 56 \\ 2 + \end{array}$$

$$\begin{array}{r} 44 \\ 2 + \end{array}$$

$$\begin{array}{r} 35 \\ 3 + \end{array}$$

۴

■ و دی بکارئینم دا کومکہم.

$$\begin{array}{r} 31 \\ 8 + \end{array}$$

$$\begin{array}{r} 22 \\ 6 + \end{array}$$

$$\begin{array}{r} 44 \\ 5 + \end{array}$$

$$\begin{array}{r} 35 \\ 4 + \end{array}$$

۵

■ بہحسبکہ دہرئہنجام

کیڑریکی دی بکارئینی بو کومکرنا ۲ + ۷۰؟

# راهینانی دکهم

دی کۆمکهه

$$\begin{array}{r} 5 \\ 6 \\ \hline 5 \end{array} +$$

$$\begin{array}{r} 3 \\ 7 \\ \hline 5 \end{array} +$$

$$\begin{array}{r} 4 \\ 2 \\ \hline 6 \end{array} +$$

$$\begin{array}{r} 2 \\ 3 \\ \hline 8 \end{array} +$$

۱

دی بکارئینم دا کۆمبکهه.

$$\begin{array}{r} 70 \\ 20 \\ \hline \end{array} +$$

$$\begin{array}{r} 80 \\ 10 \\ \hline \end{array} +$$

$$\begin{array}{r} 40 \\ 50 \\ \hline \end{array} +$$

$$\begin{array}{r} 20 \\ 30 \\ \hline \end{array} +$$

۲

به رهف پیش دی هژمیرم دا کۆمبکهه.

$$\begin{array}{r} 54 \\ 4 \\ \hline \end{array} +$$

$$\begin{array}{r} 43 \\ 2 \\ \hline \end{array} +$$

$$\begin{array}{r} 52 \\ 3 \\ \hline \end{array} +$$

$$\begin{array}{r} 37 \\ 2 \\ \hline \end{array} +$$

۳

پرسیارهکی دی شیکار کهه ■ هژمارتنا هزری



سیروان یاریزانی ته پهیا سه لکی بوو، (۲۵) جاران ته پهیا خو هلاقیت، (۲۰) جاران گۆل کر. پاشی ۳ جاران ته پهیا خو هلاقیت، ههرسی جاران ژی گۆل کر. سیروانی چه ند گۆل کرن؟

۴

چالاکیا مال • داخوایی ژ زارپۆکی خو بکه بو ته دیاربکهت چهوا سه رجه می ۳۳ + ۱۴ دی ئینته دهه؟



# یهکان و دهان دی لیدرکه م

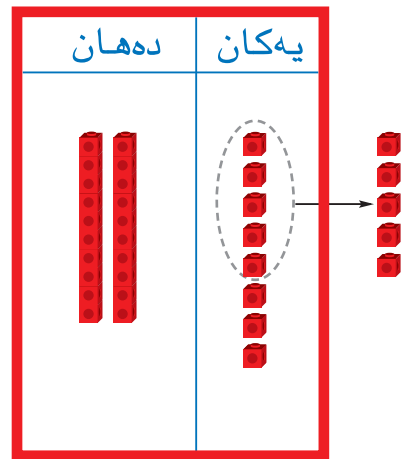
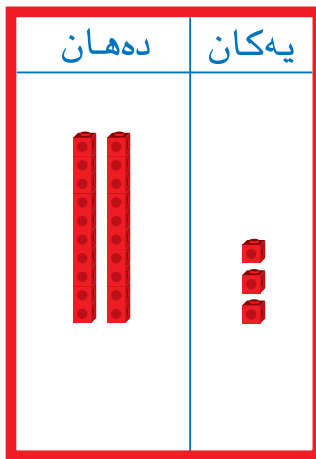
وانهیا ۳

۲۸ کوړان تیشتا سپیدی دخوار، ۵ ژوان خوارن بهسکرن و چوونه یارییان. چهند کوړ مان تیشتی دخون؟  
۲۸ ی دی دیارکه م. ۵ ی دی دهرکه م.

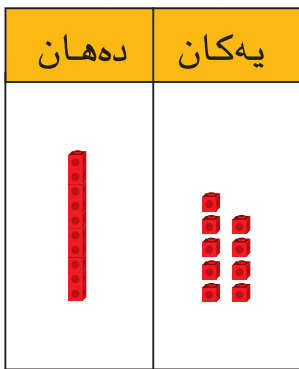
جوداهیی دی نقیسم

ماوه ۲۳

دهان	یهکان
۲	۸
	۵ -
کوړ	۳
۶	

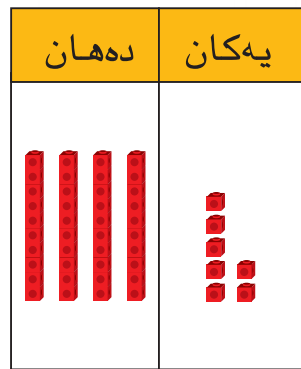


و دی بکارئینم دا لیدرکه م.



۲

دهان	یهکان
۱	۹
	۴ -




۱

دهان	یهکان
۴	۷
	۵ -



۴

دهان	یهکان
۲	۴
	۲ -



۳

دهان	یهکان
۳	۶
	۶ -



بهحسبکه دهرئنهجام

چهوا جوداهیییا ۲۷ - ۴ بی بکارئینانا

و دی ئینیهدر؟

# راهینانی دکهم



۱ و ۲ دى بكار ئينم دا ليدەربكەم. جوداهيى دى نقيسم.

دههان	يهكان

دههان	يهكان
۴	۵
	۲ -

۲

دههان	يهكان

دههان	يهكان
۳	۹
	۲ -
۳	۷

۱

دههان	يهكان

دههان	يهكان
۱	۷
	۳ -

۴

دههان	يهكان

دههان	يهكان
۲	۶
	۵ -

۳



## چەبر

ژمارهيا نهديار دى نقيسم.

$$\begin{array}{r} ۷۵ \\ \square - \\ \hline ۷۲ \end{array}$$

$$\begin{array}{r} ۱۸ \\ \square - \\ \hline ۱۴ \end{array}$$

$$\begin{array}{r} ۸۶ \\ \square - \\ \hline ۸۰ \end{array}$$

$$\begin{array}{r} ۴۹ \\ \square - \\ \hline ۴۱ \end{array}$$

۵

چالاكيا مال • داخوازي ژ زاروكى خو بکه بو ته رۆنېكەت چهوا جوداهييا ۴۸ - ۳ دى ئينتهدهر.

# پاھینانان ل سہر لیڈہر کرنی دی کہم

وانہیا ۴

دی لیڈہر کہم.

$$\begin{array}{r} 9 \\ 5 - \end{array}$$

$$\begin{array}{r} 8 \\ 3 - \end{array}$$

$$\begin{array}{r} 7 \\ 4 - \end{array}$$

۱

دی بکارئینم دا لیڈہر کہم.

$$\begin{array}{r} 50 \\ 50 - \end{array}$$

$$\begin{array}{r} 30 \\ 10 - \end{array}$$

$$\begin{array}{r} 50 \\ 40 - \end{array}$$

۲

بہرہف پاش دی ہژمیرم دا لیڈہر کہم.

$$\begin{array}{r} 11 \\ 5 - \end{array}$$

$$\begin{array}{r} 10 \\ 2 - \end{array}$$

$$\begin{array}{r} 14 \\ 3 - \end{array}$$

۳

و دی بکارئینم دا لیڈہر کہم.

$$\begin{array}{r} 75 \\ 2 - \end{array}$$

$$\begin{array}{r} 76 \\ 4 - \end{array}$$

$$\begin{array}{r} 65 \\ 5 - \end{array}$$

۴

ژمارہیا گونجای دی نقیسم.

$$\begin{array}{r} 13 \\ 9 - \end{array} \quad \begin{array}{r} 9 \\ 4 + \end{array}$$

$$\begin{array}{r} 11 \\ 3 - \end{array} \quad \begin{array}{r} 8 \\ 2 + \end{array}$$

۶

۵

بہحسبکہ ■ دہرئہنجام

چہوا جوداھیا ۵۶ - ۳ دی ئینیہدہر؟



# راهینانی دکهه

دی لیده رکهه.

$$\begin{array}{r} 7 \\ 1 - \end{array}$$

$$\begin{array}{r} 6 \\ 6 - \end{array}$$

$$\begin{array}{r} 9 \\ 3 - \end{array}$$

$$\begin{array}{r} 8 \\ 4 - \end{array}$$

۱

به رهف پاش دی هژمیوم دا لیده رکهه.

$$\begin{array}{r} 75 \\ 5 - \end{array}$$

$$\begin{array}{r} 49 \\ 4 - \end{array}$$

$$\begin{array}{r} 98 \\ 3 - \end{array}$$

$$\begin{array}{r} 37 \\ 2 - \end{array}$$

۲

ژماره یا گونجای دی نقیسم.

$$\begin{array}{r} 15 \\ 7 - \end{array}$$

$$\begin{array}{r} 8 \\ 7 + \end{array}$$

$$\begin{array}{r} 14 \\ 5 - \end{array}$$

$$\begin{array}{r} 9 \\ 5 + \end{array}$$


۴

۳

**پرسیاره کی دی شیکار کهه** ■ دی کومکهه یان دی لیده رکهه

۵ نزاری ۱۱ پینقیس کرین، پاشی ۳ پینقیسین دی کرین.  
نزاری چهند پینقیس کرین؟

۶ سامانی ۲۵ شه کروک کرین، ۴ ژوان خوارن. چهند  
شه کروک بو مان؟



چالاکیا مال • چهند پرسیاران بده زاروکی خو، شیکارا وان پیدقی بکارئینانا کومکرنی یان لیده رکنی هه بیت.  
بهیله رۆنیکهت کیژ کرداری دی هه لبرئیت.

# پرسیاره کی دی شیکار کهم

## دهرئه نجامی ژیریژی دی بکارئینم

وانهیا

تیدگههم پلانی ددانم شیکار کهم ساخدهکم

ئارمانجی ۶۵ پارچه پسکیت هه بوون،  
۲۲ پارچه ژوان دانه هه قالی خو.  
چهند پارچه ل نک مان؟

تیدگههم

داخوازکری چیه؟

پلانی ددانم

دی شیم دهرئه نجامی ژیریژی بکارئینم بو  
هه لیزارتنا بهرسقا بهرئاقل.

شیکار کهم

پارچه ۴۲

پارچه ۸۷

ساخدهکم

ئهری بهرسقا من یا بهرئاقله؟ ئهقی دی رۆنکه م.

بهرسقا گونجای دی دهوردهم بیی ئه نجامدانا  
کو مکرئی یان لیده رکرئی.

۱ دایکا من ۵۰ پارچه یین شینیا ب تاما  
قهسیان دروستکرن بو پوژا جهژنی، و ۴۰  
پارچه یین دی ب تاما لهیموونی. دایکا من  
چهند پارچه یین شینیی دروستکرن؟

۱۰ پارچه

۹۰ پارچه

۶۵ هه بوون، هندهک ژوان کر نه  
دیاری. پیدقییه بهرسقا ژ ۶۵ ی  
کیتر بیت.







# پیداچوون بهشی ۱۳ ای

ناف

سه رجه می دی نقیسم.

دهمان	یهکان
۶	۵
۱	۴ +

دهمان	یهکان
۲	۳
	۵ +

۵۶	۳۷
۳ +	۲ +

۸۰	۲۰
۱۰ +	۶۰ +

جوداهی دی نقیسم.

دهمان	یهکان
۲	۹
۱	۶ -

دهمان	یهکان
۵	۷
	۲ -

۹۸	۶۹
۲ -	۳ -

۶۰	۸۰
۴۰ -	۳۰ -

بەرھەقبوون بو  
ئەزموونی  
بەشی ١٣

ناف

بەرسقا گونجای دی هەلبژیرم.

\_\_\_\_\_ = ٣ + ٦٠ ۱

- ٧٣    ٦٣    ٥٧    ٥٦  
○    ○    ○    ○

٤٥  
٣٠ + ۲

- ٧٥    ٥٥    ٢٥    ١٥  
○    ○    ○    ○

٥٤  
٣ + ۳

- ٦٨    ٦٧    ٥٨    ٥٧  
○    ○    ○    ○

٢٩  
٢ + ۴

- ٤١    ٣٢    ٣١    ٢١  
○    ○    ○    ○

\_\_\_\_\_ = ٣ - ٤٠ ۵

- ٣٩    ٣٨    ٣٧    ٣٦  
○    ○    ○    ○

٥٧  
٢ - ۶

- ٦٥    ٥٥    ٥٤    ٤٥  
○    ○    ○    ○

۷ دایکا هوزانی هندهك شرينی دروستکرن. هوزانی پتر ژ ٣ ئ و کیمتر ژ ٦ شرينیان خوارن.

هوزانی چه ند پارچه خوارن؟

- ٥    ٦    ٧    ٨  
○    ○    ○    ○

